



Déterminez quelle lettre représente le mieux le poids.

Réponses


**Gramma (g)**

Un gramo es aproximadamente el peso de un clip.



**Kilogramo (kilogramo)**

Un kilogramo es aproximadamente el peso de un libro grueso.




**Recuerda:**

Kilo significa 1,000. Entonces, un kilogramo son 1,000 gramos. 1 kilogramo también pesa aproximadamente lo mismo que 2 libras.

1. \_\_\_\_\_
2. \_\_\_\_\_
3. \_\_\_\_\_
4. \_\_\_\_\_
5. \_\_\_\_\_
6. \_\_\_\_\_
7. \_\_\_\_\_
8. \_\_\_\_\_
9. \_\_\_\_\_

1)



Papier pour cahier

- A. 1 kilogramm
- B. 3 grammes
- C. 500 grammes
- D. 85 grammes

2)




planche à roulette

- A. 20 grammes
- B. 15 kilogrammes
- C. 2 kilogrammes
- D. 200 grammes


3)



Balais

- A. 500 grammes
- B. 10 kilogrammes
- C. 10 grammes
- D. 200 kilogrammes

4)



Poire

- A. 2 kilogrammes
- B. 170 kilogrammes
- C. 170 grammes
- D. 2 grammes

5)



Tondeuse à gazon

- A. 500 grammes
- B. 100 kilogrammes
- C. 200 grammes
- D. 22 kilogrammes

6)



Classeur

- A. 55 kilogrammes
- B. 1 gramm
- C. 300 grammes
- D. 1 kilogramm

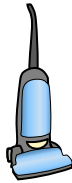
7)



Montre-bracelet

- A. 1 gramm
- B. 90 grammes
- C. 1 kilogramm
- D. 500 kilogrammes


8)



Vide

- A. 20 kilogrammes
- B. 90 grammes
- C. 500 kilogrammes
- D. 50 grammes

9)



Pomme

- A. 5 grammes
- B. 200 kilogrammes
- C. 200 grammes
- D. 5 kilogrammes



Déterminez quelle lettre représente le mieux le poids.


**Gramma (g)**

Un gramo es aproximadamente el peso de un clip.



**Kilogramo (kilogramo)**

Un kilogramo es aproximadamente el peso de un libro grueso.




**Recuerda:**

Kilo significa 1,000. Entonces, un kilogramo son 1,000 gramos. 1 kilogramo también pesa aproximadamente lo mismo que 2 libras.

**Réponses**

1)



Papier pour cahier

- A. 1 kilogramm
- B. 3 grammes
- C. 500 grammes
- D. 85 grammes

2)




planche à roulette

- A. 20 grammes
- B. 15 kilogrammes
- C. 2 kilogrammes
- D. 200 grammes


3)



Balais

- A. 500 grammes
- B. 10 kilogrammes
- C. 10 grammes
- D. 200 kilogrammes


4)



Poire

- A. 2 kilogrammes
- B. 170 kilogrammes
- C. 170 grammes
- D. 2 grammes

5)



Tondeuse à gazon

- A. 500 grammes
- B. 100 kilogrammes
- C. 200 grammes
- D. 22 kilogrammes

6)



Classeur

- A. 55 kilogrammes
- B. 1 gramm
- C. 300 grammes
- D. 1 kilogramm

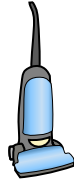
7)



Montre-bracelet

- A. 1 gramm
- B. 90 grammes
- C. 1 kilogramm
- D. 500 kilogrammes


8)



Vide

- A. 20 kilogrammes
- B. 90 grammes
- C. 500 kilogrammes
- D. 50 grammes

9)



Pomme

- A. 5 grammes
- B. 200 kilogrammes
- C. 200 grammes
- D. 5 kilogrammes

- 1.     **B**
- 2.     **C**
- 3.     **A**
- 4.     **C**
- 5.     **D**
- 6.     **A**
- 7.     **B**
- 8.     **A**
- 9.     **C**