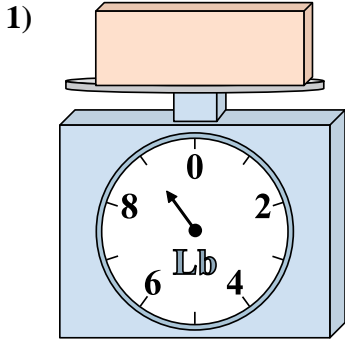


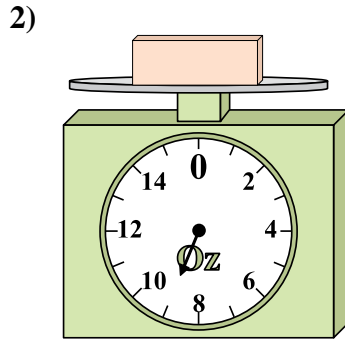


Utilisez la balance pour répondre à chaque question.

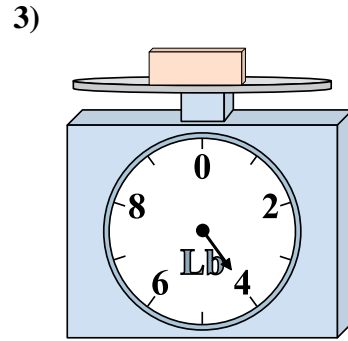
Réponses



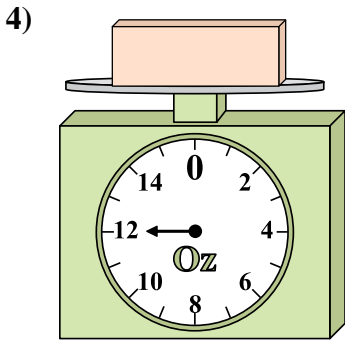
Si le bloc indique qu'il est 4 livres plus léger, combien pèse t-il?



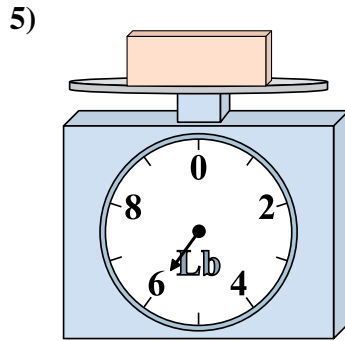
Quel est le poids (en onces)) d'un bloce?



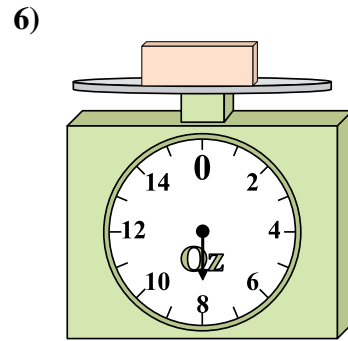
Quel est le poids (en livres) d'un bloce?



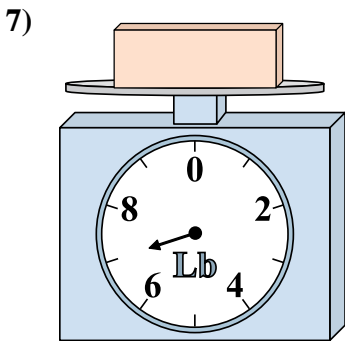
Si vous avez 2 blocs qui font le même poids, combien de onces total pèsent tous les blocs?



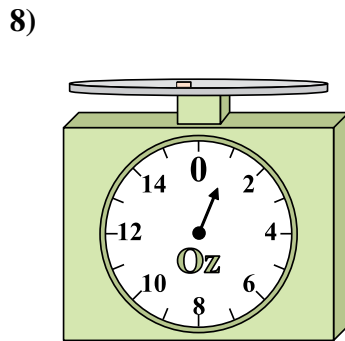
Si le bloc indique qu'il est 2 livres plus léger, combien pèse t-il?



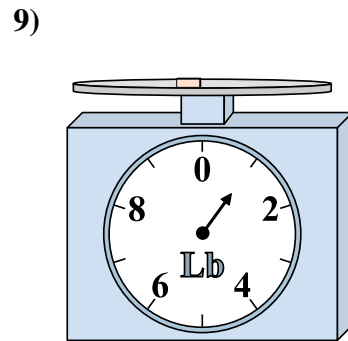
Si vous avez 5 blocs qui font le même poids, combien de onces total pèsent tous les blocs?



Si le bloc indique qu'il est 2 livres plus lourd, combien pèse t-il?



Si vous avez 6 blocs qui font le même poids, combien de onces total pèsent tous les blocs?

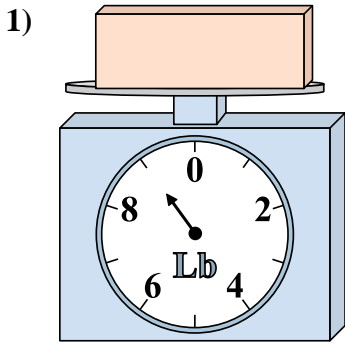


Si le bloc indique qu'il est 4 livres plus lourd, combien pèse t-il?

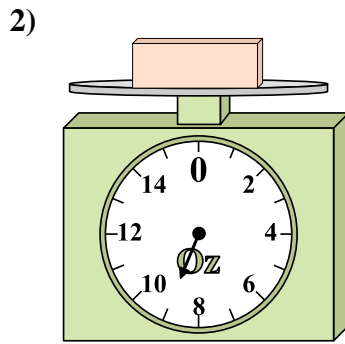
- 1. _____
- 2. _____
- 3. _____
- 4. _____
- 5. _____
- 6. _____
- 7. _____
- 8. _____
- 9. _____



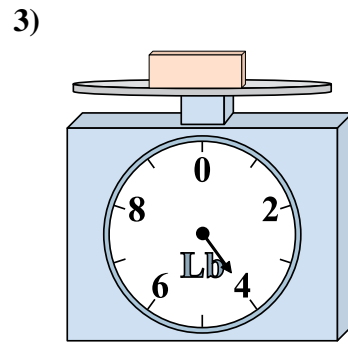
Utilisez la balance pour répondre à chaque question.



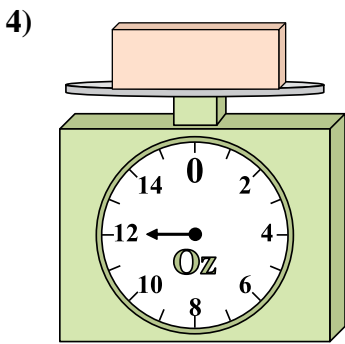
1) Si le bloc indique qu'il est 4 livres plus léger, combien pèse t-il?



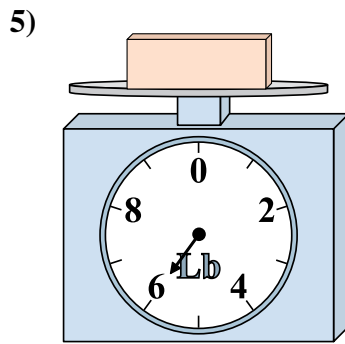
2) Quel est le poids (en onces) d'un bloce?



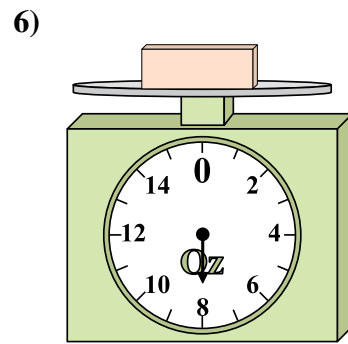
3) Quel est le poids (en livres) d'un bloce?



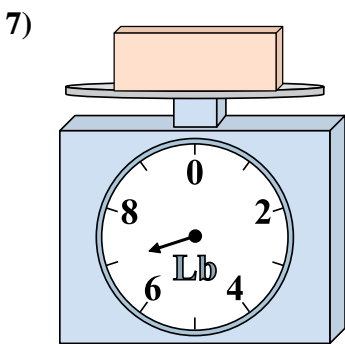
4) Si vous avez 2 blocs qui font le même poids, combien de onces total pèsent tous les blocs?



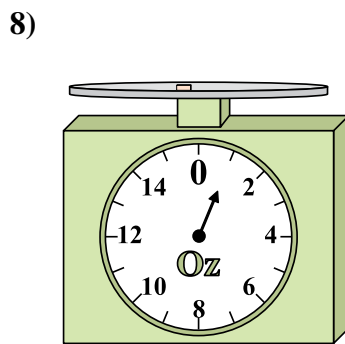
5) Si le bloc indique qu'il est 2 livres plus léger, combien pèse t-il?



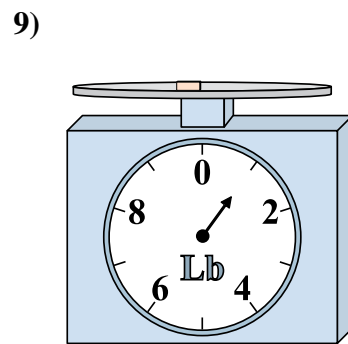
6) Si vous avez 5 blocs qui font le même poids, combien de onces total pèsent tous les blocs?



7) Si le bloc indique qu'il est 2 livres plus lourd, combien pèse t-il?



8) Si vous avez 6 blocs qui font le même poids, combien de onces total pèsent tous les blocs?



9) Si le bloc indique qu'il est 4 livres plus lourd, combien pèse t-il?

Réponses

- 1. 5
- 2. 9
- 3. 4
- 4. 24
- 5. 4
- 6. 40
- 7. 9
- 8. 6
- 9. 5