




Utilisez la balance pour répondre à chaque question.


Réponses

1)




Quel est le poids (en livres) d'un bloc?

2)




Si le bloc indique qu'il est 8 onces plus lourd, combien pèse t-il?

3)



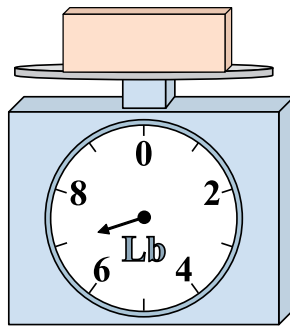
Si vous avez 2 blocs qui font le même poids, combien de livres total pèsent tous les blocs?

4)



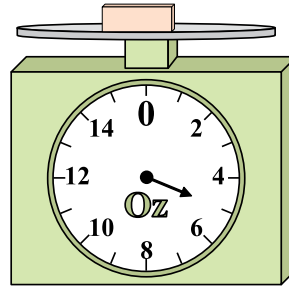
Si vous avez 8 blocs qui font le même poids, combien de onces total pèsent tous les blocs?

5)



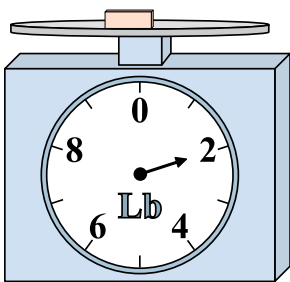
Si le bloc indique qu'il est 2 livres plus lourd, combien pèse t-il?

6)




Si le bloc indique qu'il est 4 onces plus léger, combien pèse t-il?

7)




Si vous avez 8 blocs qui font le même poids, combien de livres total pèsent tous les blocs?

8)



Quel est le poids (en onces) d'un bloc?

9)

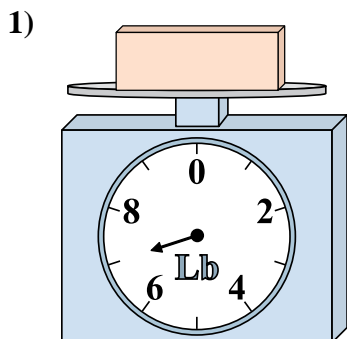


Si le bloc indique qu'il est 3 livres plus léger, combien pèse t-il?

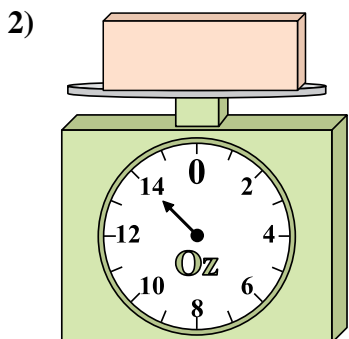
1. _____
2. _____
3. _____
4. _____
5. _____
6. _____
7. _____
8. _____
9. _____



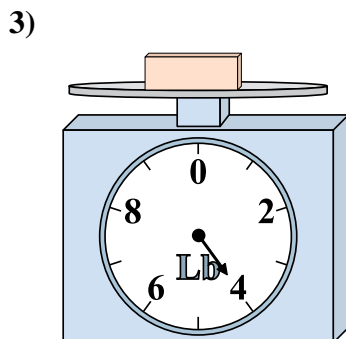
Utilisez la balance pour répondre à chaque question.



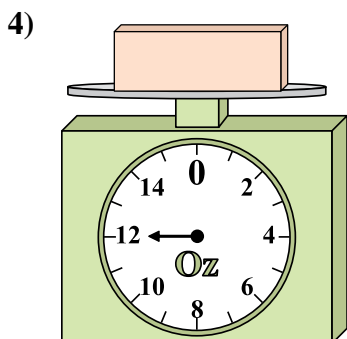
Quel est le poids (en livres) d'un bloc?



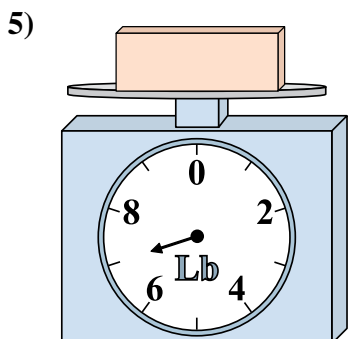
Si le bloc indique qu'il est 8 onces plus lourd, combien pèse t-il?



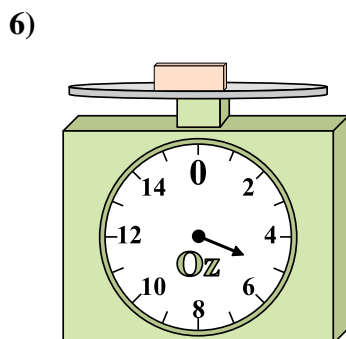
Si vous avez 2 blocs qui font le même poids, combien de livres total pèsent tous les blocs?



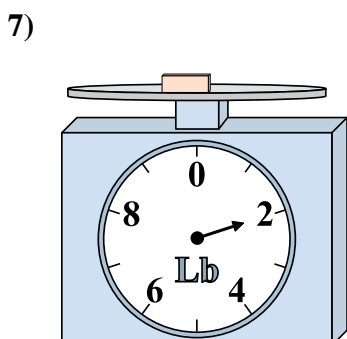
Si vous avez 8 blocs qui font le même poids, combien de onces total pèsent tous les blocs?



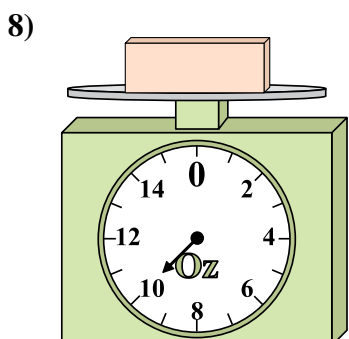
Si le bloc indique qu'il est 2 livres plus lourd, combien pèse t-il?



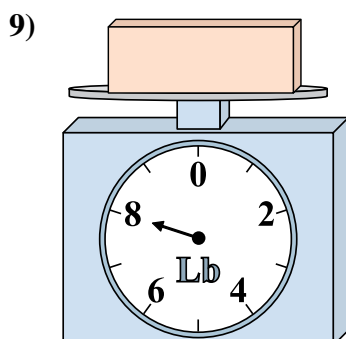
Si le bloc indique qu'il est 4 onces plus léger, combien pèse t-il?



Si vous avez 8 blocs qui font le même poids, combien de livres total pèsent tous les blocs?



Quel est le poids (en onces) d'un bloc?



Si le bloc indique qu'il est 3 livres plus léger, combien pèse t-il?

Réponses

1. 7

2. 22

3. 8

4. 96

5. 9

6. 1

7. 16

8. 10

9. 5