



Résoudre chaque problème.

- 1) Le rectangle ci-dessous a les dimensions 3×8 . Créez un rectangle avec la même aire, mais un périmètre différent.




- 2) Le rectangle ci-dessous a les dimensions 1×10 . Créez un rectangle avec la même aire, mais un périmètre différent.



- 3) Le rectangle ci-dessous a les dimensions 2×2 . Créez un rectangle avec la même aire, mais un périmètre différent.



- 4) Le rectangle ci-dessous a les dimensions 4×10 . Créez un rectangle avec la même aire, mais un périmètre différent.



- 5) Le rectangle ci-dessous a les dimensions 3×3 . Créez un rectangle avec la même aire, mais un périmètre différent.



Réponses

1. _____

2. _____

3. _____


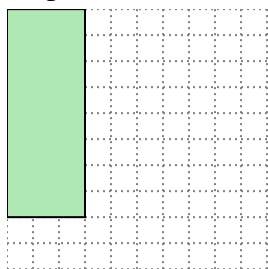
4. _____

5. _____

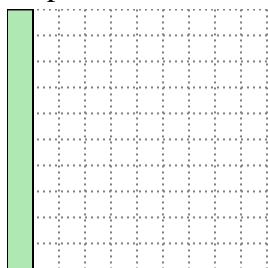


Résoudre chaque problème.


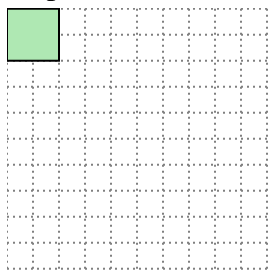
- 1) Le rectangle ci-dessous a les dimensions 3×8 . Créez un rectangle avec la même aire, mais un périmètre différent.

 4×6



- 2) Le rectangle ci-dessous a les dimensions 1×10 . Créez un rectangle avec la même aire, mais un périmètre différent.

 2×5


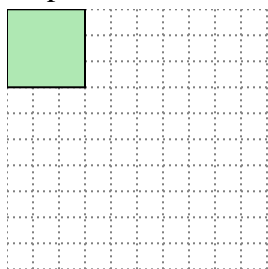
- 3) Le rectangle ci-dessous a les dimensions 2×2 . Créez un rectangle avec la même aire, mais un périmètre différent.

 1×4

- 4) Le rectangle ci-dessous a les dimensions 4×10 . Créez un rectangle avec la même aire, mais un périmètre différent.

 5×8

- 5) Le rectangle ci-dessous a les dimensions 3×3 . Créez un rectangle avec la même aire, mais un périmètre différent.

 1×9 **Réponses**1. 4x62. 2x53. 1x44. 5x85. 1x9