



**Déterminez quelle lettre représente le mieux le volume.**

**Réponses**

**Xícara**

Una taza se refiere a la cantidad de leche que se obtiene de la cafetería.



**Pinta**

Uma pinta é aproximadamente a quantidade que você recebe em um copo grande.  
1 pinta = 2 xícaras



**Quarto**

Um quarto é mais ou menos a quantidade que você consegue em um recipiente grande de leite.  
1 cuarto = 2 pintas




**Galón**

Un galón es la cantidad que viene en un recipiente de plástico grande.  
1 galón = 4 cuartos



1. \_\_\_\_\_
2. \_\_\_\_\_
3. \_\_\_\_\_
4. \_\_\_\_\_
5. \_\_\_\_\_
6. \_\_\_\_\_
7. \_\_\_\_\_
8. \_\_\_\_\_
9. \_\_\_\_\_

1)



Réservoir d'essence dans une voiture

- A. 16 tasses
- B. 4 pints
- C. 3 quarts
- D. 15 gallons

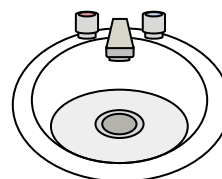
2)



Dentifrice en tube

- A. 0.5 gallons
- B. 5 grammes
- C. 5 quarts
- D. 0.5 tasses

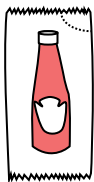
3)



Eau dans le lavabo de la salle de bain

- A. 2 pints
- B. 2 fluid ounces
- C. 2 gallons
- D. 2 tasses

4)



Ketchup dans un paquet

- A. 2 quarts
- B. 0.5 gallons
- C. moins que 1 tasse
- D. 1.5 pints


5)



Coller dans une bouteille

- A. 1 pint
- B. 3 gallons
- C. 0.5 tasses
- D. 2 quarts

6)



Sable une brouette tient

- A. 45 gallons
- B. 1000 grammes
- C. 8 quarts
- D. 4 tasses

7)



Sable dans un seau

- A. 7 fluid ounces
- B. 1 gallon
- C. 32 gallons
- D. 1 tasse

8)



Liquide qu'une cuillère contient

- A. Less than a cup
- B. 1 tasse
- C. 1 pint
- D. 1 quart

9)



Soda en canette

- A. 1 gallon
- B. 1.5 tasses
- C. 4 tasses
- D. 4 pints



Déterminez quelle lettre représente le mieux le volume.

Réponses

**Xícara**

Una taza se refiere a la cantidad de leche que se obtiene de la cafetería.



**Pinta**

Uma pinta é aproximadamente a quantidade que você recebe em um copo grande.  
1 pinta = 2 xícaras



**Quarto**

Um quarto é mais ou menos a quantidade que você consegue em um recipiente grande de leite.  
1 cuarto = 2 pintas



**Galón**

Un galón es la cantidad que viene en un recipiente de plástico grande.  
1 galón = 4 cuartos



1.     **D**    

2.     **D**    

3.     **C**    

4.     **C**    

5.     **C**    


6.     **A**    

7.     **B**    

8.     **A**    

9.     **B**    

1)



Réservoir d'essence dans une voiture

- A. 16 tasses
- B. 4 pints
- C. 3 quarts
- D. 15 gallons

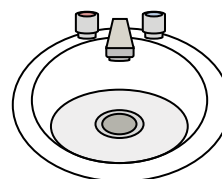
2)



Dentifrice en tube

- A. 0.5 gallons
- B. 5 grammes
- C. 5 quarts
- D. 0.5 tasses

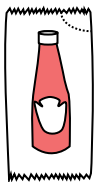
3)



Eau dans le lavabo de la salle de bain

- A. 2 pints
- B. 2 fluid ounces
- C. 2 gallons
- D. 2 tasses

4)



Ketchup dans un paquet

- A. 2 quarts
- B. 0.5 gallons
- C. moins que 1 tasse
- D. 1.5 pints


5)



Coller dans une bouteille

- A. 1 pint
- B. 3 gallons
- C. 0.5 tasses
- D. 2 quarts

6)



Sable une brouette tient

- A. 45 gallons
- B. 1000 grammes
- C. 8 quarts
- D. 4 tasses

7)



Sable dans un seau

- A. 7 fluid ounces
- B. 1 gallon
- C. 32 gallons
- D. 1 tasse

8)



Liquide qu'une cuillère contient

- A. Less than a cup
- B. 1 tasse
- C. 1 pint
- D. 1 quart

9)



Soda en canette

- A. 1 gallon
- B. 1.5 tasses
- C. 4 tasses
- D. 4 pints