



**Déterminez quelle lettre représente le mieux le volume.**

**Réponses**

**Xícara**

Una taza se refiere a la cantidad de leche que se obtiene de la cafetería.



**Pinta**

Uma pinta é aproximadamente a quantidade que você recebe em um copo grande.  
1 pinta = 2 xícaras



**Quarto**

Um quarto é mais ou menos a quantidade que você consegue em um recipiente grande de leite.  
1 cuarto = 2 pintas



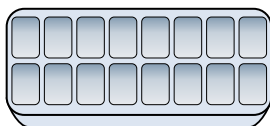
**Galón**

Un galón es la cantidad que viene en un recipiente de plástico grande.  
1 galón = 4 cuartos



1. \_\_\_\_\_
2. \_\_\_\_\_
3. \_\_\_\_\_
4. \_\_\_\_\_
5. \_\_\_\_\_
6. \_\_\_\_\_
7. \_\_\_\_\_
8. \_\_\_\_\_
9. \_\_\_\_\_

1)



De l'eau dans un bac à glaçons

- A. 10 gallons
- B. 1 pint
- C. 4 pints
- D. 1 gallon

2)



Soda en canette

- A. 1.5 tasses
- B. 4 tasses
- C. 4 pints
- D. 1 gallon


3)



Tasse à mesurer

- A. 1 quart
- B. 1 pint
- C. 1 gallon
- D. 1 tasse


4)



Sable une brouette tient

- A. 4 tasses
- B. 1000 grammes
- C. 45 gallons
- D. 8 quarts


5)



Réservoir d'essence dans une voiture

- A. 16 tasses
- B. 4 pints
- C. 15 gallons
- D. 3 quarts

6)



La pipette tient

- A. moins que 1 tasse
- B. 1 tasse
- C. 3 gallons
- D. 1 pint

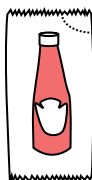
7)



2 litre de soda

- A. 2 tasses
- B. 1 pint
- C. 0.5 gallons
- D. 5 gallons

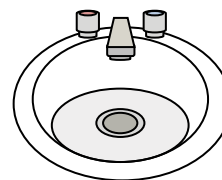
8)



Ketchup dans un paquet

- A. 0.5 gallons
- B. moins que 1 tasse
- C. 1.5 pints
- D. 2 quarts

9)



Eau dans le lavabo de la salle de bain

- A. 2 tasses
- B. 2 gallons
- C. 2 pints
- D. 2 fluid ounces



Déterminez quelle lettre représente le mieux le volume.

Réponses

**Xícara**

Una taza se refiere a la cantidad de leche que se obtiene de la cafetería.



**Pinta**

Uma pinta é aproximadamente a quantidade que você recebe em um copo grande.  
1 pinta = 2 xícaras



**Quarto**

Um quarto é mais ou menos a quantidade que você consegue em um recipiente grande de leite.  
1 cuarto = 2 pintas



**Galón**

Un galón es la cantidad que viene en un recipiente de plástico grande.  
1 galón = 4 cuartos



1. **B**

2. **A**

3. **D**

4. **C**

5. **C**

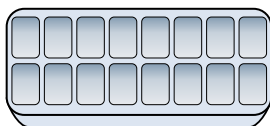
6. **A**

7. **C**

8. **B**

9. **B**


1)



De l'eau dans un bac à glaçons

- A. 10 gallons
- B. 1 pint
- C. 4 pints
- D. 1 gallon

2)



Soda en canette

- A. 1.5 tasses
- B. 4 tasses
- C. 4 pints
- D. 1 gallon


3)



Tasse à mesurer

- A. 1 quart
- B. 1 pint
- C. 1 gallon
- D. 1 tasse


4)



Sable une brouette tient

- A. 4 tasses
- B. 1000 grammes
- C. 45 gallons
- D. 8 quarts


5)



Réservoir d'essence dans une voiture

- A. 16 tasses
- B. 4 pints
- C. 15 gallons
- D. 3 quarts

6)



La pipette tient

- A. moins que 1 tasse
- B. 1 tasse
- C. 3 gallons
- D. 1 pint


7)



2 litre de soda

- A. 2 tasses
- B. 1 pint
- C. 0.5 gallons
- D. 5 gallons

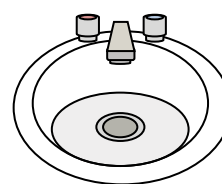
8)



Ketchup dans un paquet

- A. 0.5 gallons
- B. moins que 1 tasse
- C. 1.5 pints
- D. 2 quarts

9)



Eau dans le lavabo de la salle de bain

- A. 2 tasses
- B. 2 gallons
- C. 2 pints
- D. 2 fluid ounces