



Déterminez quelle lettre représente le mieux le volume.

Réponses

Xícara

Una taza se refiere a la cantidad de leche que se obtiene de la cafetería.



Pinta

Uma pinta é aproximadamente a quantidade que você recebe em um copo grande.
1 pinta = 2 xícaras



Quarto

Um quarto é mais ou menos a quantidade que você consegue em um recipiente grande de leite.
1 cuarto = 2 pintas



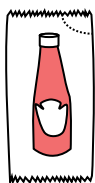
Galón

Un galón es la cantidad que viene en un recipiente de plástico grande.
1 galón = 4 cuartos



1. _____
2. _____
3. _____
4. _____
5. _____
6. _____
7. _____
8. _____
9. _____


1)



Ketchup dans un paquet

- A. 1.5 pints
- B. 2 quarts
- C. 0.5 gallons
- D. moins que 1 tasse

2)



Glacière

- A. 2 quarts
- B. 16 tasses
- C. 100 quarts
- D. 5 gallons


3)



Sable dans un seau

- A. 1 tasse
- B. 1 gallon
- C. 32 gallons
- D. 7 fluid ounces

4)



L'eau qu'un baril contient

- A. 20 tasses
- B. 3 inches
- C. 50 gallons
- D. 10 pints

5)



Bol de céréales

- A. 4 pints
- B. 0.5 gallons
- C. 1 pint
- D. 2 gallons

6)



2 litre de soda

- A. 5 gallons
- B. 0.5 gallons
- C. 2 tasses
- D. 1 pint

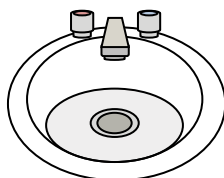
7)



Encre dans un stylo

- A. 2 pints
- B. 1 gallon
- C. moins que 1 tasse
- D. 1 quart

8)



Eau dans le lavabo de la salle de bain

- A. 2 tasses
- B. 2 gallons
- C. 2 pints
- D. 2 fluid ounces

9)



Liquide qu'une cuillère contient

- A. 1 quart
- B. 1 tasse
- C. 1 pint
- D. Less than a cup



Déterminez quelle lettre représente le mieux le volume.

Réponses

Xícara

Una taza se refiere a la cantidad de leche que se obtiene de la cafetería.



Pinta

Uma pinta é aproximadamente a quantidade que você recebe em um copo grande.
1 pinta = 2 xícaras



Quarto

Um quarto é mais ou menos a quantidade que você consegue em um recipiente grande de leite.
1 cuarto = 2 pintas



Galón

Un galón es la cantidad que viene en un recipiente de plástico grande.
1 galón = 4 cuartos



1. **D**

2. **C**

3. **B**

4. **C**

5. **C**

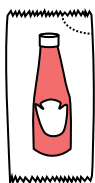
6. **B**

7. **C**

8. **B**

9. **D**


1)



Ketchup dans un paquet

- A. 1.5 pints
- B. 2 quarts
- C. 0.5 gallons
- D. moins que 1 tasse

2)



Glacière

- A. 2 quarts
- B. 16 tasses
- C. 100 quarts
- D. 5 gallons


3)



Sable dans un seau

- A. 1 tasse
- B. 1 gallon
- C. 32 gallons
- D. 7 fluid ounces

4)



L'eau qu'un baril contient

- A. 20 tasses
- B. 3 inches
- C. 50 gallons
- D. 10 pints

5)



Bol de céréales

- A. 4 pints
- B. 0.5 gallons
- C. 1 pint
- D. 2 gallons

6)



2 litre de soda

- A. 5 gallons
- B. 0.5 gallons
- C. 2 tasses
- D. 1 pint

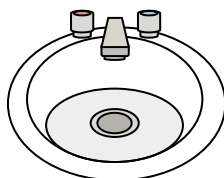
7)



Encre dans un stylo

- A. 2 pints
- B. 1 gallon
- C. moins que 1 tasse
- D. 1 quart

8)



Eau dans le lavabo de la salle de bain

- A. 2 tasses
- B. 2 gallons
- C. 2 pints
- D. 2 fluid ounces

9)



Liquide qu'une cuillère contient

- A. 1 quart
- B. 1 tasse
- C. 1 pint
- D. Less than a cup



Déterminez quelle lettre représente le mieux le volume.

Réponses

Xícara

Una taza se refiere a la cantidad de leche que se obtiene de la cafetería.



Pinta

Uma pinta é aproximadamente a quantidade que você recebe em um copo grande.
1 pinta = 2 xícaras



Quarto

Um quarto é mais ou menos a quantidade que você consegue em um recipiente grande de leite.
1 cuarto = 2 pintas




Galón

Un galón es la cantidad que viene en un recipiente de plástico grande.
1 galón = 4 cuartos



1. _____
2. _____
3. _____
4. _____
5. _____
6. _____
7. _____
8. _____
9. _____

1)



L'eau qu'un baril contient

- A. 50 gallons
- B. 20 tasses
- C. 3 inches
- D. 10 pints

2)



Soda en canette

- A. 4 tasses
- B. 1 gallon
- C. 4 pints
- D. 1.5 tasses

3)



Farine dans un lot de cookies

- A. 5 gallons
- B. 2 quarts
- C. 1.5 tasses
- D. 2 gallons

4)



Sable dans un seau

- A. 7 fluid ounces
- B. 1 tasse
- C. 1 gallon
- D. 32 gallons

5)



Tasse à mesurer

- A. 1 tasse
- B. 1 gallon
- C. 1 quart
- D. 1 pint


6)



Farine dans une poêle de brownies

- A. 3 gallons
- B. 2 tasses
- C. 8 gallons
- D. 16 quarts

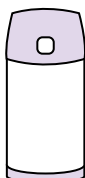
7)



Sable une brouette tient

- A. 8 quarts
- B. 45 gallons
- C. 1000 grammes
- D. 4 tasses

8)



Liquide dans un thermos

- A. 1 tasse
- B. 1 gallon
- C. 2 livres
- D. 4 quarts

9)



De l'eau pour une plante d'intérieur

- A. 3 gallons
- B. 6 quarts
- C. 4 livres
- D. 2 tasses



Déterminez quelle lettre représente le mieux le volume.

Réponses

Xícara

Una taza se refiere a la cantidad de leche que se obtiene de la cafetería.



Pinta

Uma pinta é aproximadamente a quantidade que você recebe em um copo grande.
1 pinta = 2 xícaras



Quarto

Um quarto é mais ou menos a quantidade que você consegue em um recipiente grande de leite.
1 cuarto = 2 pintas




Galón

Un galón es la cantidad que viene en un recipiente de plástico grande.
1 galón = 4 cuartos



1)



L'eau qu'un baril contient

- A. 50 gallons
- B. 20 tasses
- C. 3 inches
- D. 10 pints

2)



Soda en canette

- A. 4 tasses
- B. 1 gallon
- C. 4 pints
- D. 1.5 tasses

3)



Farine dans un lot de cookies

- A. 5 gallons
- B. 2 quarts
- C. 1.5 tasses
- D. 2 gallons

4)



Sable dans un seau

- A. 7 fluid ounces
- B. 1 tasse
- C. 1 gallon
- D. 32 gallons

5)



Tasse à mesurer

- A. 1 tasse
- B. 1 gallon
- C. 1 quart
- D. 1 pint


6)



Farine dans une poêle de brownies

- A. 3 gallons
- B. 2 tasses
- C. 8 gallons
- D. 16 quarts

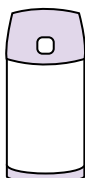
7)



Sable une brouette tient

- A. 8 quarts
- B. 45 gallons
- C. 1000 grammes
- D. 4 tasses

8)



Liquide dans un thermos

- A. 1 tasse
- B. 1 gallon
- C. 2 livres
- D. 4 quarts

9)



De l'eau pour une plante d'intérieur

- A. 3 gallons
- B. 6 quarts
- C. 4 livres
- D. 2 tasses

- 1. **A**
- 2. **D**
- 3. **C**
- 4. **C**
- 5. **A**
- 6. **B**
- 7. **B**
- 8. **A**
- 9. **D**



Déterminez quelle lettre représente le mieux le volume.

Réponses

Xícara

Una taza se refiere a la cantidad de leche que se obtiene de la cafetería.



Pinta

Uma pinta é aproximadamente a quantidade que você recebe em um copo grande.
1 pinta = 2 xícaras



Quarto

Um quarto é mais ou menos a quantidade que você consegue em um recipiente grande de leite.
1 cuarto = 2 pintas



Galón

Un galón es la cantidad que viene en un recipiente de plástico grande.
1 galón = 4 cuartos



1. _____
2. _____
3. _____
4. _____
5. _____
6. _____
7. _____
8. _____
9. _____

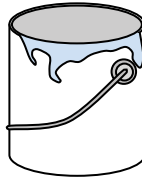
1)



Dentifrice en tube

- A. 0.5 tasses
- B. 0.5 gallons
- C. 5 quarts
- D. 5 grammes

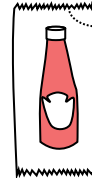
2)



Peindre dans un pot

- A. 0.5 pints
- B. 3 fluid ounces
- C. 1 gallon
- D. 1 tasse

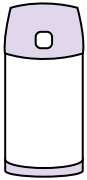
3)



Ketchup dans un paquet

- A. 2 quarts
- B. moins que 1 tasse
- C. 1.5 pints
- D. 0.5 gallons

4)



Liquide dans un thermos

- A. 1 gallon
- B. 1 tasse
- C. 2 livres
- D. 4 quarts

5)



Shampooing en bouteille

- A. 2 pints
- B. 0.5 gallons
- C. 100 tasses
- D. 1 tasse

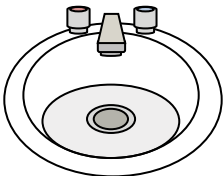
6)



Coller dans une bouteille

- A. 0.5 tasses
- B. 2 quarts
- C. 1 pint
- D. 3 gallons

7)



Eau dans le lavabo de la salle de bain

- A. 2 gallons
- B. 2 fluid ounces
- C. 2 pints
- D. 2 tasses


8)



Liquide dans une tasse de thé

- A. 1 tasse
- B. 1 gallon
- C. 1 quart
- D. 1 pint

9)



Sable une brouette tient

- A. 45 gallons
- B. 1000 grammes
- C. 4 tasses
- D. 8 quarts



Déterminez quelle lettre représente le mieux le volume.

Réponses

Xícara

Una taza se refiere a la cantidad de leche que se obtiene de la cafetería.



Pinta

Uma pinta é aproximadamente a quantidade que você recebe em um copo grande.
1 pinta = 2 xícaras



Quarto

Um quarto é mais ou menos a quantidade que você consegue em um recipiente grande de leite.
1 cuarto = 2 pintas



Galón

Un galón es la cantidad que viene en un recipiente de plástico grande.
1 galón = 4 cuartos



1. **A**

2. **C**

3. **B**

4. **B**

5. **A**

6. **A**

7. **A**

8. **A**

9. **A**

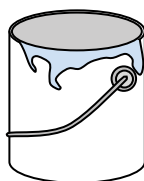
1)



Dentifrice en tube

- A. 0.5 tasses
- B. 0.5 gallons
- C. 5 quarts
- D. 5 grammes

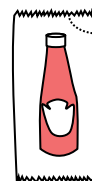
2)



Peindre dans un pot

- A. 0.5 pints
- B. 3 fluid ounces
- C. 1 gallon
- D. 1 tasse

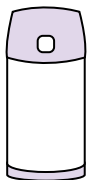
3)



Ketchup dans un paquet

- A. 2 quarts
- B. moins que 1 tasse
- C. 1.5 pints
- D. 0.5 gallons

4)



Liquide dans un thermos

- A. 1 gallon
- B. 1 tasse
- C. 2 livres
- D. 4 quarts

5)



Shampooing en bouteille

- A. 2 pints
- B. 0.5 gallons
- C. 100 tasses
- D. 1 tasse

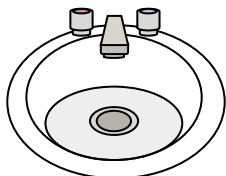
6)



Coller dans une bouteille

- A. 0.5 tasses
- B. 2 quarts
- C. 1 pint
- D. 3 gallons

7)



Eau dans le lavabo de la salle de bain

- A. 2 gallons
- B. 2 fluid ounces
- C. 2 pints
- D. 2 tasses


8)



Liquide dans une tasse de thé

- A. 1 tasse
- B. 1 gallon
- C. 1 quart
- D. 1 pint

9)



Sable une brouette tient

- A. 45 gallons
- B. 1000 grammes
- C. 4 tasses
- D. 8 quarts



Déterminez quelle lettre représente le mieux le volume.

Réponses

Xícara

Una taza se refiere a la cantidad de leche que se obtiene de la cafetería.



Pinta

Uma pinta é aproximadamente a quantidade que você recebe em um copo grande.
1 pinta = 2 xícaras



Quarto

Um quarto é mais ou menos a quantidade que você consegue em um recipiente grande de leite.
1 cuarto = 2 pintas



Galón

Un galón es la cantidad que viene en un recipiente de plástico grande.
1 galón = 4 cuartos



1. _____
2. _____
3. _____
4. _____
5. _____
6. _____
7. _____
8. _____
9. _____

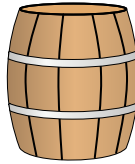
1)



De l'eau pour une plante d'intérieur

- A. 3 gallons
- B. 2 tasses
- C. 6 quarts
- D. 4 livres

2)



L'eau qu'un baril contient

- A. 20 tasses
- B. 50 gallons
- C. 3 inches
- D. 10 pintas

3)



Peindre dans un pot

- A. 3 fluid ounces
- B. 1 tasse
- C. 1 gallon
- D. 0.5 pintas

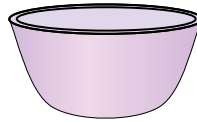
4)



Encre dans un stylo

- A. 1 quart
- B. moins que 1 tasse
- C. 1 gallon
- D. 2 pintas


5)



Bol de céréales

- A. 2 gallons
- B. 1 pint
- C. 4 pintas
- D. 0.5 gallons

6)



Liquide dans un thermos

- A. 2 livres
- B. 4 quarts
- C. 1 gallon
- D. 1 tasse

7)



Liquide dans une tasse de thé

- A. 1 pint
- B. 1 quart
- C. 1 tasse
- D. 1 gallon


8)



Farine dans un lot de cookies

- A. 2 quarts
- B. 1.5 tasses
- C. 2 gallons
- D. 5 gallons

9)



Liquide dans un pichet

- A. 1 pint
- B. 2 quarts
- C. 8 gallons
- D. 2 tasses



Déterminez quelle lettre représente le mieux le volume.

Réponses

Xícara

Una taza se refiere a la cantidad de leche que se obtiene de la cafetería.



Pinta

Uma pinta é aproximadamente a quantidade que você recebe em um copo grande.
1 pinta = 2 xícaras



Quarto

Um quarto é mais ou menos a quantidade que você consegue em um recipiente grande de leite.
1 cuarto = 2 pintas



Galón

Un galón es la cantidad que viene en un recipiente de plástico grande.
1 galón = 4 cuartos



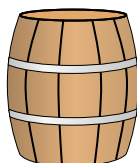
1)



De l'eau pour une plante d'intérieur

- A. 3 gallons
- B. 2 tasses
- C. 6 quarts
- D. 4 livres

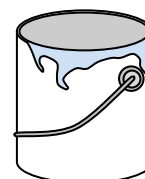
2)



L'eau qu'un baril contient

- A. 20 tasses
- B. 50 gallons
- C. 3 inches
- D. 10 pintas

3)



Peindre dans un pot

- A. 3 fluid ounces
- B. 1 tasse
- C. 1 gallon
- D. 0.5 pintas

4)



Encre dans un stylo

- A. 1 quart
- B. moins que 1 tasse
- C. 1 gallon
- D. 2 pintas

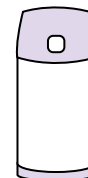
5)



Bol de céréales

- A. 2 gallons
- B. 1 pint
- C. 4 pintas
- D. 0.5 gallons

6)



Liquide dans un thermos

- A. 2 livres
- B. 4 quarts
- C. 1 gallon
- D. 1 tasse

7)



Liquide dans une tasse de thé

- A. 1 pint
- B. 1 quart
- C. 1 tasse
- D. 1 gallon


8)



Farine dans un lot de cookies

- A. 2 quarts
- B. 1.5 tasses
- C. 2 gallons
- D. 5 gallons

9)



Liquide dans un pichet

- A. 1 pint
- B. 2 quarts
- C. 8 gallons
- D. 2 tasses

- 1. **B**
- 2. **B**
- 3. **C**
- 4. **B**
- 5. **B**
- 6. **D**
- 7. **C**
- 8. **B**
- 9. **B**



Déterminez quelle lettre représente le mieux le volume.

Réponses

Xícara

Una taza se refiere a la cantidad de leche que se obtiene de la cafetería.



Pinta

Uma pinta é aproximadamente a quantidade que você recebe em um copo grande.
1 pinta = 2 xícaras



Quarto

Um quarto é mais ou menos a quantidade que você consegue em um recipiente grande de leite.
1 cuarto = 2 pintas




Galón

Un galón es la cantidad que viene en un recipiente de plástico grande.
1 galón = 4 cuartos



1. _____
2. _____
3. _____
4. _____
5. _____
6. _____
7. _____
8. _____
9. _____

1)



Réservoir d'essence dans une voiture

- A. 16 tasses
- B. 4 pints
- C. 3 quarts
- D. 15 gallons

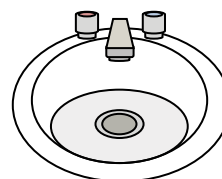
2)



Dentifrice en tube

- A. 0.5 gallons
- B. 5 grammes
- C. 5 quarts
- D. 0.5 tasses

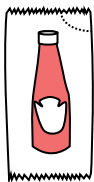
3)



Eau dans le lavabo de la salle de bain

- A. 2 pints
- B. 2 fluid ounces
- C. 2 gallons
- D. 2 tasses

4)



Ketchup dans un paquet

- A. 2 quarts
- B. 0.5 gallons
- C. moins que 1 tasse
- D. 1.5 pints


5)



Coller dans une bouteille

- A. 1 pint
- B. 3 gallons
- C. 0.5 tasses
- D. 2 quarts

6)



Sable une brouette tient

- A. 45 gallons
- B. 1000 grammes
- C. 8 quarts
- D. 4 tasses

7)



Sable dans un seau

- A. 7 fluid ounces
- B. 1 gallon
- C. 32 gallons
- D. 1 tasse

8)



Liquide qu'une cuillère contient

- A. Less than a cup
- B. 1 tasse
- C. 1 pint
- D. 1 quart

9)



Soda en canette

- A. 1 gallon
- B. 1.5 tasses
- C. 4 tasses
- D. 4 pints



Déterminez quelle lettre représente le mieux le volume.

Réponses

Xícara

Una taza se refiere a la cantidad de leche que se obtiene de la cafetería.



Pinta

Uma pinta é aproximadamente a quantidade que você recebe em um copo grande.
1 pinta = 2 xícaras



Quarto

Um quarto é mais ou menos a quantidade que você consegue em um recipiente grande de leite.
1 cuarto = 2 pintas



Galón

Un galón es la cantidad que viene en un recipiente de plástico grande.
1 galón = 4 cuartos



1. **D**

2. **D**

3. **C**

4. **C**

5. **C**


6. **A**

7. **B**

8. **A**

9. **B**

1)



Réservoir d'essence dans une voiture

- A. 16 tasses
- B. 4 pints
- C. 3 quarts
- D. 15 gallons

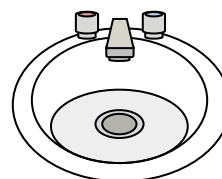
2)



Dentifrice en tube

- A. 0.5 gallons
- B. 5 grammes
- C. 5 quarts
- D. 0.5 tasses

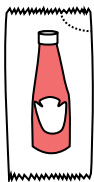
3)



Eau dans le lavabo de la salle de bain

- A. 2 pints
- B. 2 fluid ounces
- C. 2 gallons
- D. 2 tasses

4)



Ketchup dans un paquet

- A. 2 quarts
- B. 0.5 gallons
- C. moins que 1 tasse
- D. 1.5 pints


5)



Coller dans une bouteille

- A. 1 pint
- B. 3 gallons
- C. 0.5 tasses
- D. 2 quarts

6)



Sable une brouette tient

- A. 45 gallons
- B. 1000 grammes
- C. 8 quarts
- D. 4 tasses

7)



Sable dans un seau

- A. 7 fluid ounces
- B. 1 gallon
- C. 32 gallons
- D. 1 tasse

8)



Liquide qu'une cuillère contient

- A. Less than a cup
- B. 1 tasse
- C. 1 pint
- D. 1 quart

9)



Soda en canette

- A. 1 gallon
- B. 1.5 tasses
- C. 4 tasses
- D. 4 pints



Déterminez quelle lettre représente le mieux le volume.

Réponses

Xícara

Una taza se refiere a la cantidad de leche que se obtiene de la cafetería.



Pinta

Uma pinta é aproximadamente a quantidade que você recebe em um copo grande.
1 pinta = 2 xícaras



Quarto

Um quarto é mais ou menos a quantidade que você consegue em um recipiente grande de leite.
1 cuarto = 2 pintas



Galón

Un galón es la cantidad que viene en un recipiente de plástico grande.
1 galón = 4 cuartos



1. _____
2. _____
3. _____
4. _____
5. _____
6. _____
7. _____
8. _____
9. _____


1)



Coller dans une bouteille

- A. 1 pint
- B. 3 gallons
- C. 2 quarts
- D. 0.5 tasses


2)



Sable une brouette tient

- A. 8 quarts
- B. 45 gallons
- C. 4 tasses
- D. 1000 grammes

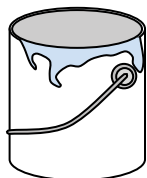
3)



Glacière

- A. 16 tasses
- B. 2 quarts
- C. 100 quarts
- D. 5 gallons


4)



Peindre dans un pot

- A. 3 fluid ounces
- B. 1 tasse
- C. 0.5 pints
- D. 1 gallon

5)



La pipette tient

- A. 3 gallons
- B. 1 pint
- C. moins que 1 tasse
- D. 1 tasse

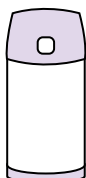
6)



Dentifrice en tube

- A. 0.5 tasses
- B. 5 grammes
- C. 5 quarts
- D. 0.5 gallons

7)



Liquide dans un thermos

- A. 1 gallon
- B. 1 tasse
- C. 4 quarts
- D. 2 livres


8)



Sable dans un seau

- A. 32 gallons
- B. 1 tasse
- C. 1 gallon
- D. 7 fluid ounces

9)



Baignoire

- A. 20 pints
- B. 45 gallons
- C. 40 tasses
- D. 8 quarts



Déterminez quelle lettre représente le mieux le volume.

Réponses

Xícara

Una taza se refiere a la cantidad de leche que se obtiene de la cafetería.



Pinta

Uma pinta é aproximadamente a quantidade que você recebe em um copo grande.
1 pinta = 2 xícaras



Quarto

Um quarto é mais ou menos a quantidade que você consegue em um recipiente grande de leite.
1 cuarto = 2 pintas



Galón

Un galón es la cantidad que viene en un recipiente de plástico grande.
1 galón = 4 cuartos




1)



Coller dans une bouteille

- A. 1 pint
- B. 3 gallons
- C. 2 quarts
- D. 0.5 tasses


2)



Sable une brouette tient

- A. 8 quarts
- B. 45 gallons
- C. 4 tasses
- D. 1000 grammes

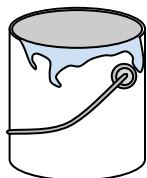
3)



Glacière

- A. 16 tasses
- B. 2 quarts
- C. 100 quarts
- D. 5 gallons


4)



Peindre dans un pot

- A. 3 fluid ounces
- B. 1 tasse
- C. 0.5 pints
- D. 1 gallon

5)



La pipette tient

- A. 3 gallons
- B. 1 pint
- C. moins que 1 tasse
- D. 1 tasse

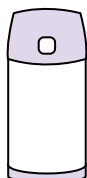
6)



Dentifrice en tube

- A. 0.5 tasses
- B. 5 grammes
- C. 5 quarts
- D. 0.5 gallons

7)



Liquide dans un thermos

- A. 1 gallon
- B. 1 tasse
- C. 4 quarts
- D. 2 livres


8)



Sable dans un seau

- A. 32 gallons
- B. 1 tasse
- C. 1 gallon
- D. 7 fluid ounces

9)



Baignoire

- A. 20 pints
- B. 45 gallons
- C. 40 tasses
- D. 8 quarts

- 1. **D**
- 2. **B**
- 3. **C**
- 4. **D**
- 5. **C**
- 6. **A**
- 7. **B**
- 8. **C**
- 9. **B**



Déterminez quelle lettre représente le mieux le volume.

Réponses

Xícara

Una taza se refiere a la cantidad de leche que se obtiene de la cafetería.



Pinta

Uma pinta é aproximadamente a quantidade que você recebe em um copo grande.
1 pinta = 2 xícaras



Quarto

Um quarto é mais ou menos a quantidade que você consegue em um recipiente grande de leite.
1 cuarto = 2 pintas




Galón

Un galón es la cantidad que viene en un recipiente de plástico grande.
1 galón = 4 cuartos



1. _____
2. _____
3. _____
4. _____
5. _____
6. _____
7. _____
8. _____
9. _____


1)



L'eau qu'un baril contient

- A. 20 tasses
- B. 10 pintas
- C. 3 inches
- D. 50 gallons


2)



Réservoir d'essence dans une voiture

- A. 3 quarts
- B. 4 pintas
- C. 15 gallons
- D. 16 tasses

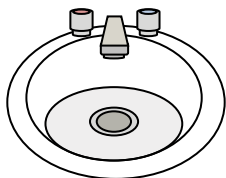
3)



Sable une brouette tient

- A. 8 quarts
- B. 45 gallons
- C. 1000 grammes
- D. 4 tasses

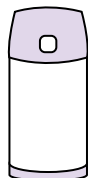
4)



Eau dans le lavabo de la salle de bain

- A. 2 fluid ounces
- B. 2 gallons
- C. 2 tasses
- D. 2 pintas

5)



Liquide dans un thermos

- A. 1 tasse
- B. 1 gallon
- C. 2 livres
- D. 4 quarts


6)



Liquide qu'une cuillère contient

- A. 1 tasse
- B. Less than a cup
- C. 1 pint
- D. 1 quart

7)



Liquide dans un pichet

- A. 1 pint
- B. 2 quarts
- C. 2 tasses
- D. 8 gallons

8)



Encre dans un stylo

- A. 1 gallon
- B. 2 pintas
- C. moins que 1 tasse
- D. 1 quart

9)



Soda en canette

- A. 4 tasses
- B. 1.5 tasses
- C. 4 pintas
- D. 1 gallon



Déterminez quelle lettre représente le mieux le volume.

Réponses

Xícara

Una taza se refiere a la cantidad de leche que se obtiene de la cafetería.



Pinta

Uma pinta é aproximadamente a quantidade que você recebe em um copo grande.
1 pinta = 2 xícaras



Quarto

Um quarto é mais ou menos a quantidade que você consegue em um recipiente grande de leite.
1 cuarto = 2 pintas




Galón

Un galón es la cantidad que viene en un recipiente de plástico grande.
1 galón = 4 cuartos




1)



L'eau qu'un baril contient

- A. 20 tasses
- B. 10 pintas
- C. 3 inches
- D. 50 gallons


2)



Réservoir d'essence dans une voiture

- A. 3 quarts
- B. 4 pintas
- C. 15 gallons
- D. 16 tasses

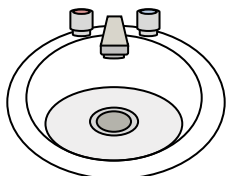
3)



Sable une brouette tient

- A. 8 quarts
- B. 45 gallons
- C. 1000 grammes
- D. 4 tasses

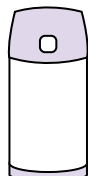
4)



Eau dans le lavabo de la salle de bain

- A. 2 fluid ounces
- B. 2 gallons
- C. 2 tasses
- D. 2 pintas

5)



Liquide dans un thermos

- A. 1 tasse
- B. 1 gallon
- C. 2 livres
- D. 4 quarts


6)



Liquide qu'une cuillère contient

- A. 1 tasse
- B. Less than a cup
- C. 1 pint
- D. 1 quart

7)



Liquide dans un pichet

- A. 1 pint
- B. 2 quarts
- C. 2 tasses
- D. 8 gallons

8)



Encre dans un stylo

- A. 1 gallon
- B. 2 pintas
- C. moins que 1 tasse
- D. 1 quart

9)



Soda en canette

- A. 4 tasses
- B. 1.5 tasses
- C. 4 pintas
- D. 1 gallon

- 1. **D**
- 2. **C**
- 3. **B**
- 4. **B**
- 5. **A**
- 6. **B**
- 7. **B**
- 8. **C**
- 9. **B**



Déterminez quelle lettre représente le mieux le volume.

Réponses

Xícara

Una taza se refiere a la cantidad de leche que se obtiene de la cafetería.



Pinta

Uma pinta é aproximadamente a quantidade que você recebe em um copo grande.
1 pinta = 2 xícaras



Quarto

Um quarto é mais ou menos a quantidade que você consegue em um recipiente grande de leite.
1 cuarto = 2 pintas




Galón

Un galón es la cantidad que viene en un recipiente de plástico grande.
1 galón = 4 cuartos



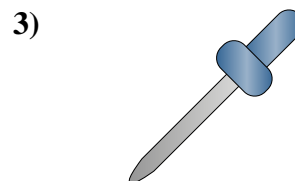
1. _____
2. _____
3. _____
4. _____
5. _____
6. _____
7. _____
8. _____
9. _____



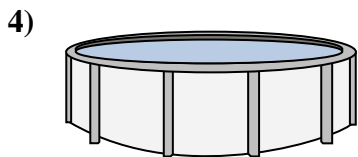
Baignoire
A. 40 tasses
B. 20 pints
C. 45 gallons
D. 8 quarts




Sable dans un seau
A. 32 gallons
B. 1 gallon
C. 1 tasse
D. 7 fluid ounces



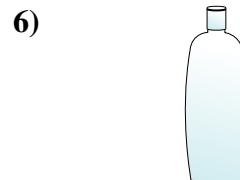
La pipette tient
A. 3 gallons
B. 1 tasse
C. moins que 1 tasse
D. 1 pint




De l'eau dans une piscine
A. 5000 feet
B. 25 tasses
C. 20 gallons
D. 3000 gallons



Liquide dans un pichet
A. 1 pint
B. 8 gallons
C. 2 tasses
D. 2 quarts




Shampooing en bouteille
A. 0.5 gallons
B. 100 tasses
C. 1 tasse
D. 2 pints



Ketchup dans un paquet
A. 0.5 gallons
B. 1.5 pints
C. moins que 1 tasse
D. 2 quarts



De l'eau pour une plante d'intérieur
A. 6 quarts
B. 4 livres
C. 2 tasses
D. 3 gallons



L'eau qu'un baril contient
A. 3 inches
B. 10 pints
C. 20 tasses
D. 50 gallons



Déterminez quelle lettre représente le mieux le volume.

Réponses

Xícara

Una taza se refiere a la cantidad de leche que se obtiene de la cafetería.



Pinta

Uma pinta é aproximadamente a quantidade que você recebe em um copo grande.
1 pinta = 2 xícaras




Quarto

Um quarto é mais ou menos a quantidade que você consegue em um recipiente grande de leite.
1 cuarto = 2 pintas



Galón

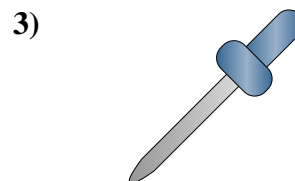
Un galón es la cantidad que viene en un recipiente de plástico grande.
1 galón = 4 cuartos



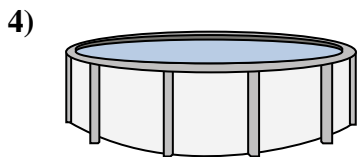
Baignoire
A. 40 tasses
B. 20 pints
C. 45 gallons
D. 8 quarts



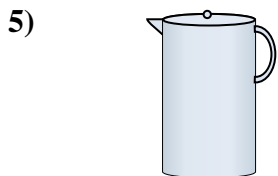
Sable dans un seau
A. 32 gallons
B. 1 gallon
C. 1 tasse
D. 7 fluid ounces



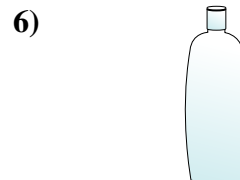
La pipette tient
A. 3 gallons
B. 1 tasse
C. moins que 1 tasse
D. 1 pint



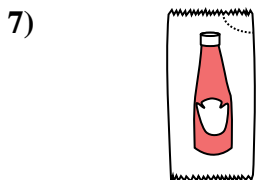
De l'eau dans une piscine
A. 5000 feet
B. 25 tasses
C. 20 gallons
D. 3000 gallons



Liquide dans un pichet
A. 1 pint
B. 8 gallons
C. 2 tasses
D. 2 quarts




Shampooing en bouteille
A. 0.5 gallons
B. 100 tasses
C. 1 tasse
D. 2 pints



Ketchup dans un paquet
A. 0.5 gallons
B. 1.5 pints
C. moins que 1 tasse
D. 2 quarts



De l'eau pour une plante d'intérieur
A. 6 quarts
B. 4 livres
C. 2 tasses
D. 3 gallons



L'eau qu'un baril contient
A. 3 inches
B. 10 pints
C. 20 tasses
D. 50 gallons

- 1. **C**
- 2. **B**
- 3. **C**
- 4. **D**
- 5. **D**
- 6. **D**
- 7. **C**
- 8. **C**
- 9. **D**



Déterminez quelle lettre représente le mieux le volume.

Réponses

Xícara

Una taza se refiere a la cantidad de leche que se obtiene de la cafetería.



Pinta

Uma pinta é aproximadamente a quantidade que você recebe em um copo grande.
1 pinta = 2 xícaras



Quarto

Um quarto é mais ou menos a quantidade que você consegue em um recipiente grande de leite.
1 cuarto = 2 pintas



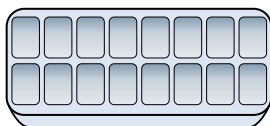
Galón

Un galón es la cantidad que viene en un recipiente de plástico grande.
1 galón = 4 cuartos



1. _____
2. _____
3. _____
4. _____
5. _____
6. _____
7. _____
8. _____
9. _____


1)



De l'eau dans un bac à glaçons

- A. 10 gallons
- B. 1 pint
- C. 4 pints
- D. 1 gallon

2)



Soda en canette

- A. 1.5 tasses
- B. 4 tasses
- C. 4 pints
- D. 1 gallon


3)



Tasse à mesurer

- A. 1 quart
- B. 1 pint
- C. 1 gallon
- D. 1 tasse


4)



Sable une brouette tient

- A. 4 tasses
- B. 1000 grammes
- C. 45 gallons
- D. 8 quarts


5)



Réservoir d'essence dans une voiture

- A. 16 tasses
- B. 4 pints
- C. 15 gallons
- D. 3 quarts

6)



La pipette tient

- A. moins que 1 tasse
- B. 1 tasse
- C. 3 gallons
- D. 1 pint

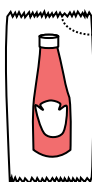
7)



2 litre de soda

- A. 2 tasses
- B. 1 pint
- C. 0.5 gallons
- D. 5 gallons

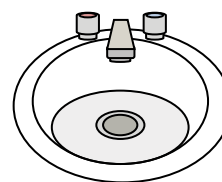
8)



Ketchup dans un paquet

- A. 0.5 gallons
- B. moins que 1 tasse
- C. 1.5 pints
- D. 2 quarts

9)



Eau dans le lavabo de la salle de bain

- A. 2 tasses
- B. 2 gallons
- C. 2 pints
- D. 2 fluid ounces



Déterminez quelle lettre représente le mieux le volume.

Réponses

Xícara

Una taza se refiere a la cantidad de leche que se obtiene de la cafetería.



Pinta

Uma pinta é aproximadamente a quantidade que você recebe em um copo grande.
1 pinta = 2 xícaras



Quarto

Um quarto é mais ou menos a quantidade que você consegue em um recipiente grande de leite.
1 cuarto = 2 pintas



Galón

Un galón es la cantidad que viene en un recipiente de plástico grande.
1 galón = 4 cuartos



1. **B**

2. **A**

3. **D**

4. **C**

5. **C**

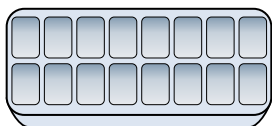
6. **A**

7. **C**

8. **B**

9. **B**


1)



De l'eau dans un bac à glaçons

- A. 10 gallons
- B. 1 pint
- C. 4 pints
- D. 1 gallon

2)



Soda en canette

- A. 1.5 tasses
- B. 4 tasses
- C. 4 pints
- D. 1 gallon


3)



Tasse à mesurer

- A. 1 quart
- B. 1 pint
- C. 1 gallon
- D. 1 tasse


4)



Sable une brouette tient

- A. 4 tasses
- B. 1000 grammes
- C. 45 gallons
- D. 8 quarts


5)



Réservoir d'essence dans une voiture

- A. 16 tasses
- B. 4 pints
- C. 15 gallons
- D. 3 quarts

6)



La pipette tient

- A. moins que 1 tasse
- B. 1 tasse
- C. 3 gallons
- D. 1 pint

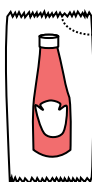
7)



2 litre de soda

- A. 2 tasses
- B. 1 pint
- C. 0.5 gallons
- D. 5 gallons

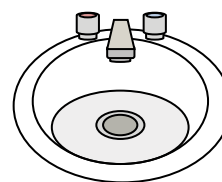
8)



Ketchup dans un paquet

- A. 0.5 gallons
- B. moins que 1 tasse
- C. 1.5 pints
- D. 2 quarts

9)



Eau dans le lavabo de la salle de bain

- A. 2 tasses
- B. 2 gallons
- C. 2 pints
- D. 2 fluid ounces



Déterminez quelle lettre représente le mieux le volume.

Réponses

Xícara

Una taza se refiere a la cantidad de leche que se obtiene de la cafetería.



Pinta

Uma pinta é aproximadamente a quantidade que você recebe em um copo grande.
1 pinta = 2 xícaras



Quarto

Um quarto é mais ou menos a quantidade que você consegue em um recipiente grande de leite.
1 cuarto = 2 pintas




Galón


Un galón es la cantidad que viene en un recipiente de plástico grande.
1 galón = 4 cuartos



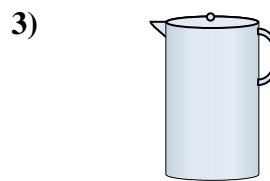
1. _____
2. _____
3. _____
4. _____
5. _____
6. _____
7. _____
8. _____
9. _____



Baignoire
A. 40 tasses
B. 8 quarts
C. 20 pints
D. 45 gallons



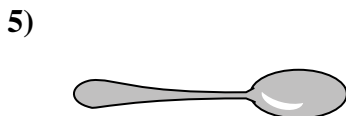
La pipette tient
A. 1 pint
B. 3 gallons
C. moins que 1 tasse
D. 1 tasse



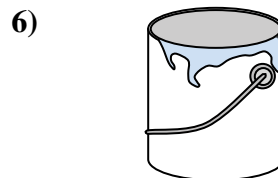
Liquide dans un pichet
A. 2 tasses
B. 1 pint
C. 2 quarts
D. 8 gallons



Bol de céréales
A. 0.5 gallons
B. 4 pints
C. 2 gallons
D. 1 pint



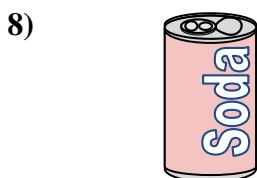
Liquide qu'une cuillère contient
A. Less than a cup
B. 1 tasse
C. 1 pint
D. 1 quart



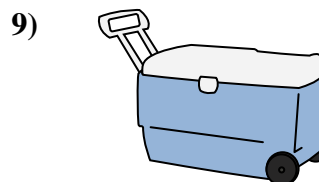
Peindre dans un pot
A. 3 fluid ounces
B. 1 gallon
C. 1 tasse
D. 0.5 pints



2 litre de soda
A. 0.5 gallons
B. 5 gallons
C. 1 pint
D. 2 tasses



Soda en canette
A. 4 tasses
B. 1.5 tasses
C. 4 pints
D. 1 gallon



Glacière
A. 100 quarts
B. 16 tasses
C. 5 gallons
D. 2 quarts



Déterminez quelle lettre représente le mieux le volume.

Réponses

Xícara

Una taza se refiere a la cantidad de leche que se obtiene de la cafetería.



Pinta

Uma pinta é aproximadamente a quantidade que você recebe em um copo grande.
1 pinta = 2 xícaras



Quarto

Um quarto é mais ou menos a quantidade que você consegue em um recipiente grande de leite.
1 cuarto = 2 pintas



Galón

Un galón es la cantidad que viene en un recipiente de plástico grande.
1 galón = 4 cuartos



1. **D**

2. **C**

3. **C**

4. **D**

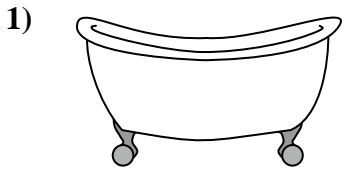
5. **A**

6. **B**

7. **A**


8. **B**

9. **A**



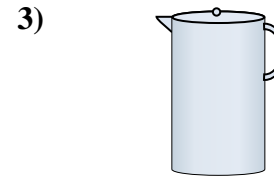
Baignoire

- A. 40 tasses
- B. 8 quarts
- C. 20 pintas
- D. 45 gallons




La pipette tient

- A. 1 pint
- B. 3 gallons
- C. moins que 1 tasse
- D. 1 tasse



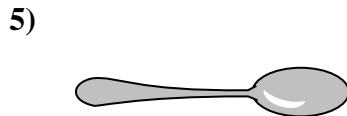
Liquide dans un pichet

- A. 2 tasses
- B. 1 pint
- C. 2 quarts
- D. 8 gallons




Bol de céréales

- A. 0.5 gallons
- B. 4 pintas
- C. 2 gallons
- D. 1 pint



Liquide qu'une cuillère contient

- A. Less than a cup
- B. 1 tasse
- C. 1 pint
- D. 1 quart



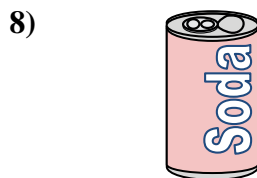
Peindre dans un pot

- A. 3 fluid ounces
- B. 1 gallon
- C. 1 tasse
- D. 0.5 pintas



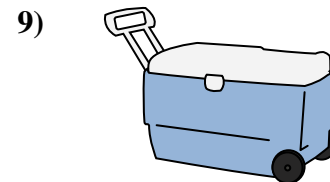
2 litre de soda

- A. 0.5 gallons
- B. 5 gallons
- C. 1 pint
- D. 2 tasses



Soda en canette

- A. 4 tasses
- B. 1.5 tasses
- C. 4 pintas
- D. 1 gallon



Glacière

- A. 100 quarts
- B. 16 tasses
- C. 5 gallons
- D. 2 quarts