



Déterminez quelle lettre représente le mieux le volume.


Réponses

Milliliter

Un millilitro equivale a unas 20 gotas de agua.


Muchas botellas grandes de refrescos tienen 1 o 2 litros.

1 Liter = 1,000 Milliliters



1. _____
2. _____
3. _____
4. _____
5. _____
6. _____
7. _____
8. _____
9. _____

1)



Réservoir d'essence dans une voiture

- A. 15 Millilitres
- B. 70 Millilitres
- C. 3 Litres
- D. 60 Litres

2)



Liquide qu'une cuillère contient

- A. 500 Millilitres
- B. 5 Millilitres
- C. 1 Litre
- D. 5 Litres

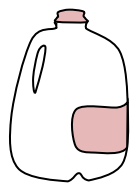
3)



Shampooing en bouteille

- A. 1 milliliter
- B. 20 Litres
- C. 1.5 Litres
- D. 20 Millilitres


4)



Gallon de lait

- A. 750 Millilitres
- B. 1 Litre
- C. 50 Millilitres
- D. 3.75 Litres

5)



La pipette tient

- A. 1000 Millilitres
- B. 500 Millilitres
- C. 2 Millilitres
- D. 2 Litres

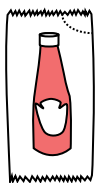
6)



Bol de céréales

- A. 475 Millilitres
- B. 50 Millilitres
- C. 1 milliliter
- D. 2 Litres

7)



Ketchup dans un paquet

- A. 50 Millilitres
- B. 1 milliliter
- C. 1 Litre
- D. 500 Millilitres


8)



Dentifrice en tube

- A. 5 Millilitres
- B. 1 Litre
- C. 120 Millilitres
- D. 2 Litres

9)



De l'eau dans un bac à glaçons


- A. 2 Millilitres
- B. 0.5 Litres
- C. 2 Litres



Déterminez quelle lettre représente le mieux le volume.

Milliliter

Un millilitro equivale a unas 20 gotas de agua.



Liter

Muchas botellas grandes de refrescos tienen 1 o 2 litros.


1 Liter = 1,000 Milliliters



Réponses

- 1. **D**
- 2. **B**
- 3. **C**
- 4. **D**
- 5. **C**
- 6. **A**
- 7. **B**
- 8. **C**
- 9. **B**

1)



Réservoir d'essence dans une voiture

- A. 15 Millilitres
- B. 70 Millilitres
- C. 3 Litres
- D. 60 Litres

2)



Liquide qu'une cuillère contient

- A. 500 Millilitres
- B. 5 Millilitres
- C. 1 Litre
- D. 5 Litres

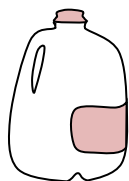
3)



Shampooing en bouteille

- A. 1 milliliter
- B. 20 Litres
- C. 1.5 Litres
- D. 20 Millilitres


4)



Gallon de lait

- A. 750 Millilitres
- B. 1 Litre
- C. 50 Millilitres
- D. 3.75 Litres

5)



La pipette tient

- A. 1000 Millilitres
- B. 500 Millilitres
- C. 2 Millilitres
- D. 2 Litres

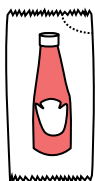
6)



Bol de céréales

- A. 475 Millilitres
- B. 50 Millilitres
- C. 1 milliliter
- D. 2 Litres

7)



Ketchup dans un paquet

- A. 50 Millilitres
- B. 1 milliliter
- C. 1 Litre
- D. 500 Millilitres

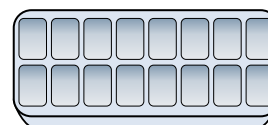
8)



Dentifrice en tube

- A. 5 Millilitres
- B. 1 Litre
- C. 120 Millilitres
- D. 2 Litres

9)



De l'eau dans un bac à glaçons

- A. 2 Millilitres
- B. 0.5 Litres
- C. 2 Litres