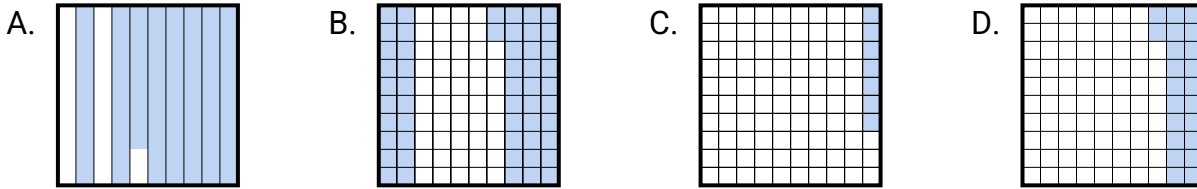


**Choisir la réponse la plus appropriée.****Réponses**

- 1) Quelle grille 10×10 est coloriée pour représenter le nombre décimal qui, ajouté à 0,22, donne un total de 1,00 ?

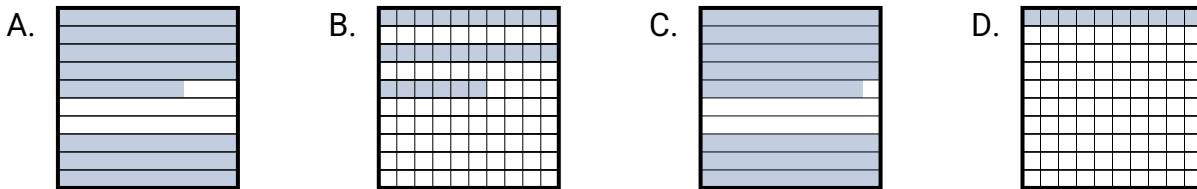


1. _____

2. _____

3. _____

- 2) Quelle grille 10×10 est coloriée pour représenter le nombre décimal qui, ajouté à 0,21, donne un total de 1,00 ?

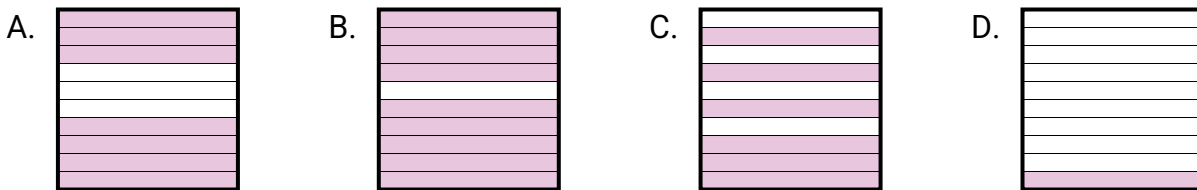


4. _____

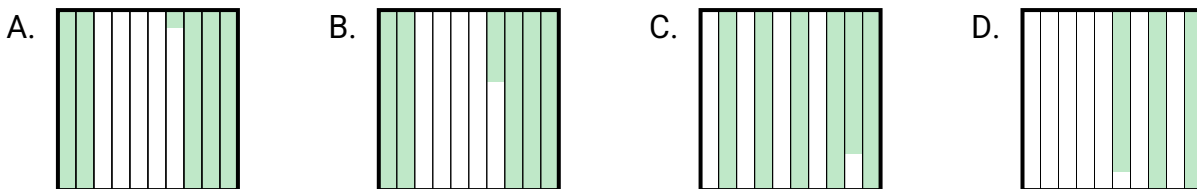
5. _____

6. _____

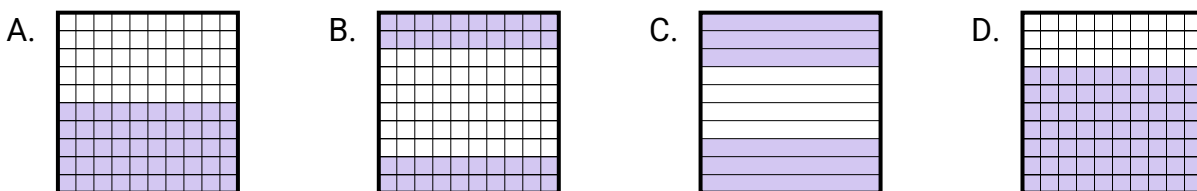
- 3) Quelle grille 10×1 est coloriée pour représenter le nombre décimal qui, ajouté à 0,3, donne un total de 1,00 ?



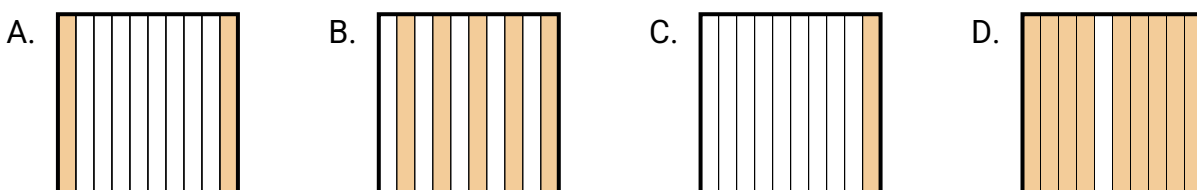
- 4) Quelle grille 10×10 est coloriée pour représenter le nombre décimal qui, ajouté à 0,71, donne un total de 1,00 ?



- 5) Quelle grille 10×1 est coloriée pour représenter le nombre décimal qui, ajouté à 0,4, donne un total de 1,00 ?



- 6) Quelle grille 10×1 est coloriée pour représenter le nombre décimal qui, ajouté à 0,1, donne un total de 1,00 ?

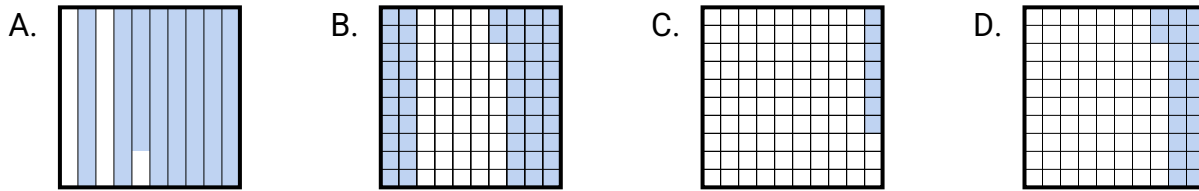




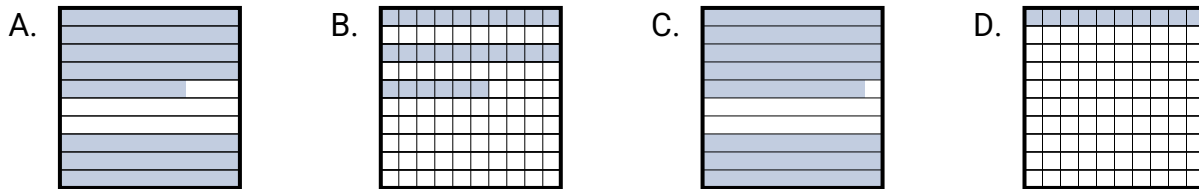
Choisir la réponse la plus appropriée.

Réponses

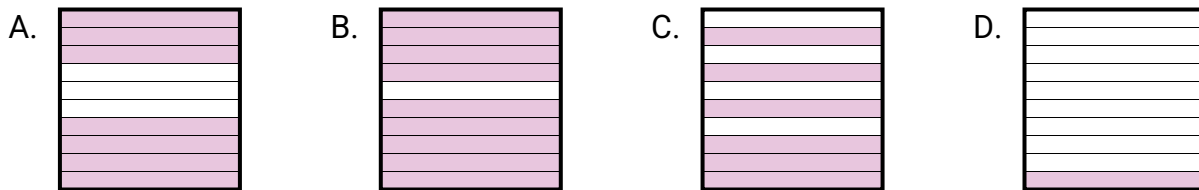
- 1) Quelle grille 10×10 est coloriée pour représenter le nombre décimal qui, ajouté à 0,22, donne un total de 1,00 ?

1. **A**2. **C**3. **A**

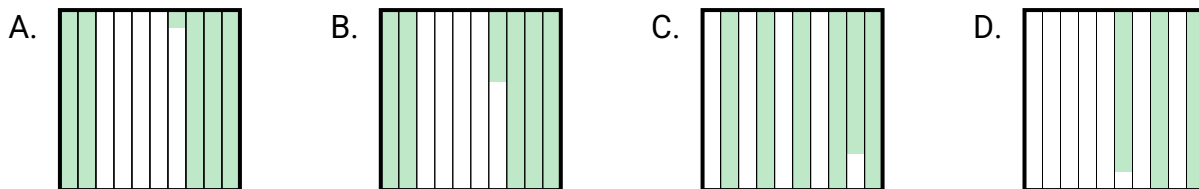
- 2) Quelle grille 10×10 est coloriée pour représenter le nombre décimal qui, ajouté à 0,21, donne un total de 1,00 ?

4. **D**5. **C**6. **D**

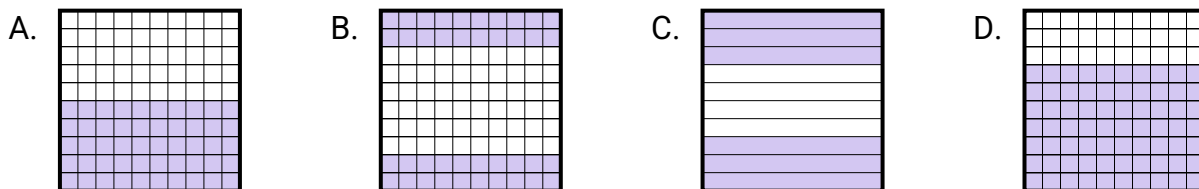
- 3) Quelle grille 10×1 est coloriée pour représenter le nombre décimal qui, ajouté à 0,3, donne un total de 1,00 ?



- 4) Quelle grille 10×10 est coloriée pour représenter le nombre décimal qui, ajouté à 0,71, donne un total de 1,00 ?



- 5) Quelle grille 10×1 est coloriée pour représenter le nombre décimal qui, ajouté à 0,4, donne un total de 1,00 ?



- 6) Quelle grille 10×1 est coloriée pour représenter le nombre décimal qui, ajouté à 0,1, donne un total de 1,00 ?

