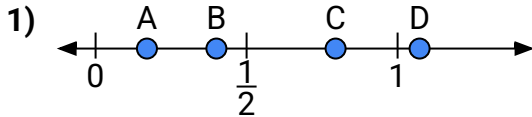
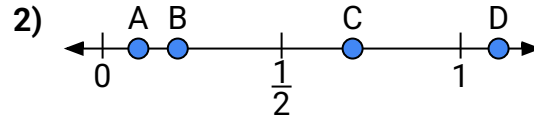




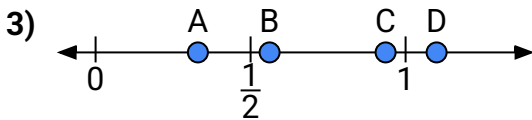
Utilisez la droite numérique pour répondre aux questions.

Réponses

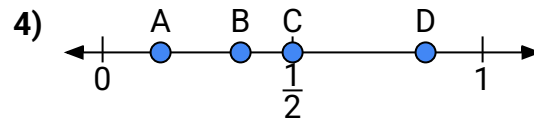
- a) Quelle lettre représente le mieux l'emplacement de 0,4 ?
b) Quelle lettre représente le mieux l'emplacement de 0,17 ?



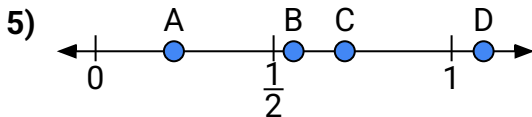
- a) Quelle lettre représente le mieux l'emplacement de 0,10 ?
b) Quelle lettre représente le mieux l'emplacement de 0,21 ?



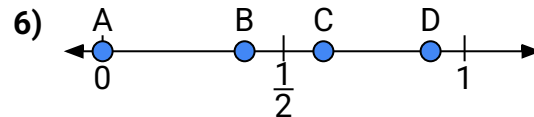
- a) Quelle lettre représente le mieux l'emplacement de 1,1 ?
b) Quelle lettre représente le mieux l'emplacement de 0,33 ?



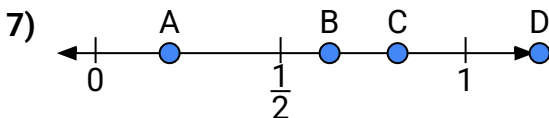
- a) Quelle lettre représente le mieux l'emplacement de 0,5 ?
b) Quelle lettre représente le mieux l'emplacement de 0,85 ?



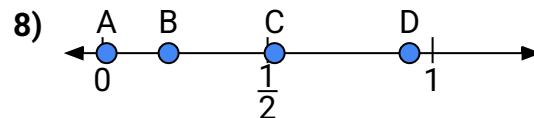
- a) Quelle lettre représente le mieux l'emplacement de 0,70 ?
b) Quelle lettre représente le mieux l'emplacement de 0,22 ?



- a) Quelle lettre représente le mieux l'emplacement de 0,0 ?
b) Quelle lettre représente le mieux l'emplacement de 0,61 ?



- a) Quelle lettre représente le mieux l'emplacement de 1,2 ?
b) Quelle lettre représente le mieux l'emplacement de 0,20 ?



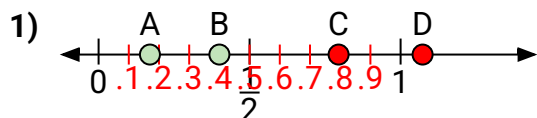
- a) Quelle lettre représente le mieux l'emplacement de 0,2 ?
b) Quelle lettre représente le mieux l'emplacement de 0,93 ?

1. _____
2. _____
3. _____
4. _____
5. _____
6. _____
7. _____
8. _____

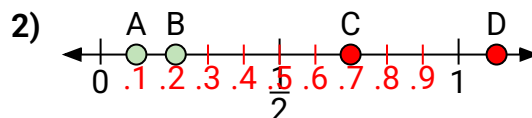


Utilisez la droite numérique pour répondre aux questions.

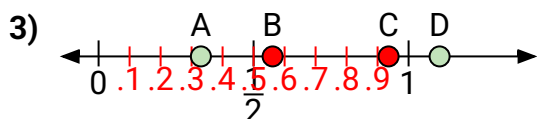
Réponses



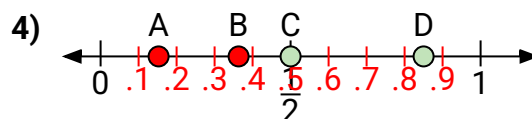
- a) Quelle lettre représente le mieux l'emplacement de 0,4 ?
b) Quelle lettre représente le mieux l'emplacement de 0,17 ?



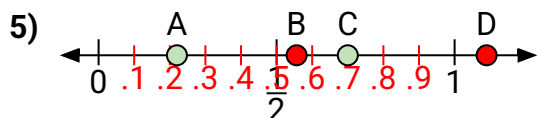
- a) Quelle lettre représente le mieux l'emplacement de 0,10 ?
b) Quelle lettre représente le mieux l'emplacement de 0,21 ?



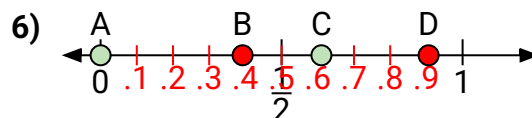
- a) Quelle lettre représente le mieux l'emplacement de 1,1 ?
b) Quelle lettre représente le mieux l'emplacement de 0,33 ?



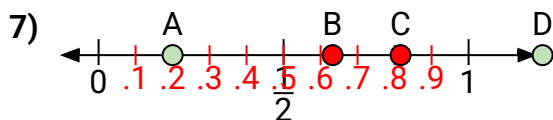
- a) Quelle lettre représente le mieux l'emplacement de 0,5 ?
b) Quelle lettre représente le mieux l'emplacement de 0,85 ?



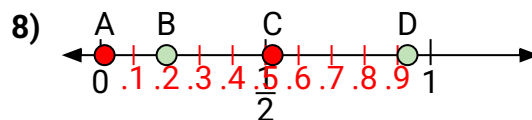
- a) Quelle lettre représente le mieux l'emplacement de 0,70 ?
b) Quelle lettre représente le mieux l'emplacement de 0,22 ?



- a) Quelle lettre représente le mieux l'emplacement de 0,0 ?
b) Quelle lettre représente le mieux l'emplacement de 0,61 ?



- a) Quelle lettre représente le mieux l'emplacement de 1,2 ?
b) Quelle lettre représente le mieux l'emplacement de 0,20 ?



- a) Quelle lettre représente le mieux l'emplacement de 0,2 ?
b) Quelle lettre représente le mieux l'emplacement de 0,93 ?

- | | | |
|----|----------|----------|
| 1. | B | A |
| 2. | A | B |
| 3. | D | A |
| 4. | C | D |
| 5. | C | A |
| 6. | A | C |
| 7. | D | A |
| 8. | B | D |