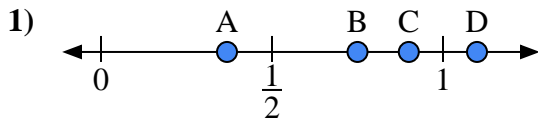


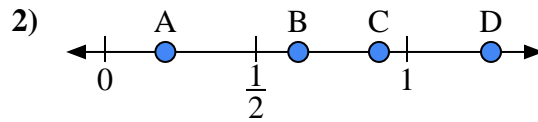


Utilisez la droite numérique pour répondre aux questions.

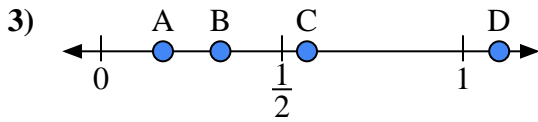
**Réponses**



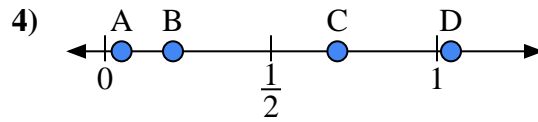
- a) Quelle lettre représente le mieux l'emplacement de 0,90 ?
- b) Quelle lettre représente le mieux l'emplacement de 0,75 ?



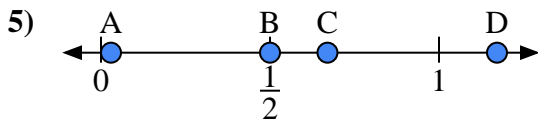
- a) Quelle lettre représente le mieux l'emplacement de 0,2 ?
- b) Quelle lettre représente le mieux l'emplacement de 0,64 ?



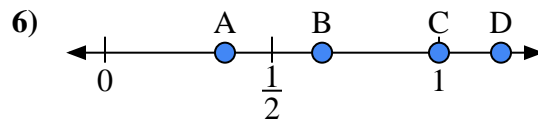
- a) Quelle lettre représente le mieux l'emplacement de 1,10 ?
- b) Quelle lettre représente le mieux l'emplacement de 0,33 ?



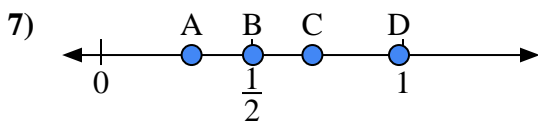
- a) Quelle lettre représente le mieux l'emplacement de 0,70 ?
- b) Quelle lettre représente le mieux l'emplacement de 0,05 ?



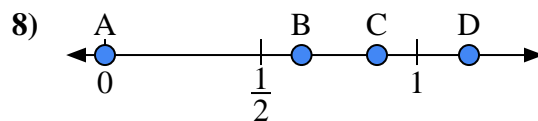
- a) Quelle lettre représente le mieux l'emplacement de 0,50 ?
- b) Quelle lettre représente le mieux l'emplacement de 0,67 ?



- a) Quelle lettre représente le mieux l'emplacement de 1,00 ?
- b) Quelle lettre représente le mieux l'emplacement de 0,65 ?



- a) Quelle lettre représente le mieux l'emplacement de 0,3 ?
- b) Quelle lettre représente le mieux l'emplacement de 0,70 ?



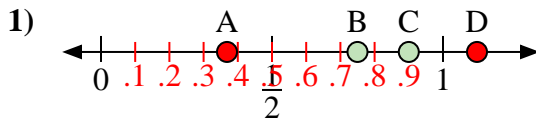
- a) Quelle lettre représente le mieux l'emplacement de 0,00 ?
- b) Quelle lettre représente le mieux l'emplacement de 0,63 ?

- 1. \_\_\_\_\_
- 2. \_\_\_\_\_
- 3. \_\_\_\_\_
- 4. \_\_\_\_\_
- 5. \_\_\_\_\_
- 6. \_\_\_\_\_
- 7. \_\_\_\_\_
- 8. \_\_\_\_\_

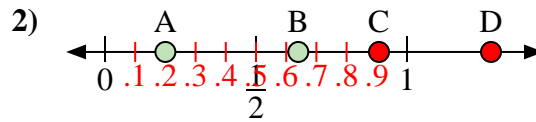


Utilisez la droite numérique pour répondre aux questions.

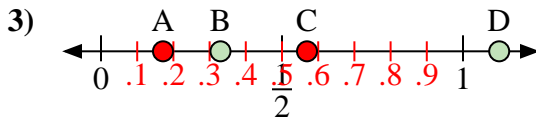
Réponses



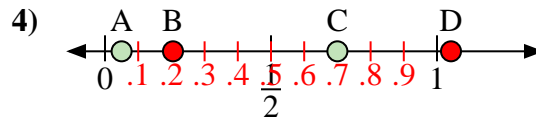
- a) Quelle lettre représente le mieux l'emplacement de 0,90 ?  
 b) Quelle lettre représente le mieux l'emplacement de 0,75 ?



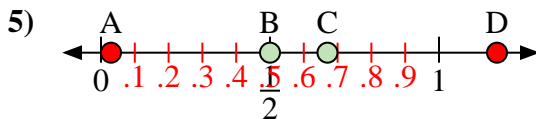
- a) Quelle lettre représente le mieux l'emplacement de 0,2 ?  
 b) Quelle lettre représente le mieux l'emplacement de 0,64 ?



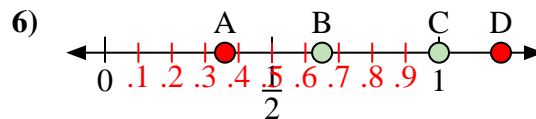
- a) Quelle lettre représente le mieux l'emplacement de 1,10 ?  
 b) Quelle lettre représente le mieux l'emplacement de 0,33 ?



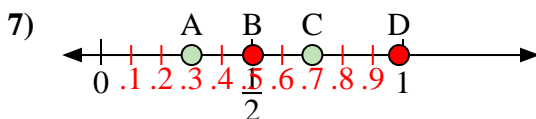
- a) Quelle lettre représente le mieux l'emplacement de 0,70 ?  
 b) Quelle lettre représente le mieux l'emplacement de 0,05 ?



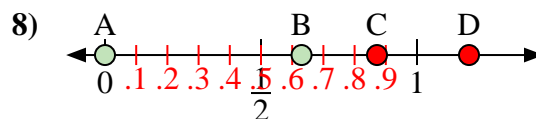
- a) Quelle lettre représente le mieux l'emplacement de 0,50 ?  
 b) Quelle lettre représente le mieux l'emplacement de 0,67 ?



- a) Quelle lettre représente le mieux l'emplacement de 1,00 ?  
 b) Quelle lettre représente le mieux l'emplacement de 0,65 ?



- a) Quelle lettre représente le mieux l'emplacement de 0,3 ?  
 b) Quelle lettre représente le mieux l'emplacement de 0,70 ?



- a) Quelle lettre représente le mieux l'emplacement de 0,00 ?  
 b) Quelle lettre représente le mieux l'emplacement de 0,63 ?

1. C B  
 2. A B  
 3. D B  
 4. C A  
 5. B C  
 6. C B  
 7. A C  
 8. A B