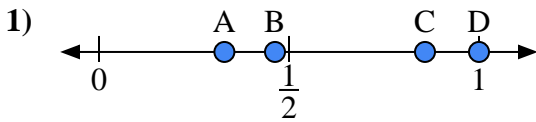


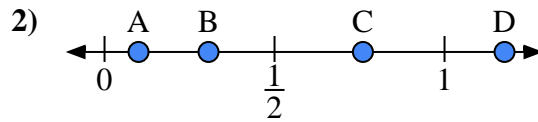


Utilisez la droite numérique pour répondre aux questions.

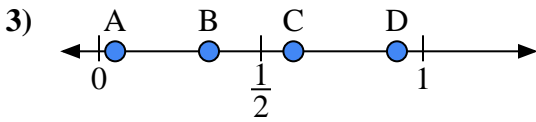
**Réponses**



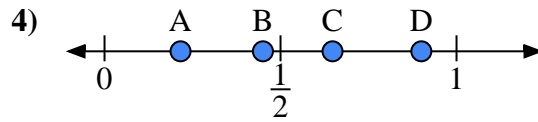
- a) Quelle lettre représente le mieux l'emplacement de 1,0 ?
- b) Quelle lettre représente le mieux l'emplacement de 0,33 ?



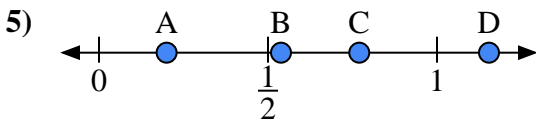
- a) Quelle lettre représente le mieux l'emplacement de 0,10 ?
- b) Quelle lettre représente le mieux l'emplacement de 0,76 ?



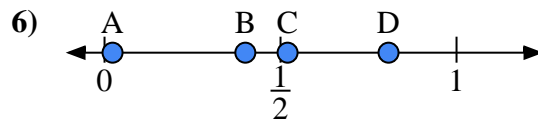
- a) Quelle lettre représente le mieux l'emplacement de 0,60 ?
- b) Quelle lettre représente le mieux l'emplacement de 0,05 ?



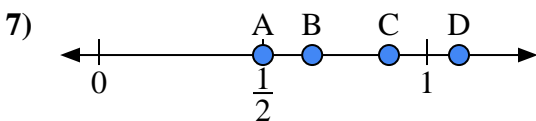
- a) Quelle lettre représente le mieux l'emplacement de 0,90 ?
- b) Quelle lettre représente le mieux l'emplacement de 0,45 ?



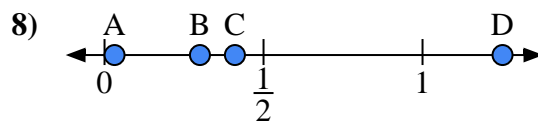
- a) Quelle lettre représente le mieux l'emplacement de 0,2 ?
- b) Quelle lettre représente le mieux l'emplacement de 0,77 ?



- a) Quelle lettre représente le mieux l'emplacement de 0,40 ?
- b) Quelle lettre représente le mieux l'emplacement de 0,52 ?



- a) Quelle lettre représente le mieux l'emplacement de 0,5 ?
- b) Quelle lettre représente le mieux l'emplacement de 0,65 ?



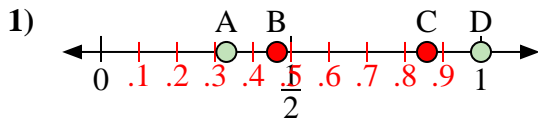
- a) Quelle lettre représente le mieux l'emplacement de 0,30 ?
- b) Quelle lettre représente le mieux l'emplacement de 0,41 ?

- 1. \_\_\_\_\_
- 2. \_\_\_\_\_
- 3. \_\_\_\_\_
- 4. \_\_\_\_\_
- 5. \_\_\_\_\_
- 6. \_\_\_\_\_
- 7. \_\_\_\_\_
- 8. \_\_\_\_\_

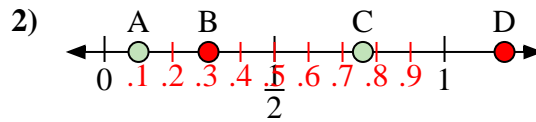


Utilisez la droite numérique pour répondre aux questions.

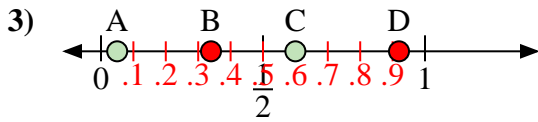
Réponses



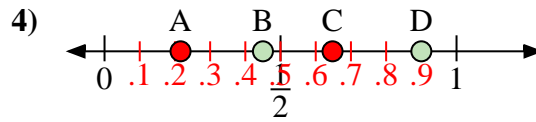
- a) Quelle lettre représente le mieux l'emplacement de 1,0 ?  
 b) Quelle lettre représente le mieux l'emplacement de 0,33 ?



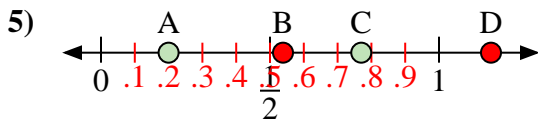
- a) Quelle lettre représente le mieux l'emplacement de 0,10 ?  
 b) Quelle lettre représente le mieux l'emplacement de 0,76 ?



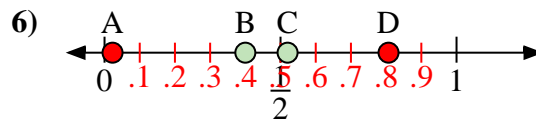
- a) Quelle lettre représente le mieux l'emplacement de 0,60 ?  
 b) Quelle lettre représente le mieux l'emplacement de 0,05 ?



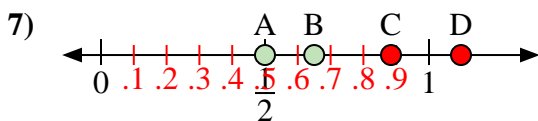
- a) Quelle lettre représente le mieux l'emplacement de 0,90 ?  
 b) Quelle lettre représente le mieux l'emplacement de 0,45 ?



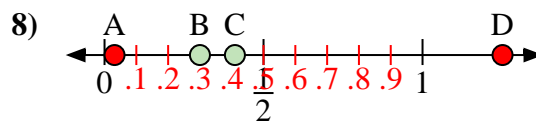
- a) Quelle lettre représente le mieux l'emplacement de 0,2 ?  
 b) Quelle lettre représente le mieux l'emplacement de 0,77 ?



- a) Quelle lettre représente le mieux l'emplacement de 0,40 ?  
 b) Quelle lettre représente le mieux l'emplacement de 0,52 ?



- a) Quelle lettre représente le mieux l'emplacement de 0,5 ?  
 b) Quelle lettre représente le mieux l'emplacement de 0,65 ?



- a) Quelle lettre représente le mieux l'emplacement de 0,30 ?  
 b) Quelle lettre représente le mieux l'emplacement de 0,41 ?

1. D A  
 2. A C  
 3. C A  
 4. D B  
 5. A C  
 6. B C  
 7. A B  
 8. B C