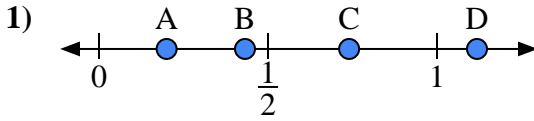


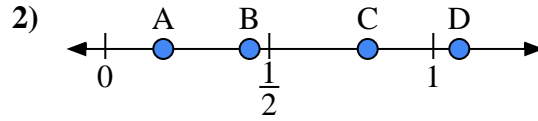


Utilisez la droite numérique pour répondre aux questions.

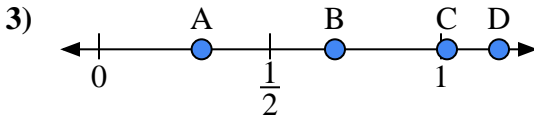
**Réponses**



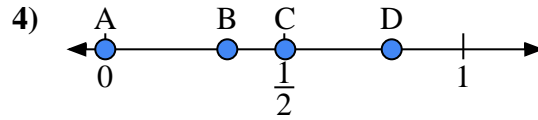
- a) Quelle lettre représente le mieux l'emplacement de 0,20 ?  
 b) Quelle lettre représente le mieux l'emplacement de 0,74 ?



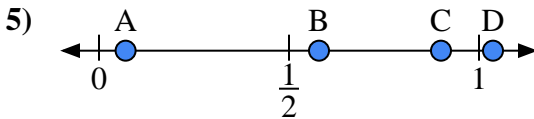
- a) Quelle lettre représente le mieux l'emplacement de 0,8 ?  
 b) Quelle lettre représente le mieux l'emplacement de 0,44 ?



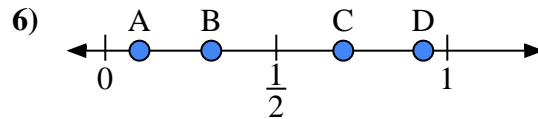
- a) Quelle lettre représente le mieux l'emplacement de 0,30 ?  
 b) Quelle lettre représente le mieux l'emplacement de 0,69 ?



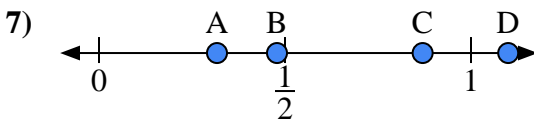
- a) Quelle lettre représente le mieux l'emplacement de 0,0 ?  
 b) Quelle lettre représente le mieux l'emplacement de 0,80 ?



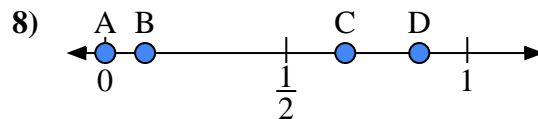
- a) Quelle lettre représente le mieux l'emplacement de 0,90 ?  
 b) Quelle lettre représente le mieux l'emplacement de 0,07 ?



- a) Quelle lettre représente le mieux l'emplacement de 0,10 ?  
 b) Quelle lettre représente le mieux l'emplacement de 0,31 ?



- a) Quelle lettre représente le mieux l'emplacement de 1,10 ?  
 b) Quelle lettre représente le mieux l'emplacement de 0,87 ?



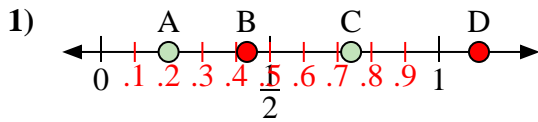
- a) Quelle lettre représente le mieux l'emplacement de 0,00 ?  
 b) Quelle lettre représente le mieux l'emplacement de 0,11 ?

1. \_\_\_\_\_  
 2. \_\_\_\_\_  
 3. \_\_\_\_\_  
 4. \_\_\_\_\_  
 5. \_\_\_\_\_  
 6. \_\_\_\_\_  
 7. \_\_\_\_\_  
 8. \_\_\_\_\_

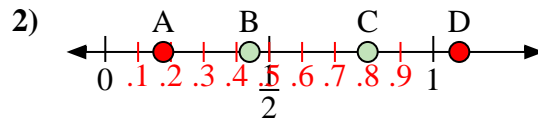


Utilisez la droite numérique pour répondre aux questions.

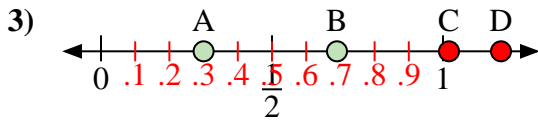
Réponses



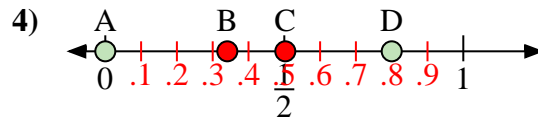
- a) Quelle lettre représente le mieux l'emplacement de 0,20 ?
- b) Quelle lettre représente le mieux l'emplacement de 0,74 ?



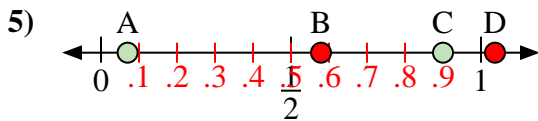
- a) Quelle lettre représente le mieux l'emplacement de 0,8 ?
- b) Quelle lettre représente le mieux l'emplacement de 0,44 ?



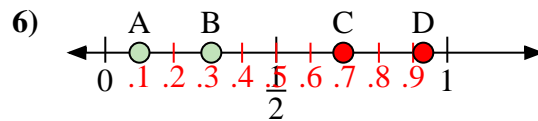
- a) Quelle lettre représente le mieux l'emplacement de 0,30 ?
- b) Quelle lettre représente le mieux l'emplacement de 0,69 ?



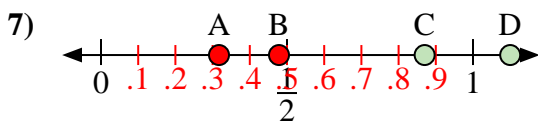
- a) Quelle lettre représente le mieux l'emplacement de 0,0 ?
- b) Quelle lettre représente le mieux l'emplacement de 0,80 ?



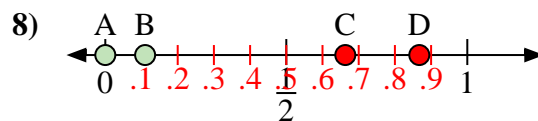
- a) Quelle lettre représente le mieux l'emplacement de 0,90 ?
- b) Quelle lettre représente le mieux l'emplacement de 0,07 ?



- a) Quelle lettre représente le mieux l'emplacement de 0,10 ?
- b) Quelle lettre représente le mieux l'emplacement de 0,31 ?



- a) Quelle lettre représente le mieux l'emplacement de 1,10 ?
- b) Quelle lettre représente le mieux l'emplacement de 0,87 ?



- a) Quelle lettre représente le mieux l'emplacement de 0,00 ?
- b) Quelle lettre représente le mieux l'emplacement de 0,11 ?

- 1. A C
- 2. C B
- 3. A B
- 4. A D
- 5. C A
- 6. A B
- 7. D C
- 8. A B