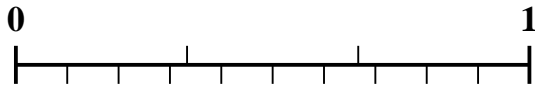


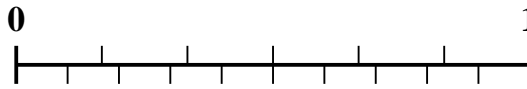


Utilisez la droite numérique pour résoudre chaque problème.

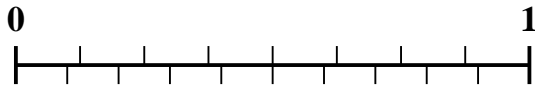
1) Quel montant est le plus grand, $\frac{2}{3}$ ou 0,82 ?



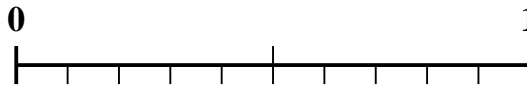
2) Quel montant est le plus grand, $\frac{4}{6}$ ou 0,54 ?



3) Quel montant est le plus grand, $\frac{6}{8}$ ou 0,62 ?



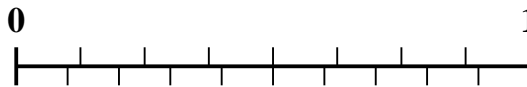
4) Quel montant est le plus grand, $\frac{1}{2}$ ou 0,68 ?



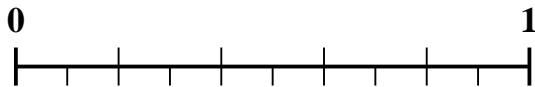
5) Quel montant est le plus grand, $\frac{1}{9}$ ou 0,26 ?



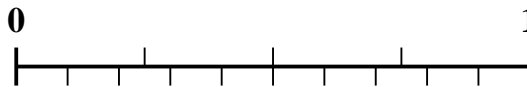
6) Quel montant est le plus grand, $\frac{3}{8}$ ou 0,52 ?



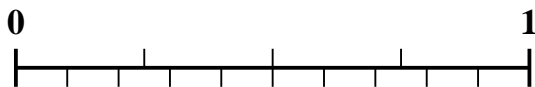
7) Quel montant est le plus grand, $\frac{2}{5}$ ou 0,56 ?



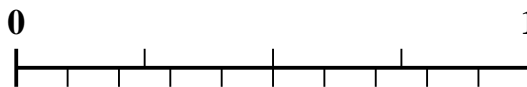
8) Quel montant est le plus grand, $\frac{3}{4}$ ou 0,86 ?



9) Quel montant est le plus grand, $\frac{1}{4}$ ou 0,14 ?



10) Quel montant est le plus grand, $\frac{2}{4}$ ou 0,68 ?



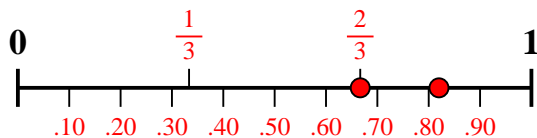
Réponses

1. _____
2. _____
3. _____
4. _____
5. _____
6. _____
7. _____
8. _____
9. _____
10. _____

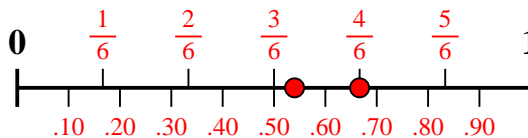


Utilisez la droite numérique pour résoudre chaque problème.

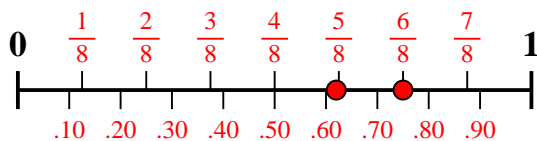
1) Quel montant est le plus grand, $\frac{2}{3}$ ou 0,82 ?



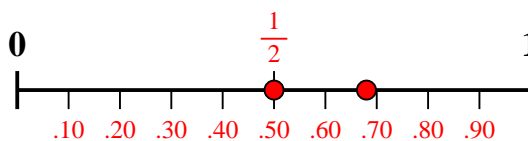
2) Quel montant est le plus grand, $\frac{4}{6}$ ou 0,54 ?



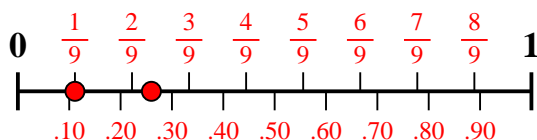
3) Quel montant est le plus grand, $\frac{6}{8}$ ou 0,62 ?



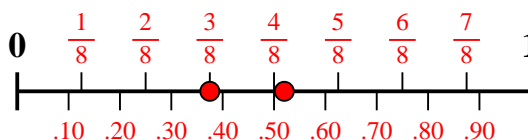
4) Quel montant est le plus grand, $\frac{1}{2}$ ou 0,68 ?



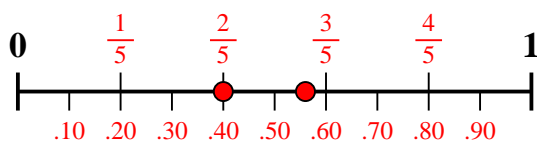
5) Quel montant est le plus grand, $\frac{1}{9}$ ou 0,26 ?



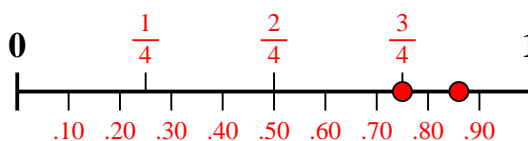
6) Quel montant est le plus grand, $\frac{3}{8}$ ou 0,52 ?



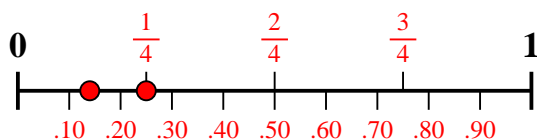
7) Quel montant est le plus grand, $\frac{2}{5}$ ou 0,56 ?



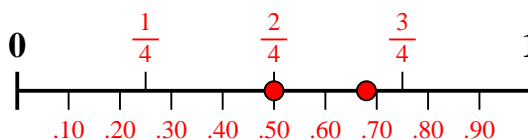
8) Quel montant est le plus grand, $\frac{3}{4}$ ou 0,86 ?



9) Quel montant est le plus grand, $\frac{1}{4}$ ou 0,14 ?



10) Quel montant est le plus grand, $\frac{2}{4}$ ou 0,68 ?



Réponses

1. 0,82
2. $\frac{4}{6}$
3. $\frac{6}{8}$
4. 0,68
5. 0,26
6. 0,52
7. 0,56
8. 0,86
9. $\frac{1}{4}$
10. 0,68