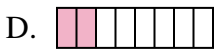
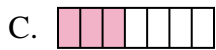

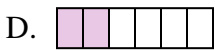
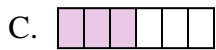
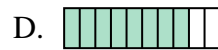
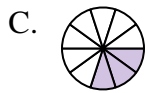
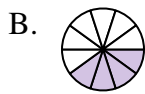
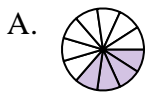
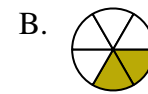
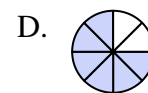
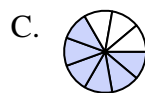
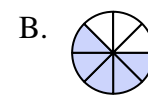
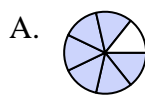

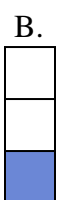
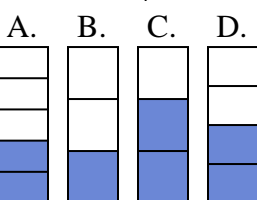



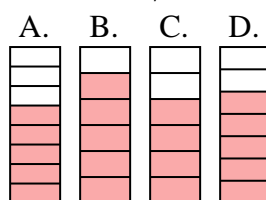




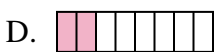
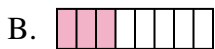
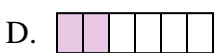
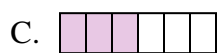
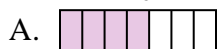
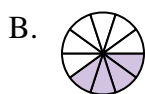
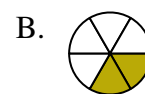

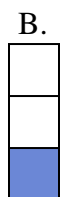
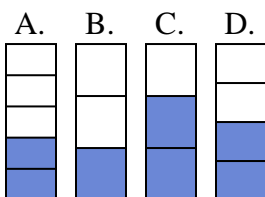



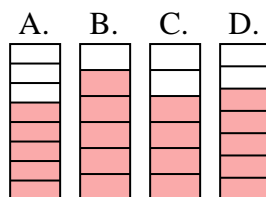
Quelle proposition permet de répondre à chaque question.

Réponses1) Laquelle de ces représentation représente la valeur de $\frac{3}{8}$?2) Laquelle de ces représentation représente la valeur de $\frac{4}{8}$?3) Laquelle de ces représentation représente la valeur de $\frac{3}{6}$?4) Laquelle de ces représentation représente la valeur de $\frac{8}{10}$?5) Laquelle de ces représentation représente la valeur de $\frac{3}{10}$?6) Laquelle de ces représentation représente la valeur de $\frac{2}{6}$?7) Laquelle de ces représentation représente la valeur de $\frac{5}{10}$?8) Laquelle de ces représentation représente la valeur de $\frac{6}{8}$?9) Laquelle de ces représentation représente la valeur de $\frac{2}{4}$?10) Laquelle de ces représentation représente la valeur de $\frac{5}{7}$?

1. _____
2. _____
3. _____
4. _____
5. _____
6. _____
7. _____
8. _____
9. _____
10. _____



Quelle proposition permet de répondre à chaque question.

Réponses1) Laquelle de ces représentation représente la valeur de $\frac{3}{8}$?2) Laquelle de ces représentation représente la valeur de $\frac{4}{8}$?3) Laquelle de ces représentation représente la valeur de $\frac{3}{6}$?4) Laquelle de ces représentation représente la valeur de $\frac{8}{10}$?5) Laquelle de ces représentation représente la valeur de $\frac{3}{10}$?6) Laquelle de ces représentation représente la valeur de $\frac{2}{6}$?7) Laquelle de ces représentation représente la valeur de $\frac{5}{10}$?8) Laquelle de ces représentation représente la valeur de $\frac{6}{8}$?9) Laquelle de ces représentation représente la valeur de $\frac{2}{4}$?10) Laquelle de ces représentation représente la valeur de $\frac{5}{7}$?1. **B**2. **D**3. **C**4. **D**5. **C**6. **B**7. **C**8. **D**9. **D**10. **D**