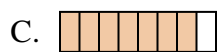
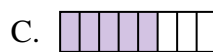
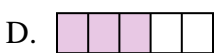
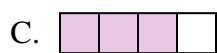
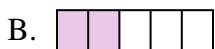
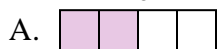

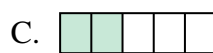


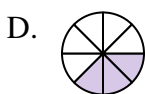
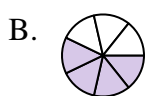
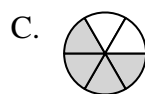
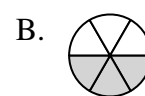


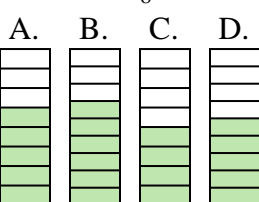

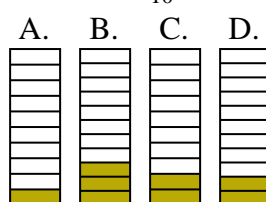




Quelle proposition permet de répondre à chaque question.

Réponses1) Laquelle de ces représentation représente la valeur de $\frac{6}{8}$?2) Laquelle de ces représentation représente la valeur de $\frac{4}{7}$?3) Laquelle de ces représentation représente la valeur de $\frac{3}{5}$?4) Laquelle de ces représentation représente la valeur de $\frac{2}{4}$?5) Laquelle de ces représentation représente la valeur de $\frac{3}{7}$?6) Laquelle de ces représentation représente la valeur de $\frac{4}{6}$?7) Laquelle de ces représentation représente la valeur de $\frac{6}{10}$?8) Laquelle de ces représentation représente la valeur de $\frac{3}{6}$?9) Laquelle de ces représentation représente la valeur de $\frac{5}{8}$?10) Laquelle de ces représentation représente la valeur de $\frac{2}{10}$?

1. _____

2. _____

3. _____

4. _____

5. _____

6. _____

7. _____

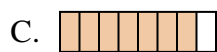
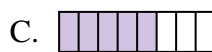
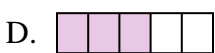
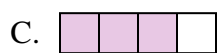
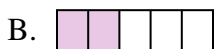
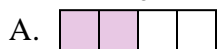


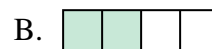

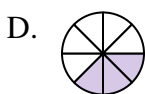
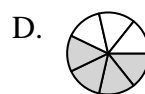
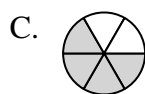
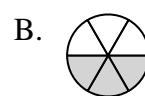

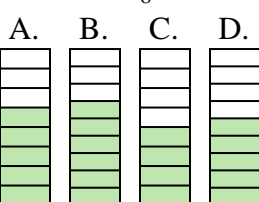

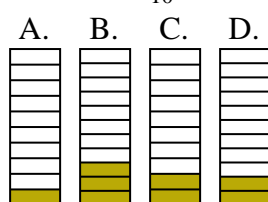
8. _____

9. _____

10. _____



Quelle proposition permet de répondre à chaque question.

Réponses1) Laquelle de ces représentation représente la valeur de $\frac{6}{8}$?2) Laquelle de ces représentation représente la valeur de $\frac{4}{7}$?3) Laquelle de ces représentation représente la valeur de $\frac{3}{5}$?4) Laquelle de ces représentation représente la valeur de $\frac{2}{4}$?5) Laquelle de ces représentation représente la valeur de $\frac{3}{7}$?6) Laquelle de ces représentation représente la valeur de $\frac{4}{6}$?7) Laquelle de ces représentation représente la valeur de $\frac{6}{10}$?8) Laquelle de ces représentation représente la valeur de $\frac{3}{6}$?9) Laquelle de ces représentation représente la valeur de $\frac{5}{8}$?10) Laquelle de ces représentation représente la valeur de $\frac{2}{10}$?1. **B**2. **A**3. **D**4. **B**5. **C**6. **C**7. **A**8. **D**9. **A**10. **C**