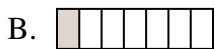
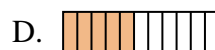
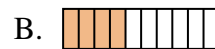
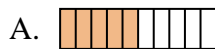
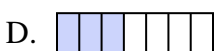
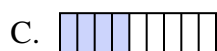
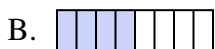
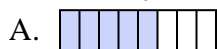
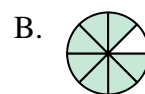



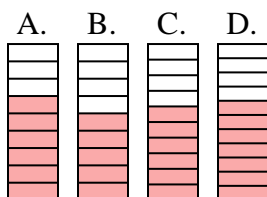

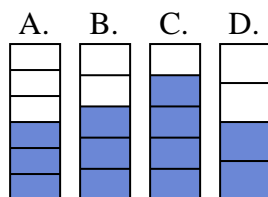




Quelle proposition permet de répondre à chaque question.

Réponses1) Laquelle de ces représentation représente la valeur de $\frac{2}{8}$?2) Laquelle de ces représentation représente la valeur de $\frac{4}{10}$?3) Laquelle de ces représentation représente la valeur de $\frac{4}{8}$?4) Laquelle de ces représentation représente la valeur de $\frac{2}{10}$?5) Laquelle de ces représentation représente la valeur de $\frac{2}{6}$?6) Laquelle de ces représentation représente la valeur de $\frac{6}{8}$?7) Laquelle de ces représentation représente la valeur de $\frac{3}{10}$?8) Laquelle de ces représentation représente la valeur de $\frac{3}{8}$?9) Laquelle de ces représentation représente la valeur de $\frac{6}{10}$?10) Laquelle de ces représentation représente la valeur de $\frac{3}{5}$?

1. _____

2. _____

3. _____

4. _____

5. _____

6. _____

7. _____

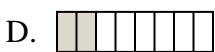
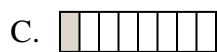
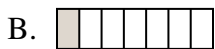
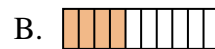
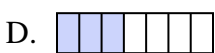
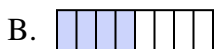
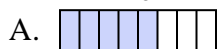
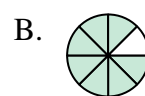
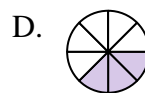


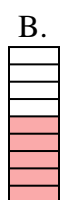
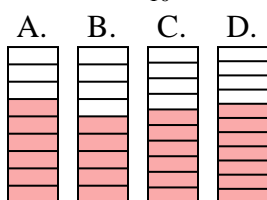
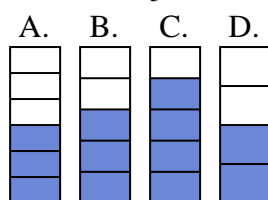
8. _____

9. _____

10. _____



Quelle proposition permet de répondre à chaque question.

Réponses1) Laquelle de ces représentation représente la valeur de $\frac{2}{8}$?2) Laquelle de ces représentation représente la valeur de $\frac{4}{10}$?3) Laquelle de ces représentation représente la valeur de $\frac{4}{8}$?4) Laquelle de ces représentation représente la valeur de $\frac{2}{10}$?5) Laquelle de ces représentation représente la valeur de $\frac{2}{6}$?6) Laquelle de ces représentation représente la valeur de $\frac{6}{8}$?7) Laquelle de ces représentation représente la valeur de $\frac{3}{10}$?8) Laquelle de ces représentation représente la valeur de $\frac{3}{8}$?9) Laquelle de ces représentation représente la valeur de $\frac{6}{10}$?10) Laquelle de ces représentation représente la valeur de $\frac{3}{5}$?1. **D**2. **B**3. **B**4. **C**5. **D**6. **D**7. **D**8. **D**9. **C**10. **B**