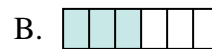
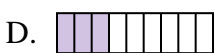
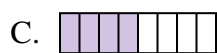
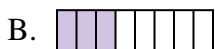
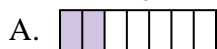
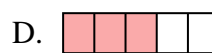
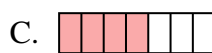
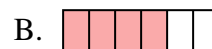

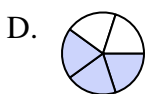
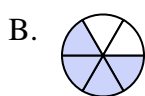
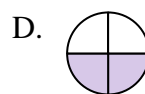
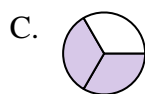
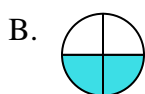


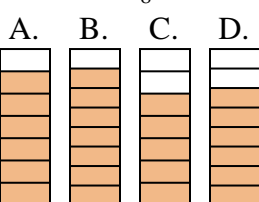


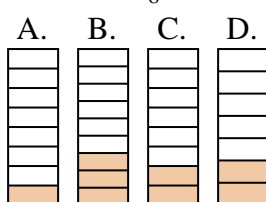




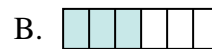
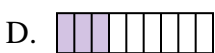
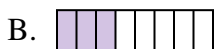
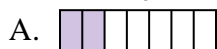
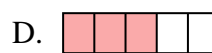
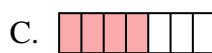
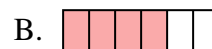

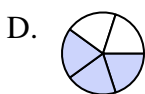
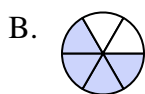
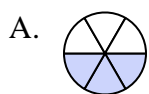
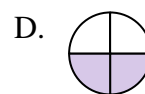
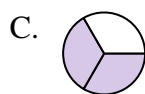
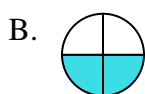
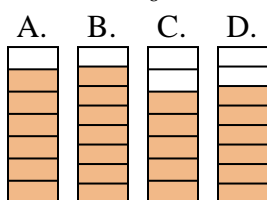

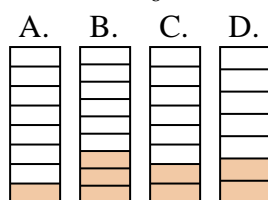
Quelle proposition permet de répondre à chaque question.

**Réponses**1) Laquelle de ces représentation représente la valeur de  $\frac{4}{8}$ ?2) Laquelle de ces représentation représente la valeur de  $\frac{3}{6}$ ?3) Laquelle de ces représentation représente la valeur de  $\frac{3}{8}$ ?4) Laquelle de ces représentation représente la valeur de  $\frac{4}{6}$ ?5) Laquelle de ces représentation représente la valeur de  $\frac{3}{5}$ ?6) Laquelle de ces représentation représente la valeur de  $\frac{2}{4}$ ?7) Laquelle de ces représentation représente la valeur de  $\frac{2}{5}$ ?8) Laquelle de ces représentation représente la valeur de  $\frac{2}{6}$ ?9) Laquelle de ces représentation représente la valeur de  $\frac{6}{8}$ ?10) Laquelle de ces représentation représente la valeur de  $\frac{2}{8}$ ?

1. \_\_\_\_\_
2. \_\_\_\_\_
3. \_\_\_\_\_
4. \_\_\_\_\_
5. \_\_\_\_\_
6. \_\_\_\_\_
7. \_\_\_\_\_
8. \_\_\_\_\_
9. \_\_\_\_\_
10. \_\_\_\_\_



Quelle proposition permet de répondre à chaque question.

**Réponses**1) Laquelle de ces représentation représente la valeur de  $\frac{4}{8}$ ?2) Laquelle de ces représentation représente la valeur de  $\frac{3}{6}$ ?3) Laquelle de ces représentation représente la valeur de  $\frac{3}{8}$ ?4) Laquelle de ces représentation représente la valeur de  $\frac{4}{6}$ ?5) Laquelle de ces représentation représente la valeur de  $\frac{3}{5}$ ?6) Laquelle de ces représentation représente la valeur de  $\frac{2}{4}$ ?7) Laquelle de ces représentation représente la valeur de  $\frac{2}{5}$ ?8) Laquelle de ces représentation représente la valeur de  $\frac{2}{6}$ ?9) Laquelle de ces représentation représente la valeur de  $\frac{6}{8}$ ?10) Laquelle de ces représentation représente la valeur de  $\frac{2}{8}$ ?1.   **A**  2.   **B**  3.   **B**  4.   **B**  5.   **D**  6.   **D**  7.   **A**  8.   **A**  9.   **D**  10.   **C**