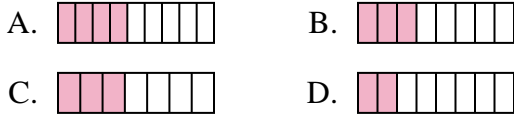




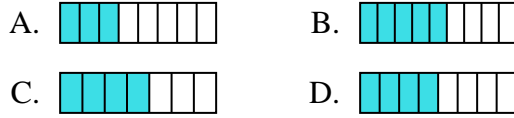
Quelle proposition permet de répondre à chaque question.

Réponses

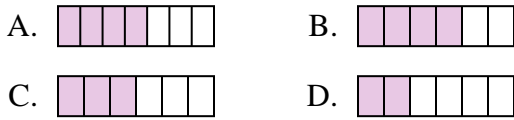
1) Laquelle de ces représentation représente la valeur de  $\frac{3}{8}$ ?



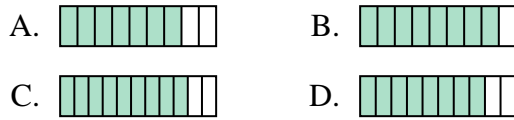
2) Laquelle de ces représentation représente la valeur de  $\frac{4}{8}$ ?



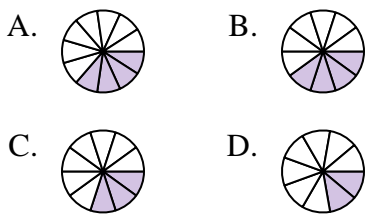
3) Laquelle de ces représentation représente la valeur de  $\frac{3}{6}$ ?



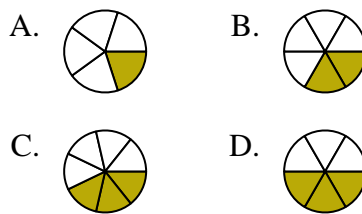
4) Laquelle de ces représentation représente la valeur de  $\frac{8}{10}$ ?



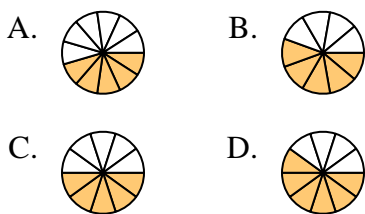
5) Laquelle de ces représentation représente la valeur de  $\frac{3}{10}$ ?



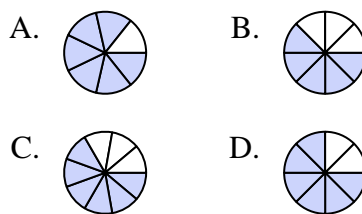
6) Laquelle de ces représentation représente la valeur de  $\frac{2}{6}$ ?



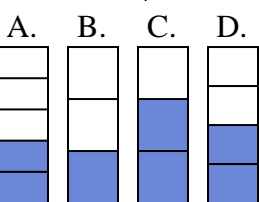
7) Laquelle de ces représentation représente la valeur de  $\frac{5}{10}$ ?



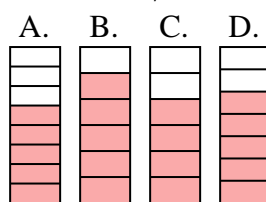
8) Laquelle de ces représentation représente la valeur de  $\frac{6}{8}$ ?



9) Laquelle de ces représentation représente la valeur de  $\frac{2}{4}$ ?



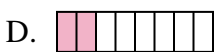
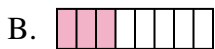
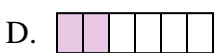
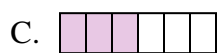
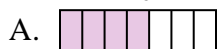
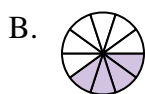
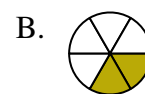

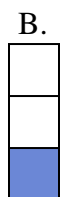
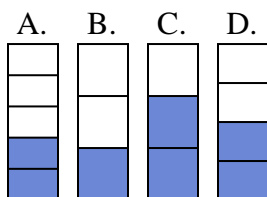



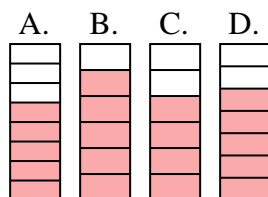
10) Laquelle de ces représentation représente la valeur de  $\frac{5}{7}$ ?



1. \_\_\_\_\_
2. \_\_\_\_\_
3. \_\_\_\_\_
4. \_\_\_\_\_
5. \_\_\_\_\_
6. \_\_\_\_\_
7. \_\_\_\_\_
8. \_\_\_\_\_
9. \_\_\_\_\_
10. \_\_\_\_\_



Quelle proposition permet de répondre à chaque question.

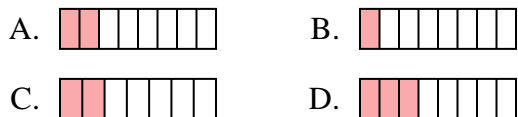
**Réponses**1) Laquelle de ces représentation représente la valeur de  $\frac{3}{8}$ ?2) Laquelle de ces représentation représente la valeur de  $\frac{4}{8}$ ?3) Laquelle de ces représentation représente la valeur de  $\frac{3}{6}$ ?4) Laquelle de ces représentation représente la valeur de  $\frac{8}{10}$ ?5) Laquelle de ces représentation représente la valeur de  $\frac{3}{10}$ ?6) Laquelle de ces représentation représente la valeur de  $\frac{2}{6}$ ?7) Laquelle de ces représentation représente la valeur de  $\frac{5}{10}$ ?8) Laquelle de ces représentation représente la valeur de  $\frac{6}{8}$ ?9) Laquelle de ces représentation représente la valeur de  $\frac{2}{4}$ ?10) Laquelle de ces représentation représente la valeur de  $\frac{5}{7}$ ?1. **B**2. **D**3. **C**4. **D**5. **C**6. **B**7. **C**8. **D**9. **D**10. **D**



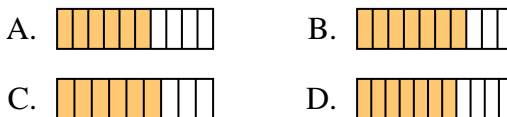
Quelle proposition permet de répondre à chaque question.

**Réponses**

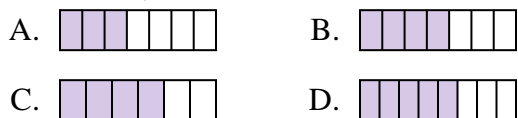
1) Laquelle de ces représentation représente la valeur de  $\frac{2}{8}$ ?



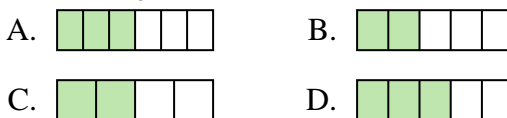
2) Laquelle de ces représentation représente la valeur de  $\frac{6}{10}$ ?



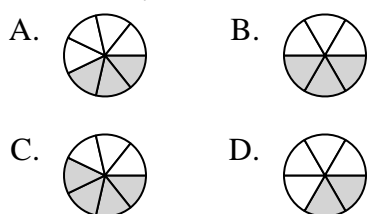
3) Laquelle de ces représentation représente la valeur de  $\frac{4}{7}$ ?



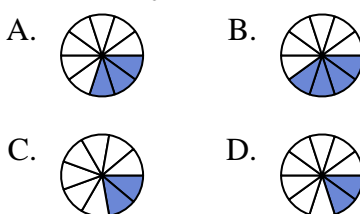
4) Laquelle de ces représentation représente la valeur de  $\frac{3}{5}$ ?



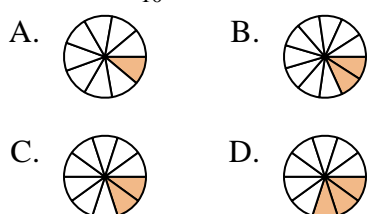
5) Laquelle de ces représentation représente la valeur de  $\frac{3}{7}$ ?



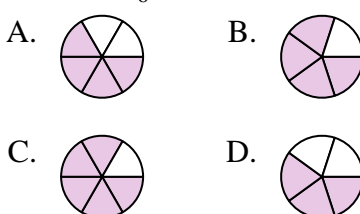
6) Laquelle de ces représentation représente la valeur de  $\frac{3}{10}$ ?



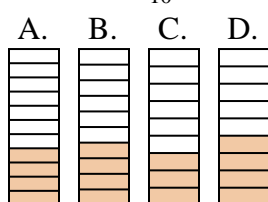
7) Laquelle de ces représentation représente la valeur de  $\frac{2}{10}$ ?



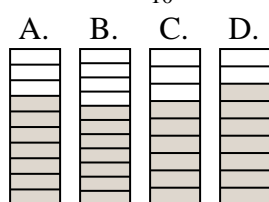
8) Laquelle de ces représentation représente la valeur de  $\frac{4}{6}$ ?



9) Laquelle de ces représentation représente la valeur de  $\frac{4}{10}$ ?



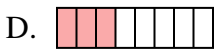
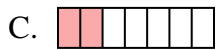
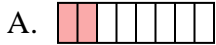
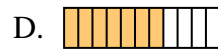
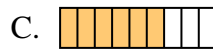
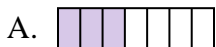




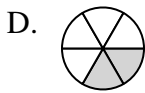
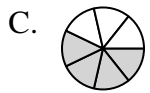
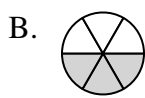
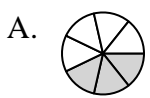
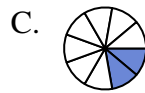
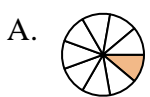
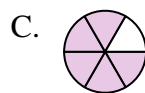
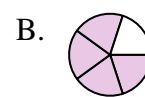
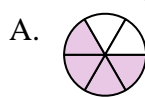

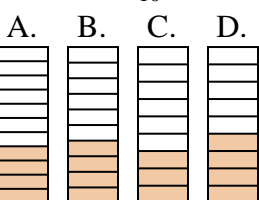

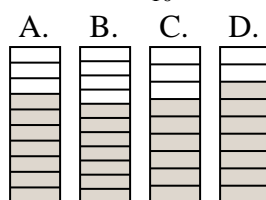
10) Laquelle de ces représentation représente la valeur de  $\frac{7}{10}$ ?



1. \_\_\_\_\_
2. \_\_\_\_\_
3. \_\_\_\_\_
4. \_\_\_\_\_
5. \_\_\_\_\_
6. \_\_\_\_\_
7. \_\_\_\_\_
8. \_\_\_\_\_
9. \_\_\_\_\_
10. \_\_\_\_\_

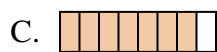
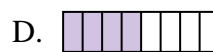
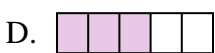
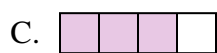
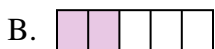
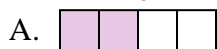

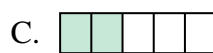


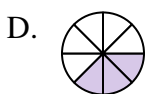
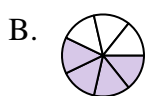
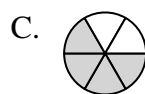
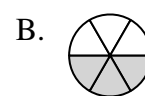

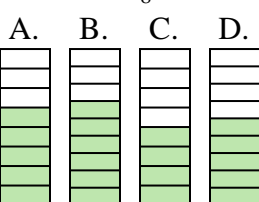

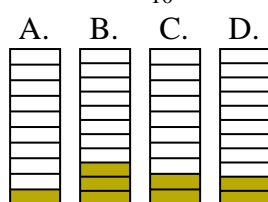


Quelle proposition permet de répondre à chaque question.

**Réponses**1) Laquelle de ces représentation représente la valeur de  $\frac{2}{8}$ ?2) Laquelle de ces représentation représente la valeur de  $\frac{6}{10}$ ?3) Laquelle de ces représentation représente la valeur de  $\frac{4}{7}$ ?4) Laquelle de ces représentation représente la valeur de  $\frac{3}{5}$ ?5) Laquelle de ces représentation représente la valeur de  $\frac{3}{7}$ ?6) Laquelle de ces représentation représente la valeur de  $\frac{3}{10}$ ?7) Laquelle de ces représentation représente la valeur de  $\frac{2}{10}$ ?8) Laquelle de ces représentation représente la valeur de  $\frac{4}{6}$ ?9) Laquelle de ces représentation représente la valeur de  $\frac{4}{10}$ ?10) Laquelle de ces représentation représente la valeur de  $\frac{7}{10}$ ?1.   **A**  2.   **A**  3.   **B**  4.   **D**  5.   **A**  6.   **A**  7.   **C**  8.   **A**  9.   **B**  10.   **A**



Quelle proposition permet de répondre à chaque question.

**Réponses**1) Laquelle de ces représentation représente la valeur de  $\frac{6}{8}$ ?2) Laquelle de ces représentation représente la valeur de  $\frac{4}{7}$ ?3) Laquelle de ces représentation représente la valeur de  $\frac{3}{5}$ ?4) Laquelle de ces représentation représente la valeur de  $\frac{2}{4}$ ?5) Laquelle de ces représentation représente la valeur de  $\frac{3}{7}$ ?6) Laquelle de ces représentation représente la valeur de  $\frac{4}{6}$ ?7) Laquelle de ces représentation représente la valeur de  $\frac{6}{10}$ ?8) Laquelle de ces représentation représente la valeur de  $\frac{3}{6}$ ?9) Laquelle de ces représentation représente la valeur de  $\frac{5}{8}$ ?10) Laquelle de ces représentation représente la valeur de  $\frac{2}{10}$ ?

1. \_\_\_\_\_

2. \_\_\_\_\_

3. \_\_\_\_\_

4. \_\_\_\_\_

5. \_\_\_\_\_

6. \_\_\_\_\_

7. \_\_\_\_\_

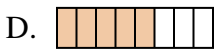
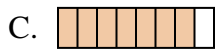
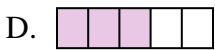
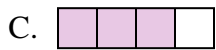
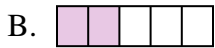
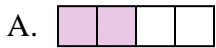
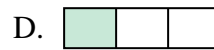

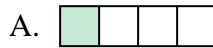
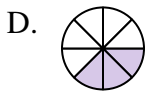
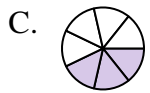
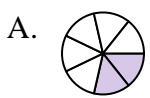
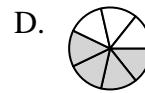
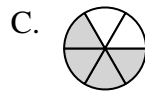
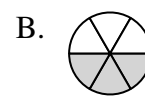
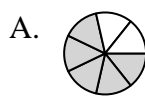
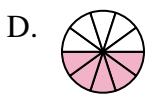
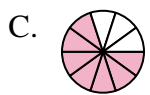
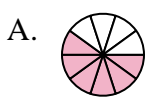
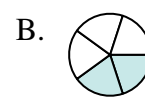


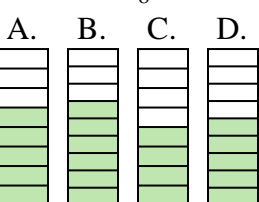


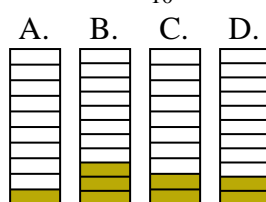
8. \_\_\_\_\_

9. \_\_\_\_\_

10. \_\_\_\_\_

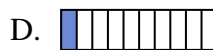
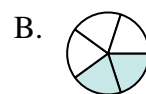
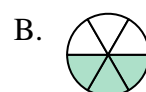


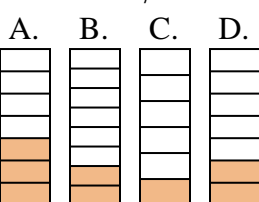



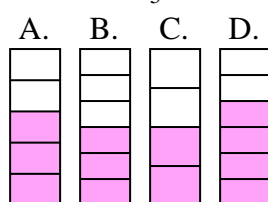


Quelle proposition permet de répondre à chaque question.

**Réponses**1) Laquelle de ces représentation représente la valeur de  $\frac{6}{8}$ ?2) Laquelle de ces représentation représente la valeur de  $\frac{4}{7}$ ?3) Laquelle de ces représentation représente la valeur de  $\frac{3}{5}$ ?4) Laquelle de ces représentation représente la valeur de  $\frac{2}{4}$ ?5) Laquelle de ces représentation représente la valeur de  $\frac{3}{7}$ ?6) Laquelle de ces représentation représente la valeur de  $\frac{4}{6}$ ?7) Laquelle de ces représentation représente la valeur de  $\frac{6}{10}$ ?8) Laquelle de ces représentation représente la valeur de  $\frac{3}{6}$ ?9) Laquelle de ces représentation représente la valeur de  $\frac{5}{8}$ ?10) Laquelle de ces représentation représente la valeur de  $\frac{2}{10}$ ?1. **B**2. **A**3. **D**4. **B**5. **C**6. **C**7. **A**8. **D**9. **A**10. **C**



Quelle proposition permet de répondre à chaque question.

**Réponses**1) Laquelle de ces représentation représente la valeur de  $\frac{5}{8}$ ?2) Laquelle de ces représentation représente la valeur de  $\frac{2}{10}$ ?3) Laquelle de ces représentation représente la valeur de  $\frac{4}{8}$ ?4) Laquelle de ces représentation représente la valeur de  $\frac{3}{10}$ ?5) Laquelle de ces représentation représente la valeur de  $\frac{5}{10}$ ?6) Laquelle de ces représentation représente la valeur de  $\frac{3}{6}$ ?7) Laquelle de ces représentation représente la valeur de  $\frac{8}{10}$ ?8) Laquelle de ces représentation représente la valeur de  $\frac{2}{6}$ ?9) Laquelle de ces représentation représente la valeur de  $\frac{2}{7}$ ?10) Laquelle de ces représentation représente la valeur de  $\frac{3}{5}$ ?

1. \_\_\_\_\_

2. \_\_\_\_\_

3. \_\_\_\_\_

4. \_\_\_\_\_

5. \_\_\_\_\_

6. \_\_\_\_\_

7. \_\_\_\_\_


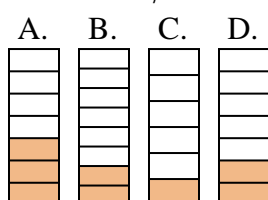
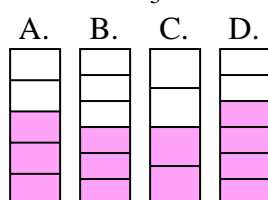
8. \_\_\_\_\_

9. \_\_\_\_\_

10. \_\_\_\_\_



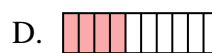
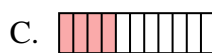
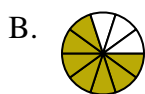
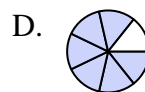
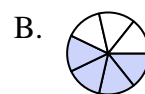


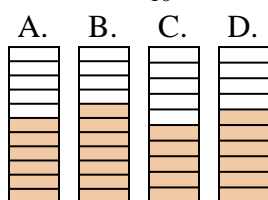
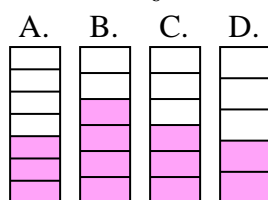
Quelle proposition permet de répondre à chaque question.

**Réponses**1) Laquelle de ces représentation représente la valeur de  $\frac{5}{8}$ ?2) Laquelle de ces représentation représente la valeur de  $\frac{2}{10}$ ?3) Laquelle de ces représentation représente la valeur de  $\frac{4}{8}$ ?4) Laquelle de ces représentation représente la valeur de  $\frac{3}{10}$ ?5) Laquelle de ces représentation représente la valeur de  $\frac{5}{10}$ ?6) Laquelle de ces représentation représente la valeur de  $\frac{3}{6}$ ?7) Laquelle de ces représentation représente la valeur de  $\frac{8}{10}$ ?8) Laquelle de ces représentation représente la valeur de  $\frac{2}{6}$ ?9) Laquelle de ces représentation représente la valeur de  $\frac{2}{7}$ ?10) Laquelle de ces représentation représente la valeur de  $\frac{3}{5}$ ?1. **C**2. **B**3. **D**4. **D**5. **D**6. **A**7. **A**8. **A**9. **D**10. **A**





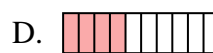
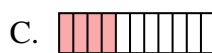
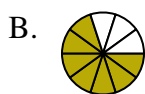
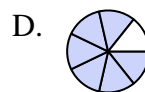
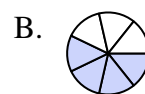

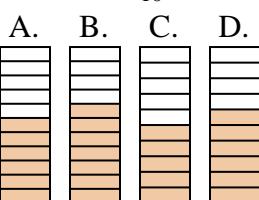

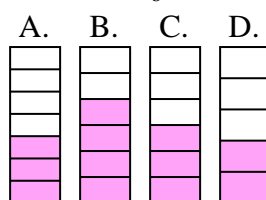
Quelle proposition permet de répondre à chaque question.

**Réponses**1) Laquelle de ces représentation représente la valeur de  $\frac{6}{8}$ ?2) Laquelle de ces représentation représente la valeur de  $\frac{5}{8}$ ?3) Laquelle de ces représentation représente la valeur de  $\frac{3}{5}$ ?4) Laquelle de ces représentation représente la valeur de  $\frac{3}{10}$ ?5) Laquelle de ces représentation représente la valeur de  $\frac{8}{10}$ ?6) Laquelle de ces représentation représente la valeur de  $\frac{5}{7}$ ?7) Laquelle de ces représentation représente la valeur de  $\frac{3}{7}$ ?8) Laquelle de ces représentation représente la valeur de  $\frac{4}{10}$ ?9) Laquelle de ces représentation représente la valeur de  $\frac{6}{10}$ ?10) Laquelle de ces représentation représente la valeur de  $\frac{3}{6}$ ?

1. \_\_\_\_\_
2. \_\_\_\_\_
3. \_\_\_\_\_
4. \_\_\_\_\_
5. \_\_\_\_\_
6. \_\_\_\_\_
7. \_\_\_\_\_
8. \_\_\_\_\_
9. \_\_\_\_\_
10. \_\_\_\_\_



Quelle proposition permet de répondre à chaque question.





**Réponses**1) Laquelle de ces représentation représente la valeur de  $\frac{6}{8}$ ?2) Laquelle de ces représentation représente la valeur de  $\frac{5}{8}$ ?3) Laquelle de ces représentation représente la valeur de  $\frac{3}{5}$ ?4) Laquelle de ces représentation représente la valeur de  $\frac{3}{10}$ ?5) Laquelle de ces représentation représente la valeur de  $\frac{8}{10}$ ?6) Laquelle de ces représentation représente la valeur de  $\frac{5}{7}$ ?7) Laquelle de ces représentation représente la valeur de  $\frac{3}{7}$ ?8) Laquelle de ces représentation représente la valeur de  $\frac{4}{10}$ ?9) Laquelle de ces représentation représente la valeur de  $\frac{6}{10}$ ?10) Laquelle de ces représentation représente la valeur de  $\frac{3}{6}$ ?1. **A**2. **B**3. **A**4. **B**5. **D**6. **C**7. **D**8. **D**9. **D**10. **C**







Quelle proposition permet de répondre à chaque question.

**Réponses**





1) Laquelle de ces représentation représente la valeur de  $\frac{2}{4}$ ?

- A.  B.   
 C.  D. 





2) Laquelle de ces représentation représente la valeur de  $\frac{4}{6}$ ?

- A.  B.   
 C.  D. 





3) Laquelle de ces représentation représente la valeur de  $\frac{3}{8}$ ?

- A.  B.   
 C.  D. 





4) Laquelle de ces représentation représente la valeur de  $\frac{3}{10}$ ?

- A.  B.   
 C.  D. 





5) Laquelle de ces représentation représente la valeur de  $\frac{2}{5}$ ?

- A.  B.   
 C.  D. 





6) Laquelle de ces représentation représente la valeur de  $\frac{5}{7}$ ?

- A.  B.   
 C.  D. 





7) Laquelle de ces représentation représente la valeur de  $\frac{3}{5}$ ?

- A.  B.   
 C.  D. 





8) Laquelle de ces représentation représente la valeur de  $\frac{7}{10}$ ?

- A.  B.   
 C.  D. 

9) Laquelle de ces représentation représente la valeur de  $\frac{2}{10}$ ?

- A.  B.   
 C.  D. 

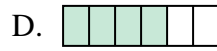
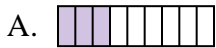

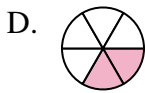
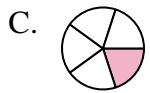
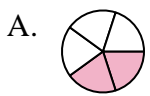
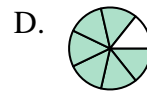
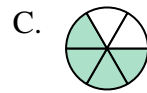
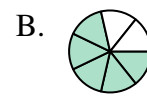
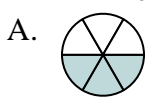
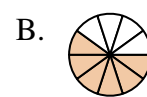
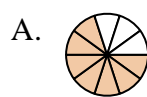



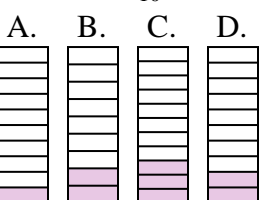



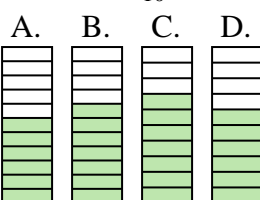
10) Laquelle de ces représentation représente la valeur de  $\frac{6}{10}$ ?

- A.  B.   
 C.  D. 

1. \_\_\_\_\_
2. \_\_\_\_\_
3. \_\_\_\_\_
4. \_\_\_\_\_
5. \_\_\_\_\_
6. \_\_\_\_\_
7. \_\_\_\_\_
8. \_\_\_\_\_
9. \_\_\_\_\_
10. \_\_\_\_\_



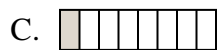
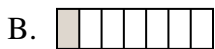

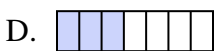
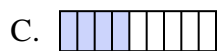
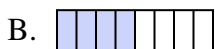
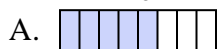
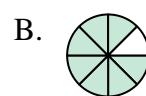
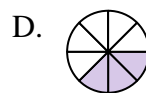


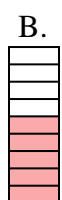
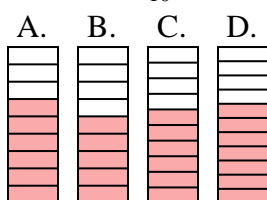
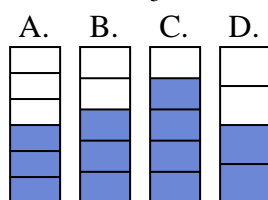
Quelle proposition permet de répondre à chaque question.

**Réponses**1) Laquelle de ces représentation représente la valeur de  $\frac{2}{4}$ ?2) Laquelle de ces représentation représente la valeur de  $\frac{4}{6}$ ?3) Laquelle de ces représentation représente la valeur de  $\frac{3}{8}$ ?4) Laquelle de ces représentation représente la valeur de  $\frac{3}{10}$ ?5) Laquelle de ces représentation représente la valeur de  $\frac{2}{5}$ ?6) Laquelle de ces représentation représente la valeur de  $\frac{5}{7}$ ?7) Laquelle de ces représentation représente la valeur de  $\frac{3}{5}$ ?8) Laquelle de ces représentation représente la valeur de  $\frac{7}{10}$ ?9) Laquelle de ces représentation représente la valeur de  $\frac{2}{10}$ ?10) Laquelle de ces représentation représente la valeur de  $\frac{6}{10}$ ?

1.     **B**
2.     **D**
3.     **B**
4.     **C**
5.     **A**
6.     **B**
7.     **C**
8.     **A**
9.     **D**
10.     **D**



Quelle proposition permet de répondre à chaque question.

**Réponses**1) Laquelle de ces représentation représente la valeur de  $\frac{2}{8}$ ?2) Laquelle de ces représentation représente la valeur de  $\frac{4}{10}$ ?3) Laquelle de ces représentation représente la valeur de  $\frac{4}{8}$ ?4) Laquelle de ces représentation représente la valeur de  $\frac{2}{10}$ ?5) Laquelle de ces représentation représente la valeur de  $\frac{2}{6}$ ?6) Laquelle de ces représentation représente la valeur de  $\frac{6}{8}$ ?7) Laquelle de ces représentation représente la valeur de  $\frac{3}{10}$ ?8) Laquelle de ces représentation représente la valeur de  $\frac{3}{8}$ ?9) Laquelle de ces représentation représente la valeur de  $\frac{6}{10}$ ?10) Laquelle de ces représentation représente la valeur de  $\frac{3}{5}$ ?

1. \_\_\_\_\_

2. \_\_\_\_\_

3. \_\_\_\_\_

4. \_\_\_\_\_

5. \_\_\_\_\_

6. \_\_\_\_\_

7. \_\_\_\_\_

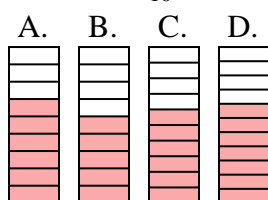
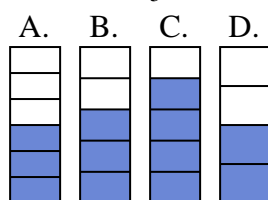
8. \_\_\_\_\_

9. \_\_\_\_\_

10. \_\_\_\_\_



Quelle proposition permet de répondre à chaque question.

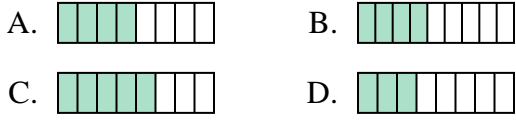
**Réponses**1) Laquelle de ces représentation représente la valeur de  $\frac{2}{8}$ ?2) Laquelle de ces représentation représente la valeur de  $\frac{4}{10}$ ?3) Laquelle de ces représentation représente la valeur de  $\frac{4}{8}$ ?4) Laquelle de ces représentation représente la valeur de  $\frac{2}{10}$ ?5) Laquelle de ces représentation représente la valeur de  $\frac{2}{6}$ ?6) Laquelle de ces représentation représente la valeur de  $\frac{6}{8}$ ?7) Laquelle de ces représentation représente la valeur de  $\frac{3}{10}$ ?8) Laquelle de ces représentation représente la valeur de  $\frac{3}{8}$ ?9) Laquelle de ces représentation représente la valeur de  $\frac{6}{10}$ ?10) Laquelle de ces représentation représente la valeur de  $\frac{3}{5}$ ?1. **D**2. **B**3. **B**4. **C**5. **D**6. **D**7. **D**8. **D**9. **C**10. **B**



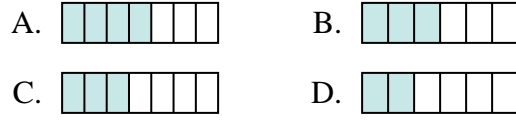
Quelle proposition permet de répondre à chaque question.

**Réponses**

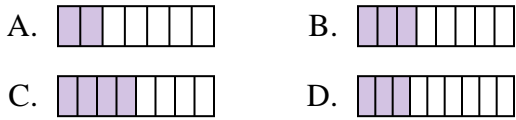
1) Laquelle de ces représentation représente la valeur de  $\frac{4}{8}$ ?



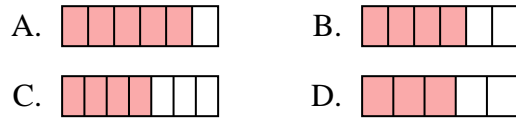
2) Laquelle de ces représentation représente la valeur de  $\frac{3}{6}$ ?



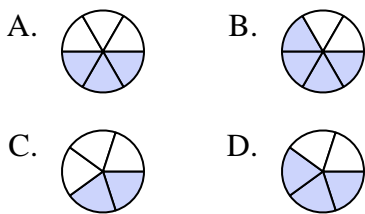
3) Laquelle de ces représentation représente la valeur de  $\frac{3}{8}$ ?



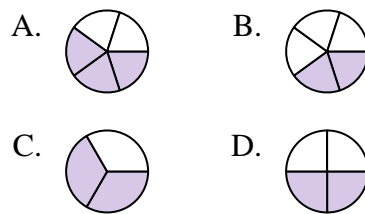
4) Laquelle de ces représentation représente la valeur de  $\frac{4}{6}$ ?



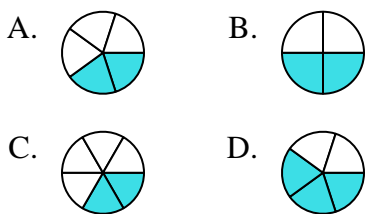
5) Laquelle de ces représentation représente la valeur de  $\frac{3}{5}$ ?



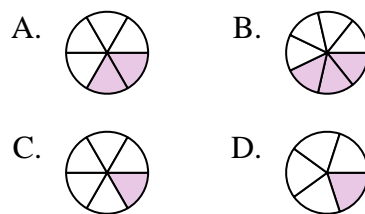
6) Laquelle de ces représentation représente la valeur de  $\frac{2}{4}$ ?



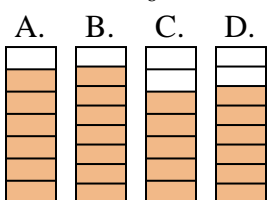
7) Laquelle de ces représentation représente la valeur de  $\frac{2}{5}$ ?



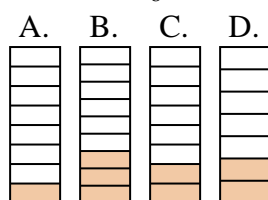
8) Laquelle de ces représentation représente la valeur de  $\frac{2}{6}$ ?



9) Laquelle de ces représentation représente la valeur de  $\frac{6}{8}$ ?



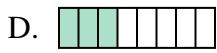
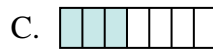
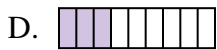
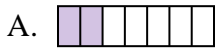
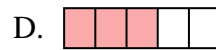
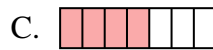
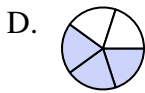
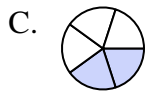
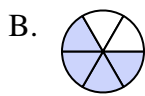
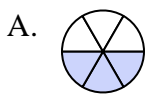
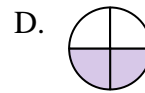
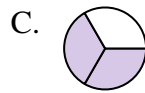
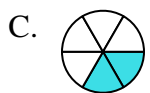
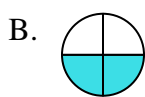
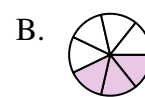
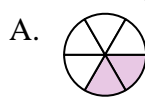
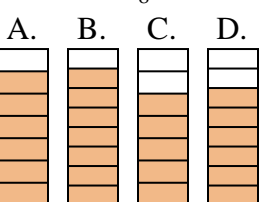
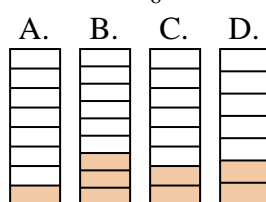
10) Laquelle de ces représentation représente la valeur de  $\frac{2}{8}$ ?



1. \_\_\_\_\_
2. \_\_\_\_\_
3. \_\_\_\_\_
4. \_\_\_\_\_
5. \_\_\_\_\_
6. \_\_\_\_\_
7. \_\_\_\_\_
8. \_\_\_\_\_
9. \_\_\_\_\_
10. \_\_\_\_\_



Quelle proposition permet de répondre à chaque question.

**Réponses**1) Laquelle de ces représentation représente la valeur de  $\frac{4}{8}$ ?2) Laquelle de ces représentation représente la valeur de  $\frac{3}{6}$ ?3) Laquelle de ces représentation représente la valeur de  $\frac{3}{8}$ ?4) Laquelle de ces représentation représente la valeur de  $\frac{4}{6}$ ?5) Laquelle de ces représentation représente la valeur de  $\frac{3}{5}$ ?6) Laquelle de ces représentation représente la valeur de  $\frac{2}{4}$ ?7) Laquelle de ces représentation représente la valeur de  $\frac{2}{5}$ ?8) Laquelle de ces représentation représente la valeur de  $\frac{2}{6}$ ?9) Laquelle de ces représentation représente la valeur de  $\frac{6}{8}$ ?10) Laquelle de ces représentation représente la valeur de  $\frac{2}{8}$ ?1. **A**2. **B**3. **B**4. **B**5. **D**6. **D**7. **A**8. **A**9. **D**10. **C**

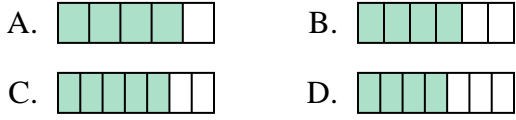




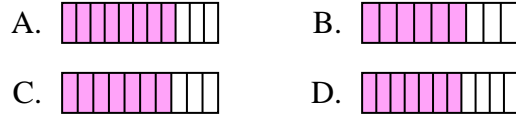
Quelle proposition permet de répondre à chaque question.

Réponses

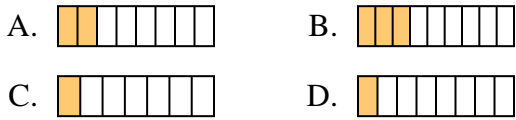
1) Laquelle de ces représentation représente la valeur de  $\frac{4}{6}$ ?



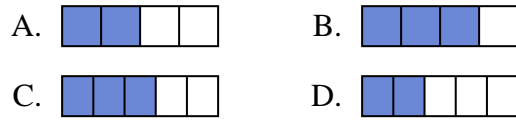
2) Laquelle de ces représentation représente la valeur de  $\frac{7}{10}$ ?



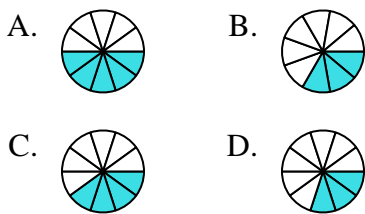
3) Laquelle de ces représentation représente la valeur de  $\frac{2}{8}$ ?



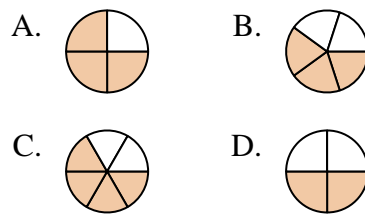
4) Laquelle de ces représentation représente la valeur de  $\frac{2}{4}$ ?



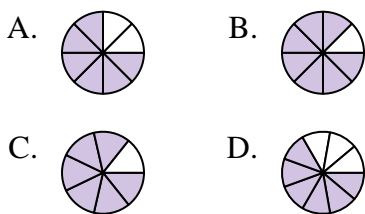
5) Laquelle de ces représentation représente la valeur de  $\frac{4}{10}$ ?



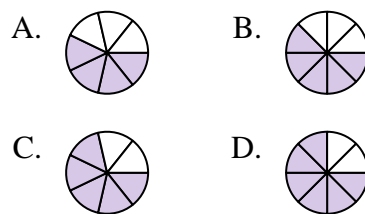
6) Laquelle de ces représentation représente la valeur de  $\frac{3}{5}$ ?



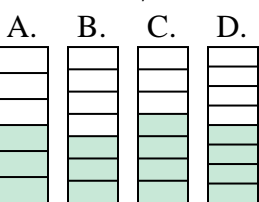
7) Laquelle de ces représentation représente la valeur de  $\frac{6}{8}$ ?



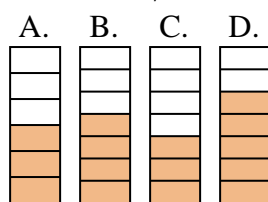
8) Laquelle de ces représentation représente la valeur de  $\frac{5}{8}$ ?



9) Laquelle de ces représentation représente la valeur de  $\frac{3}{7}$ ?



10) Laquelle de ces représentation représente la valeur de  $\frac{4}{7}$ ?



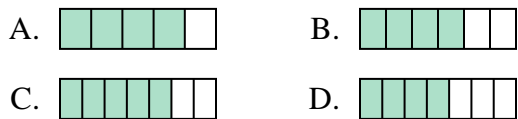
1. \_\_\_\_\_
2. \_\_\_\_\_
3. \_\_\_\_\_
4. \_\_\_\_\_
5. \_\_\_\_\_
6. \_\_\_\_\_
7. \_\_\_\_\_
8. \_\_\_\_\_
9. \_\_\_\_\_
10. \_\_\_\_\_



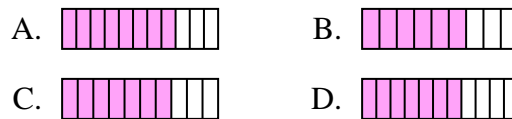
Quelle proposition permet de répondre à chaque question.

**Réponses**

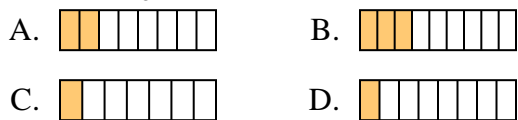
1) Laquelle de ces représentation représente la valeur de  $\frac{4}{6}$ ?



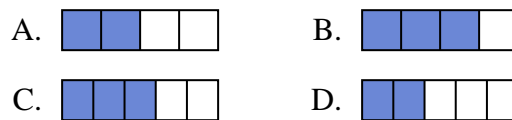
2) Laquelle de ces représentation représente la valeur de  $\frac{7}{10}$ ?



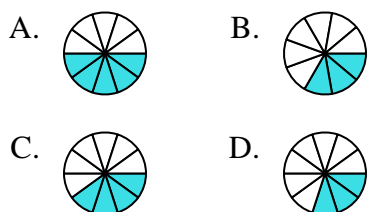
3) Laquelle de ces représentation représente la valeur de  $\frac{2}{8}$ ?



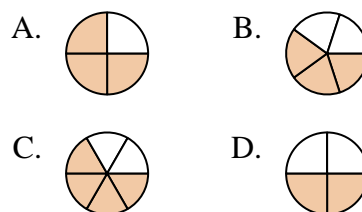
4) Laquelle de ces représentation représente la valeur de  $\frac{2}{4}$ ?



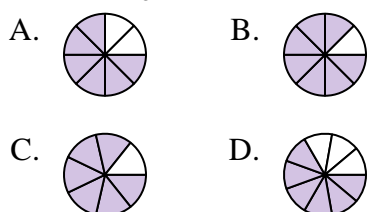
5) Laquelle de ces représentation représente la valeur de  $\frac{4}{10}$ ?



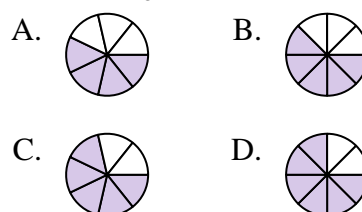
6) Laquelle de ces représentation représente la valeur de  $\frac{3}{5}$ ?



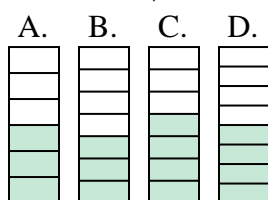
7) Laquelle de ces représentation représente la valeur de  $\frac{6}{8}$ ?



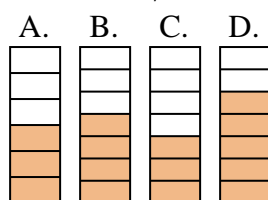
8) Laquelle de ces représentation représente la valeur de  $\frac{5}{8}$ ?



9) Laquelle de ces représentation représente la valeur de  $\frac{3}{7}$ ?



10) Laquelle de ces représentation représente la valeur de  $\frac{4}{7}$ ?



1. **B**

2. **C**

3. **A**

4. **A**

5. **C**

6. **B**

7. **A**

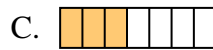

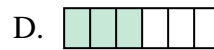
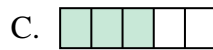
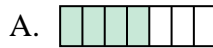
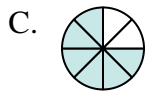
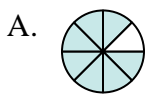
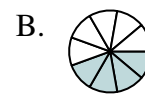
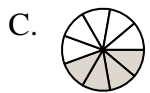
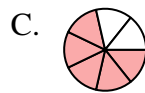
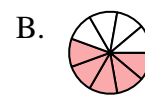



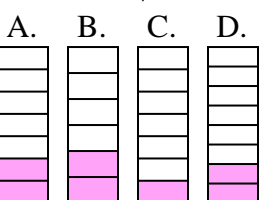



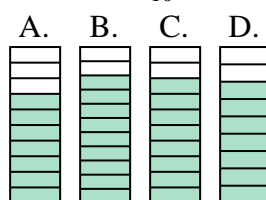
8. **B**

9. **B**

10. **B**



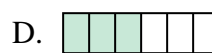

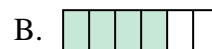
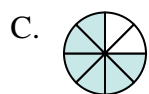
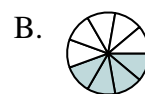
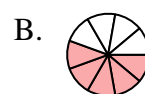

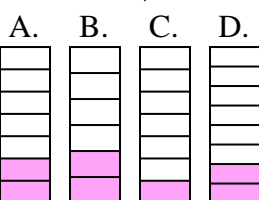



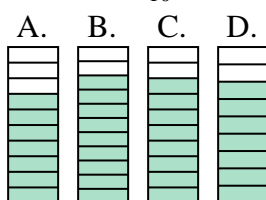
Quelle proposition permet de répondre à chaque question.

**Réponses**1) Laquelle de ces représentation représente la valeur de  $\frac{3}{8}$ ?2) Laquelle de ces représentation représente la valeur de  $\frac{2}{6}$ ?3) Laquelle de ces représentation représente la valeur de  $\frac{6}{10}$ ?4) Laquelle de ces représentation représente la valeur de  $\frac{4}{6}$ ?5) Laquelle de ces représentation représente la valeur de  $\frac{6}{8}$ ?6) Laquelle de ces représentation représente la valeur de  $\frac{4}{8}$ ?7) Laquelle de ces représentation représente la valeur de  $\frac{4}{10}$ ?8) Laquelle de ces représentation représente la valeur de  $\frac{5}{8}$ ?9) Laquelle de ces représentation représente la valeur de  $\frac{2}{7}$ ?10) Laquelle de ces représentation représente la valeur de  $\frac{8}{10}$ ?

1. \_\_\_\_\_
2. \_\_\_\_\_
3. \_\_\_\_\_
4. \_\_\_\_\_
5. \_\_\_\_\_
6. \_\_\_\_\_
7. \_\_\_\_\_
8. \_\_\_\_\_
9. \_\_\_\_\_
10. \_\_\_\_\_



Quelle proposition permet de répondre à chaque question.

**Réponses**1) Laquelle de ces représentation représente la valeur de  $\frac{3}{8}$ ?2) Laquelle de ces représentation représente la valeur de  $\frac{2}{6}$ ?3) Laquelle de ces représentation représente la valeur de  $\frac{6}{10}$ ?4) Laquelle de ces représentation représente la valeur de  $\frac{4}{6}$ ?5) Laquelle de ces représentation représente la valeur de  $\frac{6}{8}$ ?6) Laquelle de ces représentation représente la valeur de  $\frac{4}{8}$ ?7) Laquelle de ces représentation représente la valeur de  $\frac{4}{10}$ ?8) Laquelle de ces représentation représente la valeur de  $\frac{5}{8}$ ?9) Laquelle de ces représentation représente la valeur de  $\frac{2}{7}$ ?10) Laquelle de ces représentation représente la valeur de  $\frac{8}{10}$ ?1. **B**2. **D**3. **A**4. **B**5. **C**6. **D**7. **A**8. **A**9. **A**10. **C**