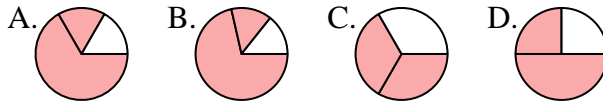




Déterminer quelle lettre représente le mieux chaque fraction.

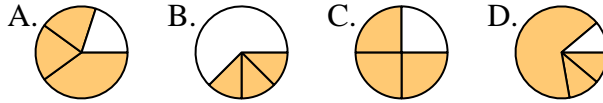
Réponses

1) Quelle réponse représente le mieux $\frac{2}{3}$?



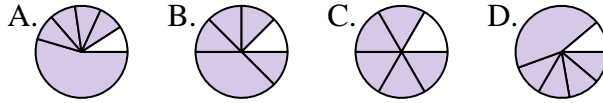
1. _____

2) Quelle réponse représente le mieux $\frac{3}{4}$?



2. _____

3) Quelle réponse représente le mieux $\frac{5}{6}$?



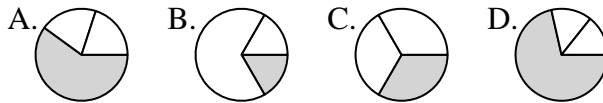
4. _____

4) Quelle réponse représente le mieux $\frac{6}{8}$?



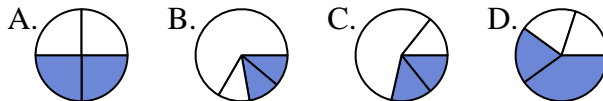
6. _____

5) Quelle réponse représente le mieux $\frac{1}{3}$?



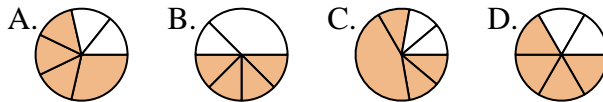
8. _____

6) Quelle réponse représente le mieux $\frac{2}{4}$?



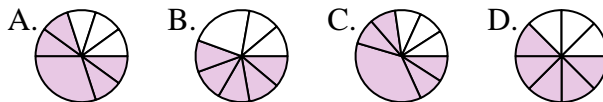
9. _____

7) Quelle réponse représente le mieux $\frac{4}{6}$?



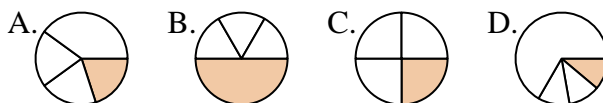
11. _____

8) Quelle réponse représente le mieux $\frac{5}{8}$?

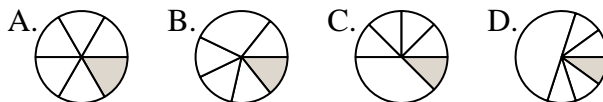


12. _____

9) Quelle réponse représente le mieux $\frac{1}{4}$?



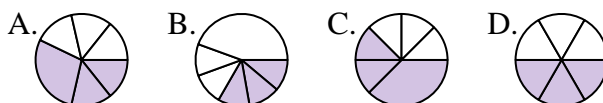
10) Quelle réponse représente le mieux $\frac{1}{6}$?



11) Quelle réponse représente le mieux $\frac{4}{8}$?



12) Quelle réponse représente le mieux $\frac{3}{6}$?

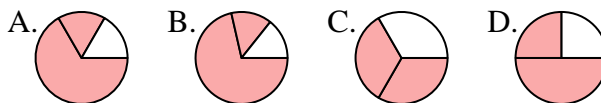




Déterminer quelle lettre représente le mieux chaque fraction.

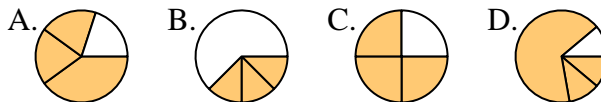
Réponses

1) Quelle réponse représente le mieux $\frac{2}{3}$?



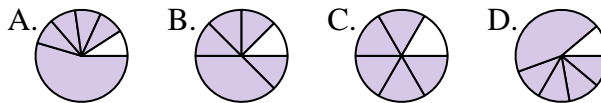
1. **C**

2) Quelle réponse représente le mieux $\frac{3}{4}$?



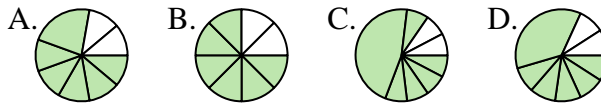
2. **C**

3) Quelle réponse représente le mieux $\frac{5}{6}$?



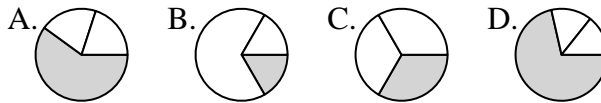
4. **B**

4) Quelle réponse représente le mieux $\frac{6}{8}$?



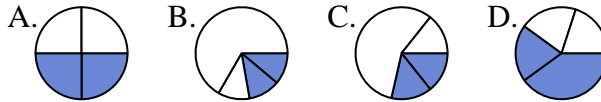
6. **A**

5) Quelle réponse représente le mieux $\frac{1}{3}$?



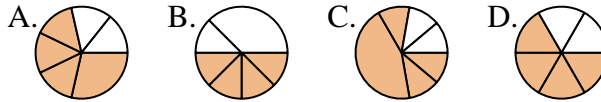
7. **D**

6) Quelle réponse représente le mieux $\frac{2}{4}$?



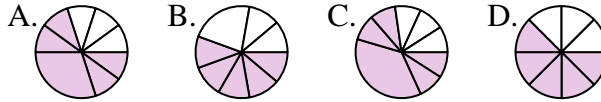
8. **D**

7) Quelle réponse représente le mieux $\frac{4}{6}$?



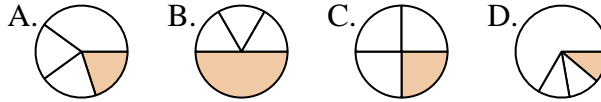
9. **C**

8) Quelle réponse représente le mieux $\frac{5}{8}$?



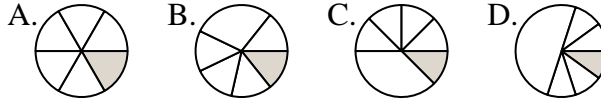
10. **A**

9) Quelle réponse représente le mieux $\frac{1}{4}$?



11. **A**

10) Quelle réponse représente le mieux $\frac{1}{6}$?



12. **D**

11) Quelle réponse représente le mieux $\frac{4}{8}$?



12) Quelle réponse représente le mieux $\frac{3}{6}$?

