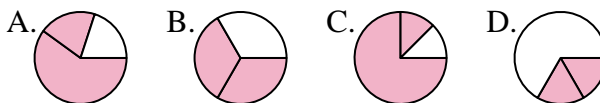




Déterminer quelle lettre représente le mieux chaque fraction.

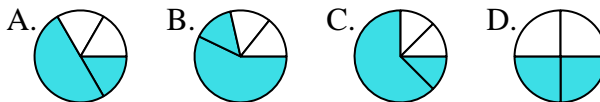
**Réponses**

1) Quelle réponse représente le mieux  $\frac{2}{3}$ ?



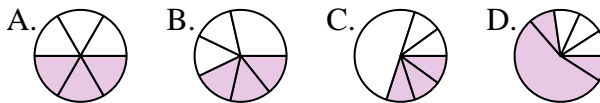
1. \_\_\_\_\_

2) Quelle réponse représente le mieux  $\frac{2}{4}$ ?



2. \_\_\_\_\_

3) Quelle réponse représente le mieux  $\frac{3}{6}$ ?



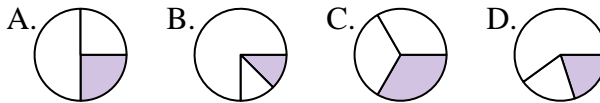
4. \_\_\_\_\_

4) Quelle réponse représente le mieux  $\frac{6}{8}$ ?



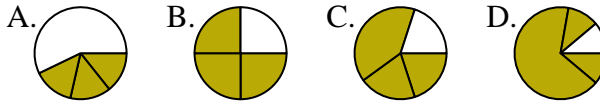
6. \_\_\_\_\_

5) Quelle réponse représente le mieux  $\frac{1}{3}$ ?



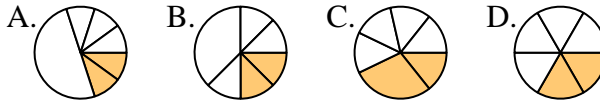
8. \_\_\_\_\_

6) Quelle réponse représente le mieux  $\frac{3}{4}$ ?



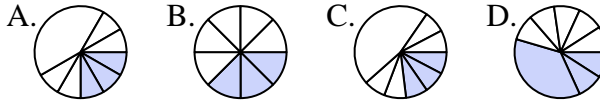
9. \_\_\_\_\_

7) Quelle réponse représente le mieux  $\frac{2}{6}$ ?



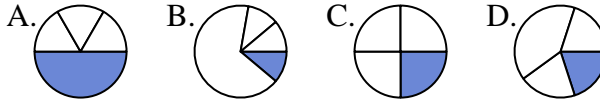
11. \_\_\_\_\_

8) Quelle réponse représente le mieux  $\frac{3}{8}$ ?

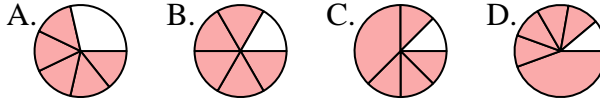


12. \_\_\_\_\_

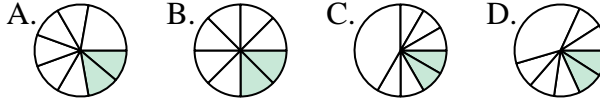
9) Quelle réponse représente le mieux  $\frac{1}{4}$ ?



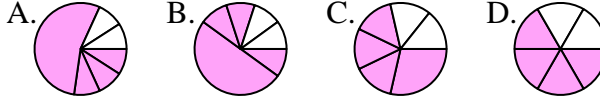
10) Quelle réponse représente le mieux  $\frac{5}{6}$ ?



11) Quelle réponse représente le mieux  $\frac{2}{8}$ ?



12) Quelle réponse représente le mieux  $\frac{4}{6}$ ?

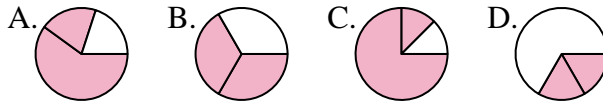




Déterminer quelle lettre représente le mieux chaque fraction.

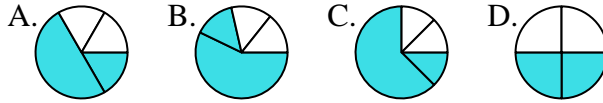
**Réponses**

1) Quelle réponse représente le mieux  $\frac{2}{3}$ ?



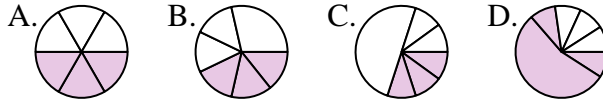
1. **B**

2) Quelle réponse représente le mieux  $\frac{2}{4}$ ?



2. **D**

3) Quelle réponse représente le mieux  $\frac{3}{6}$ ?



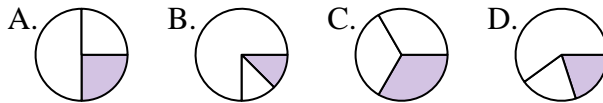
3. **A**

4) Quelle réponse représente le mieux  $\frac{6}{8}$ ?



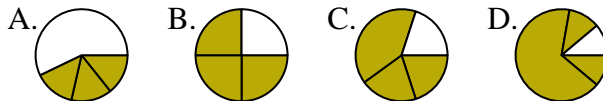
4. **A**

5) Quelle réponse représente le mieux  $\frac{1}{3}$ ?



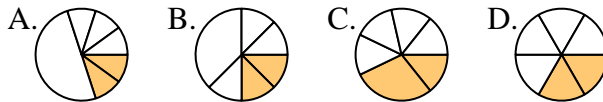
5. **C**

6) Quelle réponse représente le mieux  $\frac{3}{4}$ ?



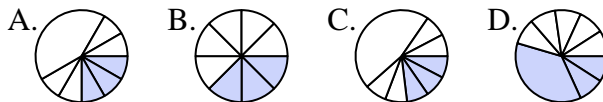
6. **B**

7) Quelle réponse représente le mieux  $\frac{2}{6}$ ?



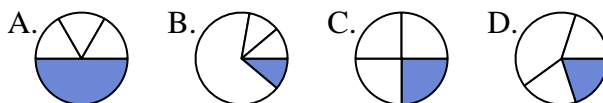
7. **D**

8) Quelle réponse représente le mieux  $\frac{3}{8}$ ?



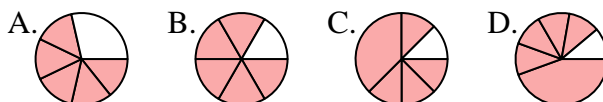
8. **B**

9) Quelle réponse représente le mieux  $\frac{1}{4}$ ?



9. **C**

10) Quelle réponse représente le mieux  $\frac{5}{6}$ ?



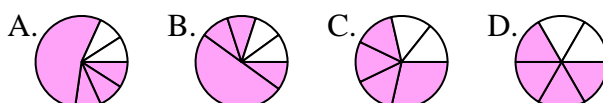
10. **B**

11) Quelle réponse représente le mieux  $\frac{2}{8}$ ?



11. **B**

12) Quelle réponse représente le mieux  $\frac{4}{6}$ ?



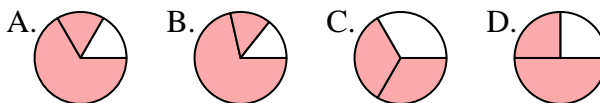
12. **D**



Déterminer quelle lettre représente le mieux chaque fraction.

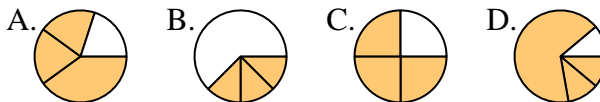
**Réponses**

1) Quelle réponse représente le mieux  $\frac{2}{3}$ ?



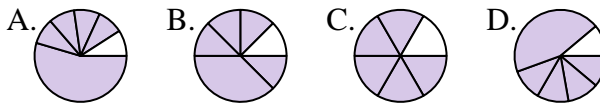
1. \_\_\_\_\_

2) Quelle réponse représente le mieux  $\frac{3}{4}$ ?



2. \_\_\_\_\_

3) Quelle réponse représente le mieux  $\frac{5}{6}$ ?



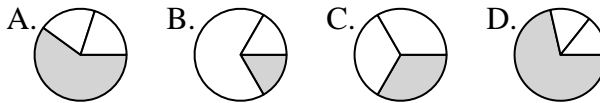
4. \_\_\_\_\_

4) Quelle réponse représente le mieux  $\frac{6}{8}$ ?



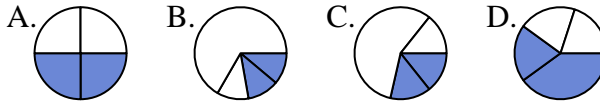
6. \_\_\_\_\_

5) Quelle réponse représente le mieux  $\frac{1}{3}$ ?



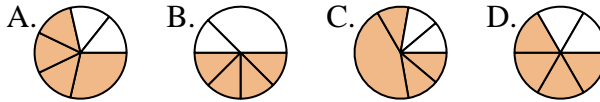
8. \_\_\_\_\_

6) Quelle réponse représente le mieux  $\frac{2}{4}$ ?



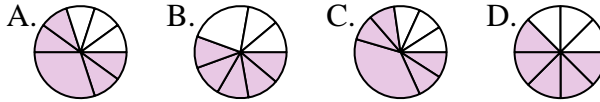
9. \_\_\_\_\_

7) Quelle réponse représente le mieux  $\frac{4}{6}$ ?



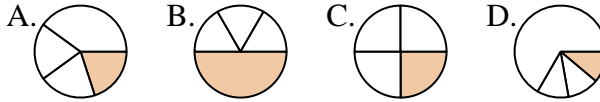
11. \_\_\_\_\_

8) Quelle réponse représente le mieux  $\frac{5}{8}$ ?



12. \_\_\_\_\_

9) Quelle réponse représente le mieux  $\frac{1}{4}$ ?



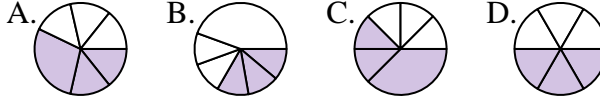
10) Quelle réponse représente le mieux  $\frac{1}{6}$ ?



11) Quelle réponse représente le mieux  $\frac{4}{8}$ ?



12) Quelle réponse représente le mieux  $\frac{3}{6}$ ?

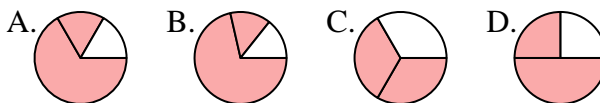




Déterminer quelle lettre représente le mieux chaque fraction.

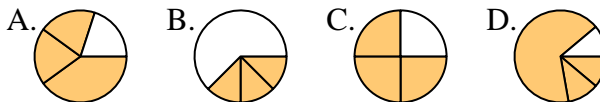
Réponses

1) Quelle réponse représente le mieux  $\frac{2}{3}$ ?



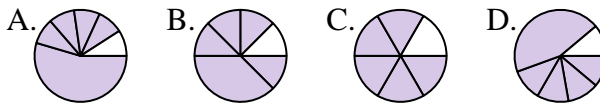
1.     **C**    

2) Quelle réponse représente le mieux  $\frac{3}{4}$ ?



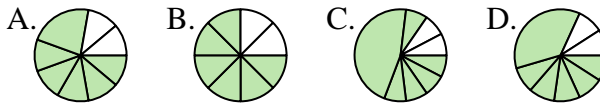
2.     **C**    

3) Quelle réponse représente le mieux  $\frac{5}{6}$ ?



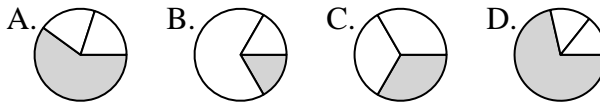
4.     **B**    

4) Quelle réponse représente le mieux  $\frac{6}{8}$ ?



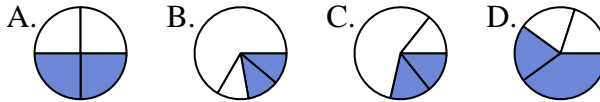
6.     **A**    

5) Quelle réponse représente le mieux  $\frac{1}{3}$ ?



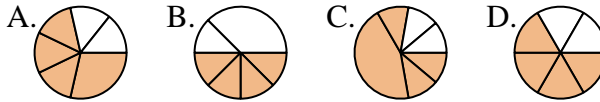
7.     **D**    

6) Quelle réponse représente le mieux  $\frac{2}{4}$ ?



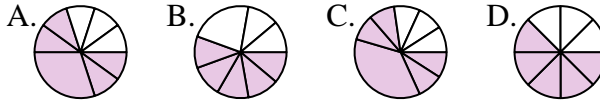
8.     **D**    

7) Quelle réponse représente le mieux  $\frac{4}{6}$ ?



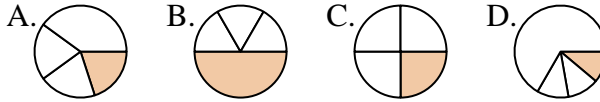
9.     **C**    

8) Quelle réponse représente le mieux  $\frac{5}{8}$ ?



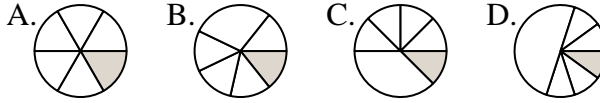
10.     **A**    

9) Quelle réponse représente le mieux  $\frac{1}{4}$ ?



11.     **A**    

10) Quelle réponse représente le mieux  $\frac{1}{6}$ ?

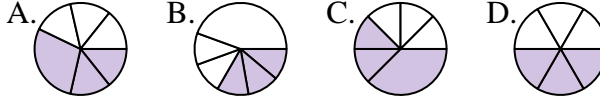


12.     **D**    

11) Quelle réponse représente le mieux  $\frac{4}{8}$ ?



12) Quelle réponse représente le mieux  $\frac{3}{6}$ ?

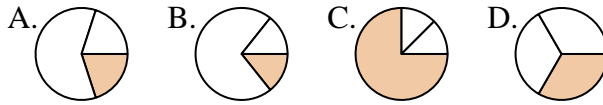




Déterminer quelle lettre représente le mieux chaque fraction.

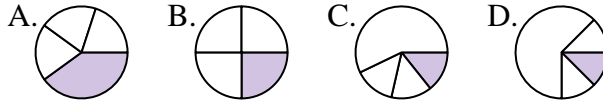
Réponses

1) Quelle réponse représente le mieux  $\frac{1}{3}$ ?



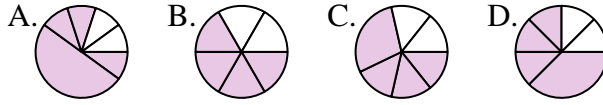
1. \_\_\_\_\_

2) Quelle réponse représente le mieux  $\frac{1}{4}$ ?



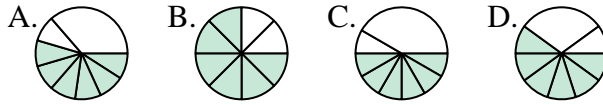
2. \_\_\_\_\_

3) Quelle réponse représente le mieux  $\frac{4}{6}$ ?



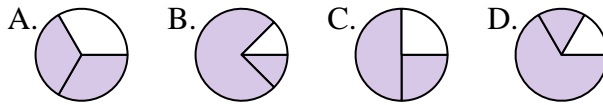
4. \_\_\_\_\_

4) Quelle réponse représente le mieux  $\frac{6}{8}$ ?



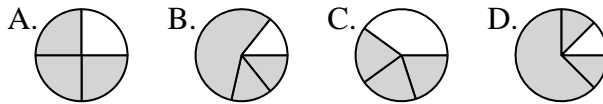
6. \_\_\_\_\_

5) Quelle réponse représente le mieux  $\frac{2}{3}$ ?



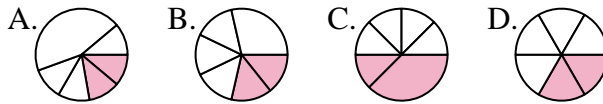
7. \_\_\_\_\_

6) Quelle réponse représente le mieux  $\frac{3}{4}$ ?



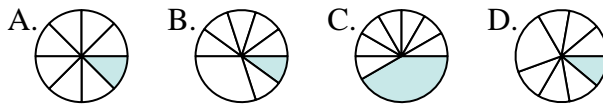
8. \_\_\_\_\_

7) Quelle réponse représente le mieux  $\frac{2}{6}$ ?



9. \_\_\_\_\_

8) Quelle réponse représente le mieux  $\frac{1}{8}$ ?



10. \_\_\_\_\_

9) Quelle réponse représente le mieux  $\frac{2}{4}$ ?



11. \_\_\_\_\_

10) Quelle réponse représente le mieux  $\frac{1}{6}$ ?



12. \_\_\_\_\_

11) Quelle réponse représente le mieux  $\frac{4}{8}$ ?



12) Quelle réponse représente le mieux  $\frac{3}{6}$ ?

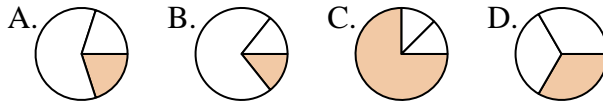




Déterminer quelle lettre représente le mieux chaque fraction.

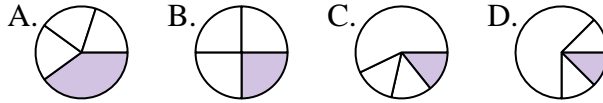
**Réponses**

1) Quelle réponse représente le mieux  $\frac{1}{3}$ ?



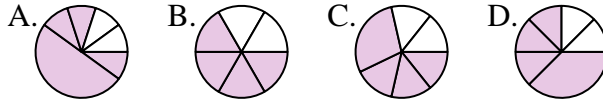
1.     **D**    

2) Quelle réponse représente le mieux  $\frac{1}{4}$ ?



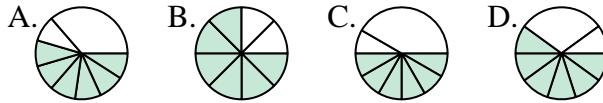
2.     **B**    

3) Quelle réponse représente le mieux  $\frac{4}{6}$ ?



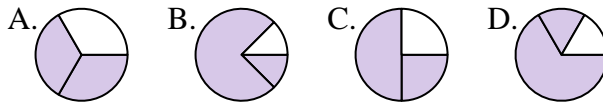
3.     **B**    

4) Quelle réponse représente le mieux  $\frac{6}{8}$ ?



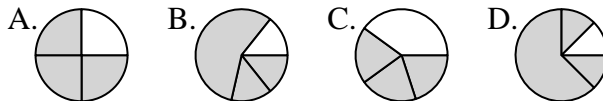
4.     **B**    

5) Quelle réponse représente le mieux  $\frac{2}{3}$ ?



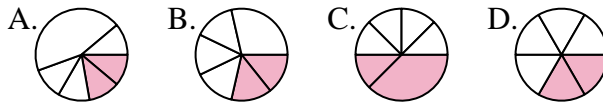
5.     **A**    

6) Quelle réponse représente le mieux  $\frac{3}{4}$ ?



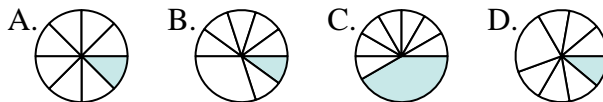
6.     **A**    

7) Quelle réponse représente le mieux  $\frac{2}{6}$ ?



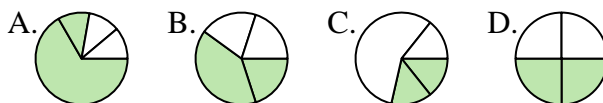
7.     **D**    

8) Quelle réponse représente le mieux  $\frac{1}{8}$ ?



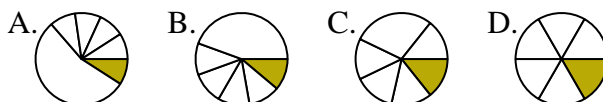
8.     **A**    

9) Quelle réponse représente le mieux  $\frac{2}{4}$ ?



9.     **D**    

10) Quelle réponse représente le mieux  $\frac{1}{6}$ ?



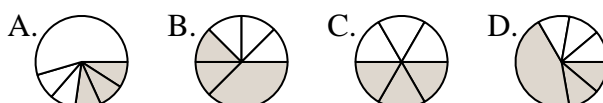
10.     **D**    

11) Quelle réponse représente le mieux  $\frac{4}{8}$ ?



11.     **C**    

12) Quelle réponse représente le mieux  $\frac{3}{6}$ ?



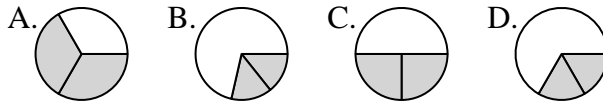
12.     **C**



Déterminer quelle lettre représente le mieux chaque fraction.

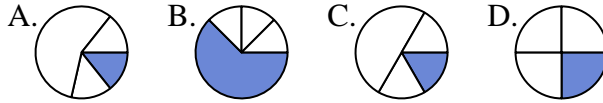
**Réponses**

1) Quelle réponse représente le mieux  $\frac{2}{3}$ ?



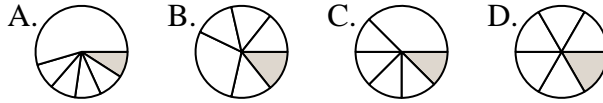
1. \_\_\_\_\_

2) Quelle réponse représente le mieux  $\frac{1}{4}$ ?



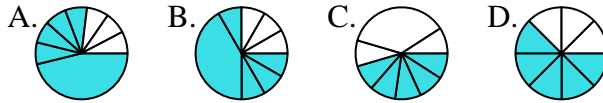
2. \_\_\_\_\_

3) Quelle réponse représente le mieux  $\frac{1}{6}$ ?



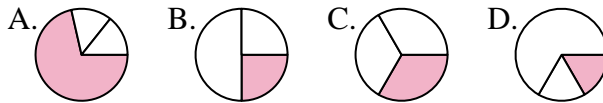
4. \_\_\_\_\_

4) Quelle réponse représente le mieux  $\frac{5}{8}$ ?



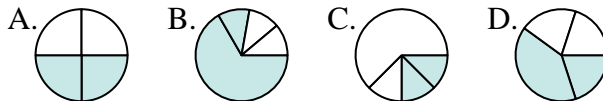
6. \_\_\_\_\_

5) Quelle réponse représente le mieux  $\frac{1}{3}$ ?



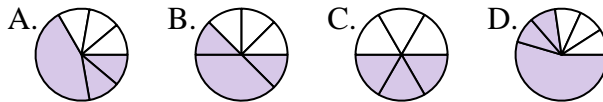
8. \_\_\_\_\_

6) Quelle réponse représente le mieux  $\frac{2}{4}$ ?



10. \_\_\_\_\_

7) Quelle réponse représente le mieux  $\frac{3}{6}$ ?



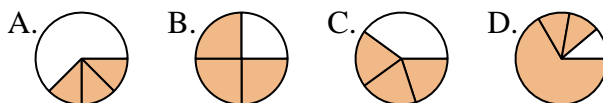
11. \_\_\_\_\_

8) Quelle réponse représente le mieux  $\frac{7}{8}$ ?

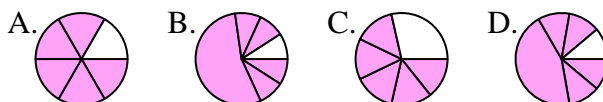


12. \_\_\_\_\_

9) Quelle réponse représente le mieux  $\frac{3}{4}$ ?



10) Quelle réponse représente le mieux  $\frac{5}{6}$ ?



11) Quelle réponse représente le mieux  $\frac{6}{8}$ ?



12) Quelle réponse représente le mieux  $\frac{4}{6}$ ?

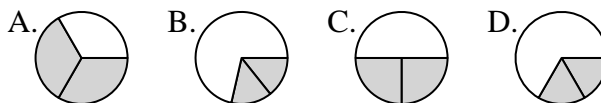




Déterminer quelle lettre représente le mieux chaque fraction.

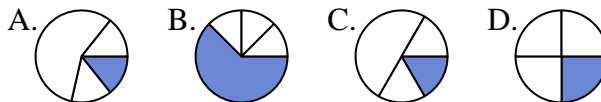
**Réponses**

1) Quelle réponse représente le mieux  $\frac{2}{3}$ ?



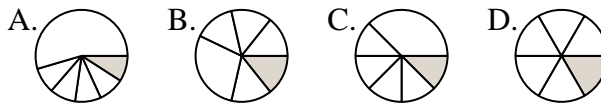
1.   **A**  

2) Quelle réponse représente le mieux  $\frac{1}{4}$ ?



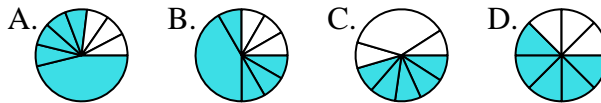
2.   **D**  

3) Quelle réponse représente le mieux  $\frac{1}{6}$ ?



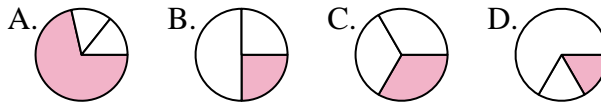
3.   **D**  

4) Quelle réponse représente le mieux  $\frac{5}{8}$ ?



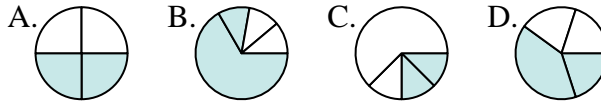
4.   **C**  

5) Quelle réponse représente le mieux  $\frac{1}{3}$ ?



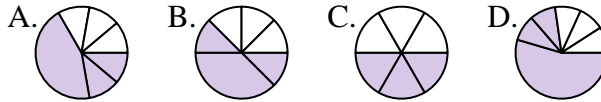
5.   **A**  

6) Quelle réponse représente le mieux  $\frac{2}{4}$ ?



6.   **C**  

7) Quelle réponse représente le mieux  $\frac{3}{6}$ ?



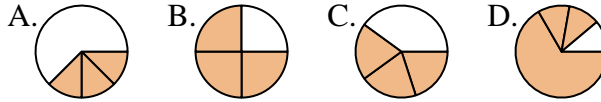
7.   **D**  

8) Quelle réponse représente le mieux  $\frac{7}{8}$ ?



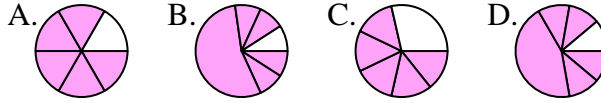
8.   **B**  

9) Quelle réponse représente le mieux  $\frac{3}{4}$ ?



9.   **A**  

10) Quelle réponse représente le mieux  $\frac{5}{6}$ ?



10.   **B**  

11) Quelle réponse représente le mieux  $\frac{6}{8}$ ?



11.   **B**  

12) Quelle réponse représente le mieux  $\frac{4}{6}$ ?



12.   **B**

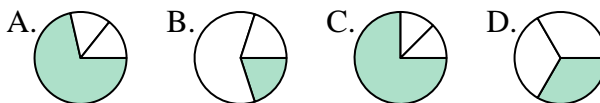




Déterminer quelle lettre représente le mieux chaque fraction.

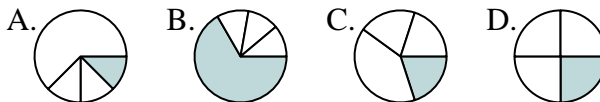
**Réponses**

1) Quelle réponse représente le mieux  $\frac{1}{3}$ ?



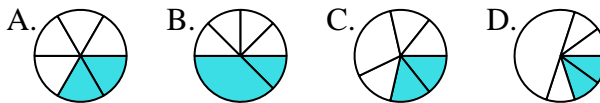
1. \_\_\_\_\_

2) Quelle réponse représente le mieux  $\frac{1}{4}$ ?



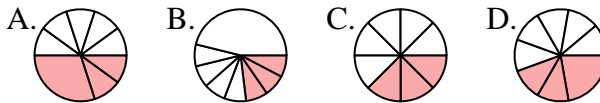
2. \_\_\_\_\_

3) Quelle réponse représente le mieux  $\frac{2}{6}$ ?



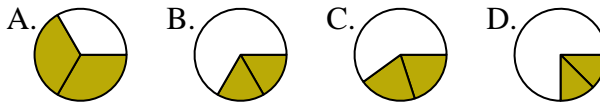
4. \_\_\_\_\_

4) Quelle réponse représente le mieux  $\frac{3}{8}$ ?



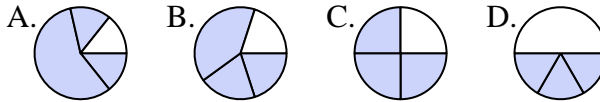
6. \_\_\_\_\_

5) Quelle réponse représente le mieux  $\frac{2}{3}$ ?



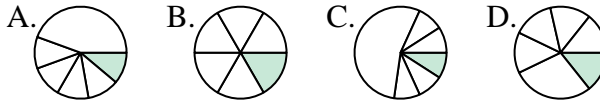
7. \_\_\_\_\_

6) Quelle réponse représente le mieux  $\frac{3}{4}$ ?



8. \_\_\_\_\_

7) Quelle réponse représente le mieux  $\frac{1}{6}$ ?



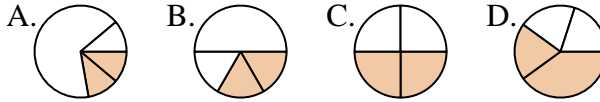
9. \_\_\_\_\_

8) Quelle réponse représente le mieux  $\frac{1}{8}$ ?



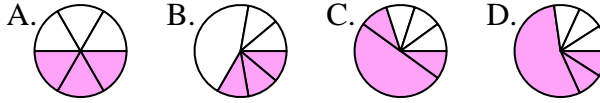
10. \_\_\_\_\_

9) Quelle réponse représente le mieux  $\frac{2}{4}$ ?



11. \_\_\_\_\_

10) Quelle réponse représente le mieux  $\frac{3}{6}$ ?

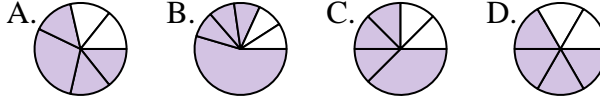


12. \_\_\_\_\_

11) Quelle réponse représente le mieux  $\frac{5}{8}$ ?



12) Quelle réponse représente le mieux  $\frac{4}{6}$ ?

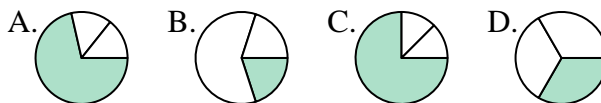




Déterminer quelle lettre représente le mieux chaque fraction.

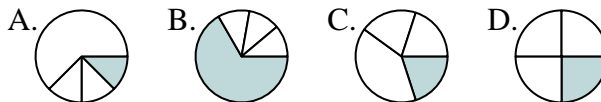
**Réponses**

1) Quelle réponse représente le mieux  $\frac{1}{3}$ ?



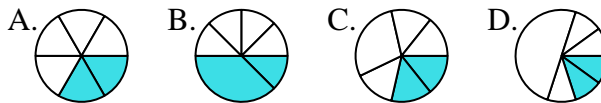
1.     **D**    

2) Quelle réponse représente le mieux  $\frac{1}{4}$ ?



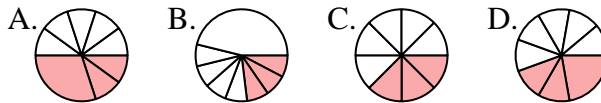
2.     **D**    

3) Quelle réponse représente le mieux  $\frac{2}{6}$ ?



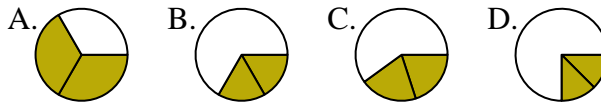
3.     **A**    

4) Quelle réponse représente le mieux  $\frac{3}{8}$ ?



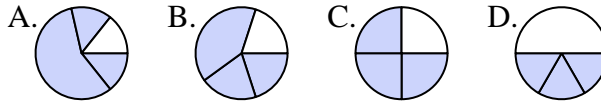
4.     **C**    

5) Quelle réponse représente le mieux  $\frac{2}{3}$ ?



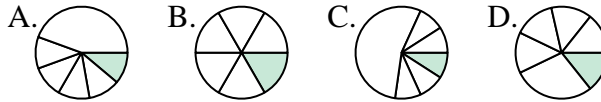
5.     **A**    

6) Quelle réponse représente le mieux  $\frac{3}{4}$ ?



6.     **C**    

7) Quelle réponse représente le mieux  $\frac{1}{6}$ ?



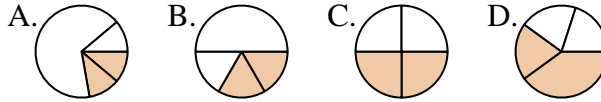
7.     **B**    

8) Quelle réponse représente le mieux  $\frac{1}{8}$ ?



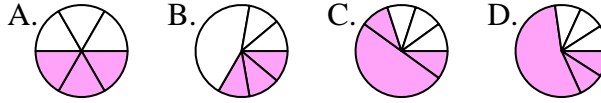
8.     **A**    

9) Quelle réponse représente le mieux  $\frac{2}{4}$ ?



9.     **C**    

10) Quelle réponse représente le mieux  $\frac{3}{6}$ ?



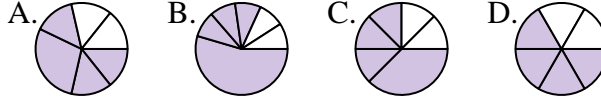
10.     **A**    

11) Quelle réponse représente le mieux  $\frac{5}{8}$ ?



11.     **C**    

12) Quelle réponse représente le mieux  $\frac{4}{6}$ ?



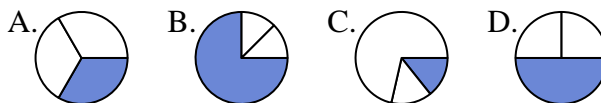
12.     **D**



Déterminer quelle lettre représente le mieux chaque fraction.

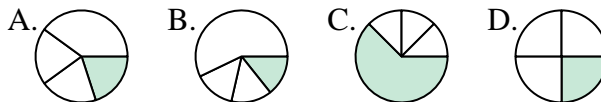
**Réponses**

1) Quelle réponse représente le mieux  $\frac{1}{3}$ ?



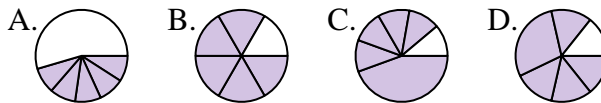
1. \_\_\_\_\_

2) Quelle réponse représente le mieux  $\frac{1}{4}$ ?



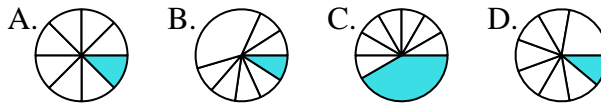
2. \_\_\_\_\_

3) Quelle réponse représente le mieux  $\frac{5}{6}$ ?



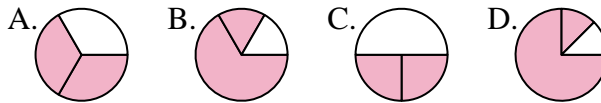
3. \_\_\_\_\_

4) Quelle réponse représente le mieux  $\frac{1}{8}$ ?



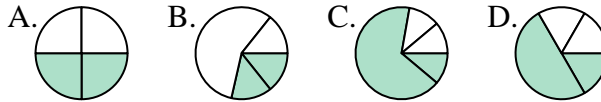
4. \_\_\_\_\_

5) Quelle réponse représente le mieux  $\frac{2}{3}$ ?



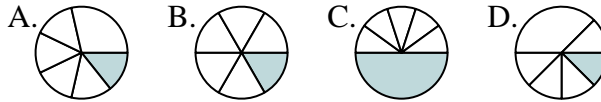
5. \_\_\_\_\_

6) Quelle réponse représente le mieux  $\frac{2}{4}$ ?



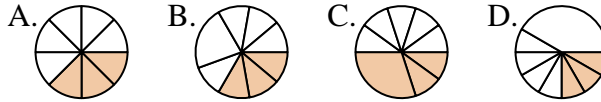
6. \_\_\_\_\_

7) Quelle réponse représente le mieux  $\frac{1}{6}$ ?



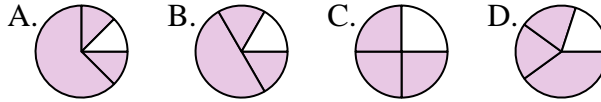
7. \_\_\_\_\_

8) Quelle réponse représente le mieux  $\frac{3}{8}$ ?



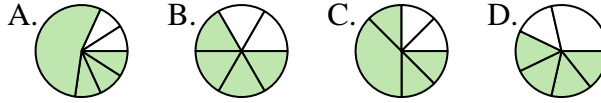
8. \_\_\_\_\_

9) Quelle réponse représente le mieux  $\frac{3}{4}$ ?



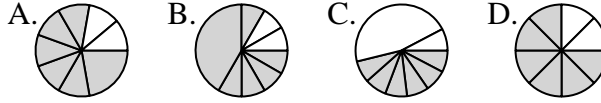
9. \_\_\_\_\_

10) Quelle réponse représente le mieux  $\frac{4}{6}$ ?



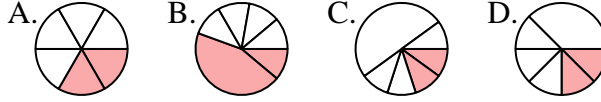
10. \_\_\_\_\_

11) Quelle réponse représente le mieux  $\frac{6}{8}$ ?



11. \_\_\_\_\_

12) Quelle réponse représente le mieux  $\frac{2}{6}$ ?



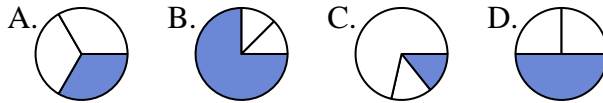
12. \_\_\_\_\_



Déterminer quelle lettre représente le mieux chaque fraction.

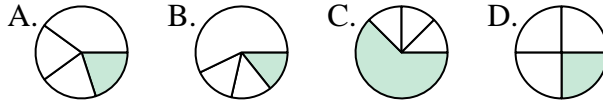
**Réponses**

1) Quelle réponse représente le mieux  $\frac{1}{3}$ ?



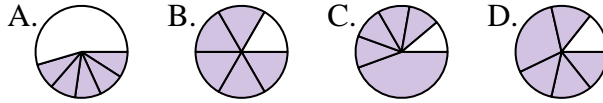
1.   **A**  

2) Quelle réponse représente le mieux  $\frac{1}{4}$ ?



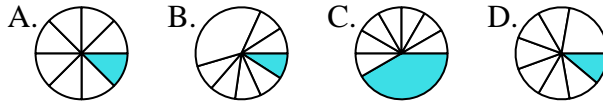
2.   **D**  

3) Quelle réponse représente le mieux  $\frac{5}{6}$ ?



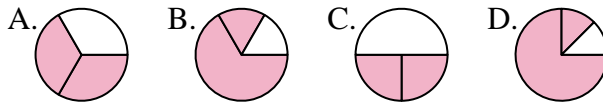
3.   **B**  

4) Quelle réponse représente le mieux  $\frac{1}{8}$ ?



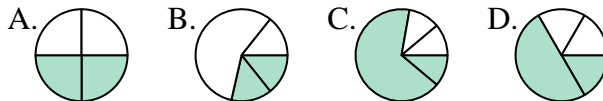
4.   **A**  

5) Quelle réponse représente le mieux  $\frac{2}{3}$ ?



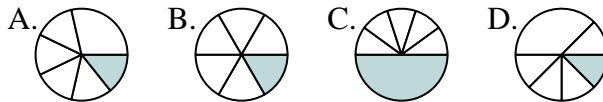
5.   **A**  

6) Quelle réponse représente le mieux  $\frac{2}{4}$ ?



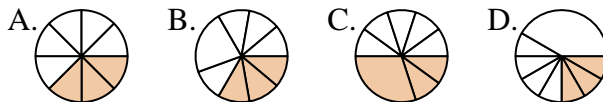
6.   **A**  

7) Quelle réponse représente le mieux  $\frac{1}{6}$ ?



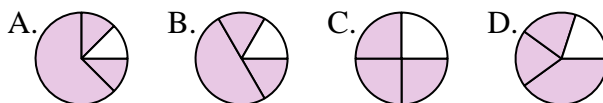
7.   **B**  

8) Quelle réponse représente le mieux  $\frac{3}{8}$ ?



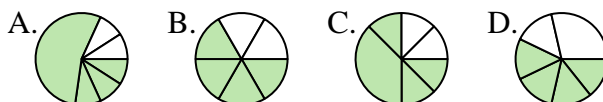
8.   **A**  

9) Quelle réponse représente le mieux  $\frac{3}{4}$ ?



9.   **C**  

10) Quelle réponse représente le mieux  $\frac{4}{6}$ ?



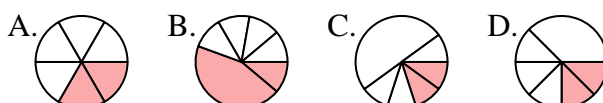
10.   **B**  

11) Quelle réponse représente le mieux  $\frac{6}{8}$ ?



11.   **D**  

12) Quelle réponse représente le mieux  $\frac{2}{6}$ ?



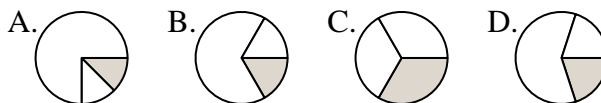
12.   **A**



Déterminer quelle lettre représente le mieux chaque fraction.

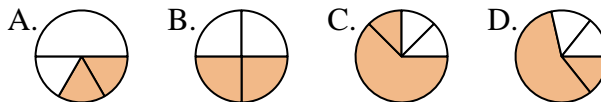
**Réponses**

1) Quelle réponse représente le mieux  $\frac{1}{3}$ ?



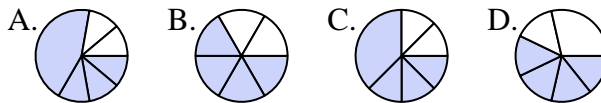
1. \_\_\_\_\_

2) Quelle réponse représente le mieux  $\frac{2}{4}$ ?



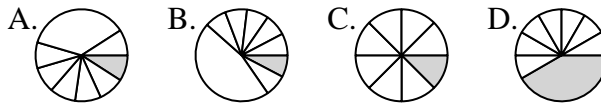
2. \_\_\_\_\_

3) Quelle réponse représente le mieux  $\frac{4}{6}$ ?



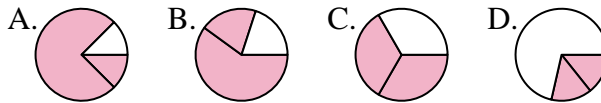
4. \_\_\_\_\_

4) Quelle réponse représente le mieux  $\frac{1}{8}$ ?



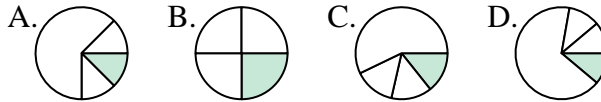
6. \_\_\_\_\_

5) Quelle réponse représente le mieux  $\frac{2}{3}$ ?



8. \_\_\_\_\_

6) Quelle réponse représente le mieux  $\frac{1}{4}$ ?



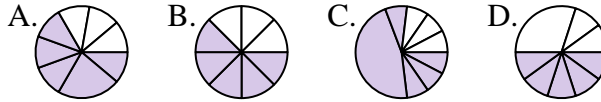
10. \_\_\_\_\_

7) Quelle réponse représente le mieux  $\frac{3}{6}$ ?



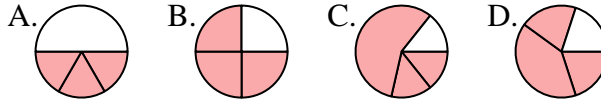
11. \_\_\_\_\_

8) Quelle réponse représente le mieux  $\frac{5}{8}$ ?

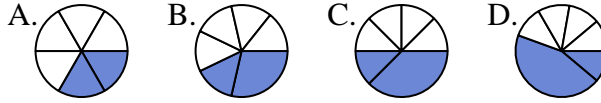


12. \_\_\_\_\_

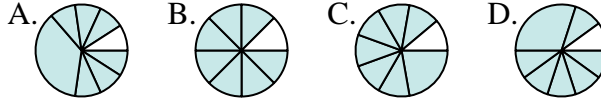
9) Quelle réponse représente le mieux  $\frac{3}{4}$ ?



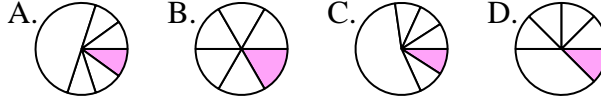
10) Quelle réponse représente le mieux  $\frac{2}{6}$ ?



11) Quelle réponse représente le mieux  $\frac{7}{8}$ ?



12) Quelle réponse représente le mieux  $\frac{1}{6}$ ?

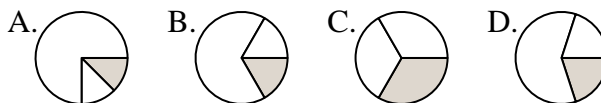




Déterminer quelle lettre représente le mieux chaque fraction.

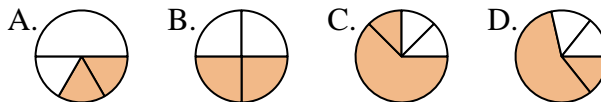
**Réponses**

1) Quelle réponse représente le mieux  $\frac{1}{3}$ ?



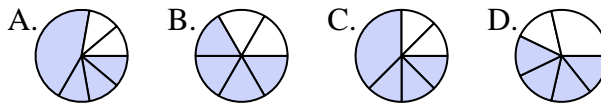
1.     **C**    

2) Quelle réponse représente le mieux  $\frac{2}{4}$ ?



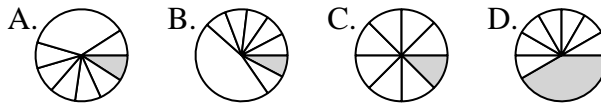
2.     **B**    

3) Quelle réponse représente le mieux  $\frac{4}{6}$ ?



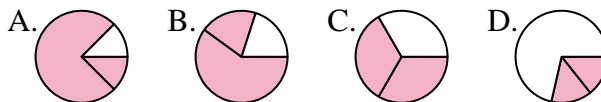
4.     **C**    

4) Quelle réponse représente le mieux  $\frac{1}{8}$ ?



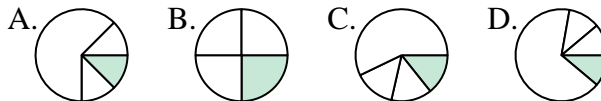
6.     **B**    

5) Quelle réponse représente le mieux  $\frac{2}{3}$ ?



8.     **B**    

6) Quelle réponse représente le mieux  $\frac{1}{4}$ ?



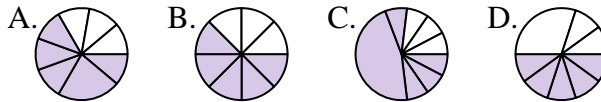
10.     **A**    

7) Quelle réponse représente le mieux  $\frac{3}{6}$ ?



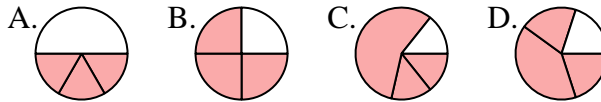
11.     **B**    

8) Quelle réponse représente le mieux  $\frac{5}{8}$ ?

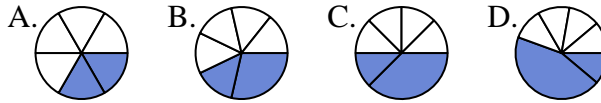


12.     **B**    

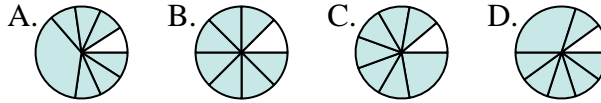
9) Quelle réponse représente le mieux  $\frac{3}{4}$ ?



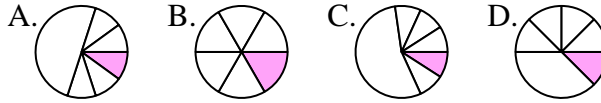
10) Quelle réponse représente le mieux  $\frac{2}{6}$ ?



11) Quelle réponse représente le mieux  $\frac{7}{8}$ ?



12) Quelle réponse représente le mieux  $\frac{1}{6}$ ?

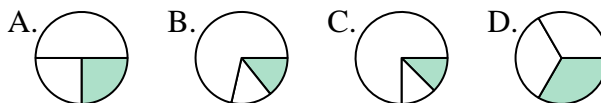




Déterminer quelle lettre représente le mieux chaque fraction.

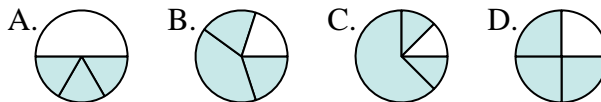
**Réponses**

1) Quelle réponse représente le mieux  $\frac{1}{3}$ ?



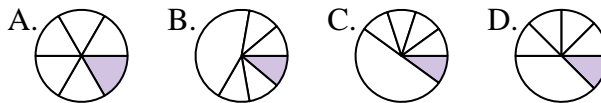
1. \_\_\_\_\_

2) Quelle réponse représente le mieux  $\frac{3}{4}$ ?



2. \_\_\_\_\_

3) Quelle réponse représente le mieux  $\frac{1}{6}$ ?



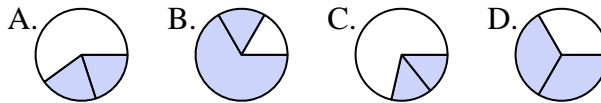
4. \_\_\_\_\_

4) Quelle réponse représente le mieux  $\frac{5}{8}$ ?



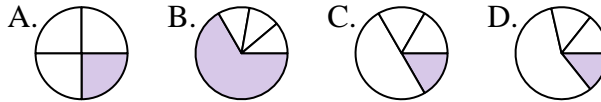
6. \_\_\_\_\_

5) Quelle réponse représente le mieux  $\frac{2}{3}$ ?



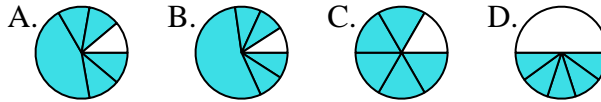
7. \_\_\_\_\_

6) Quelle réponse représente le mieux  $\frac{1}{4}$ ?



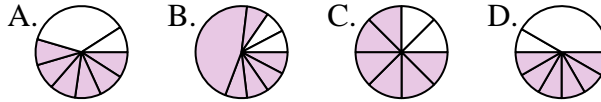
9. \_\_\_\_\_

7) Quelle réponse représente le mieux  $\frac{5}{6}$ ?



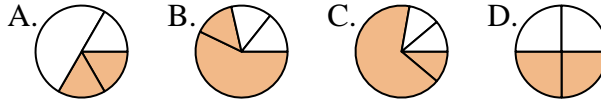
11. \_\_\_\_\_

8) Quelle réponse représente le mieux  $\frac{6}{8}$ ?

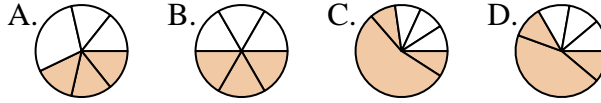


12. \_\_\_\_\_

9) Quelle réponse représente le mieux  $\frac{2}{4}$ ?



10) Quelle réponse représente le mieux  $\frac{3}{6}$ ?



11) Quelle réponse représente le mieux  $\frac{2}{8}$ ?



12) Quelle réponse représente le mieux  $\frac{4}{6}$ ?

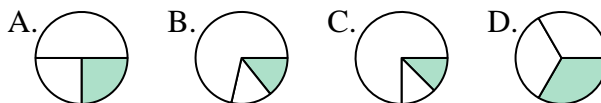




Déterminer quelle lettre représente le mieux chaque fraction.

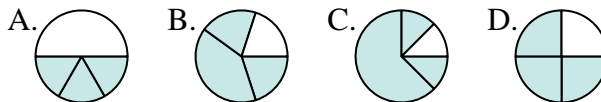
**Réponses**

1) Quelle réponse représente le mieux  $\frac{1}{3}$ ?



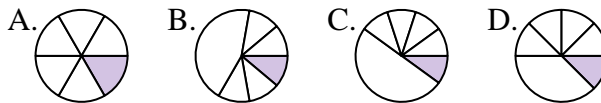
1.     **D**    

2) Quelle réponse représente le mieux  $\frac{3}{4}$ ?



2.     **D**    

3) Quelle réponse représente le mieux  $\frac{1}{6}$ ?



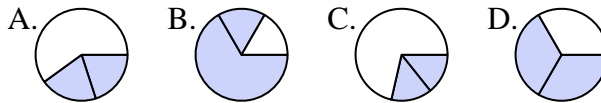
4.     **A**    

4) Quelle réponse représente le mieux  $\frac{5}{8}$ ?



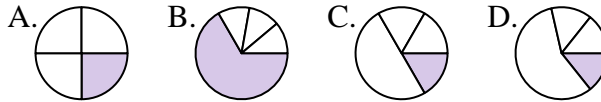
6.     **A**    

5) Quelle réponse représente le mieux  $\frac{2}{3}$ ?



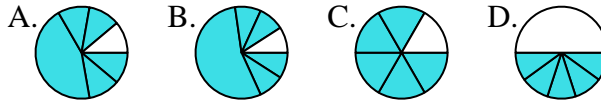
7.     **C**    

6) Quelle réponse représente le mieux  $\frac{1}{4}$ ?



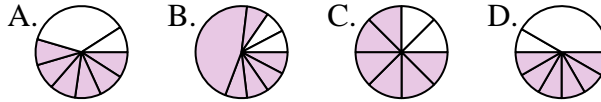
8.     **C**    

7) Quelle réponse représente le mieux  $\frac{5}{6}$ ?



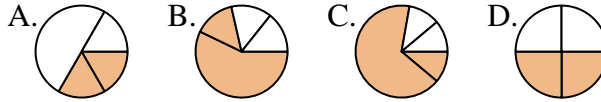
9.     **D**    

8) Quelle réponse représente le mieux  $\frac{6}{8}$ ?



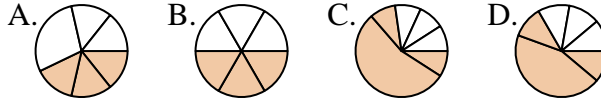
10.     **B**    

9) Quelle réponse représente le mieux  $\frac{2}{4}$ ?



11.     **C**    

10) Quelle réponse représente le mieux  $\frac{3}{6}$ ?



12.     **C**    

11) Quelle réponse représente le mieux  $\frac{2}{8}$ ?



12) Quelle réponse représente le mieux  $\frac{4}{6}$ ?



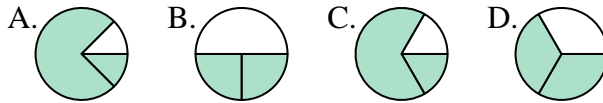




Déterminer quelle lettre représente le mieux chaque fraction.

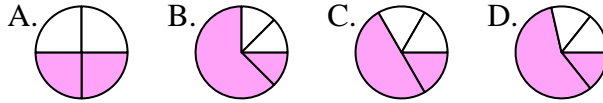
**Réponses**

1) Quelle réponse représente le mieux  $\frac{2}{3}$ ?



1. \_\_\_\_\_

2) Quelle réponse représente le mieux  $\frac{2}{4}$ ?



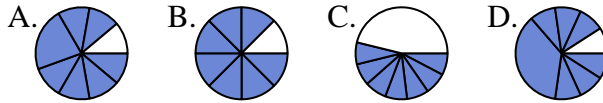
2. \_\_\_\_\_

3) Quelle réponse représente le mieux  $\frac{4}{6}$ ?



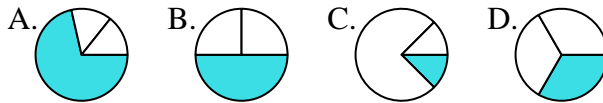
4. \_\_\_\_\_

4) Quelle réponse représente le mieux  $\frac{7}{8}$ ?



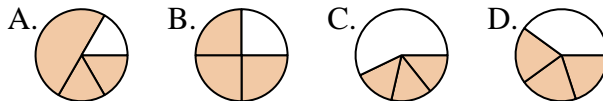
6. \_\_\_\_\_

5) Quelle réponse représente le mieux  $\frac{1}{3}$ ?



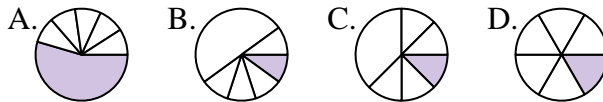
8. \_\_\_\_\_

6) Quelle réponse représente le mieux  $\frac{3}{4}$ ?



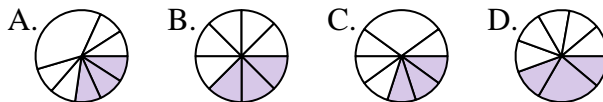
9. \_\_\_\_\_

7) Quelle réponse représente le mieux  $\frac{1}{6}$ ?



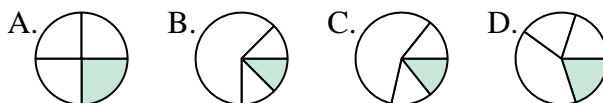
11. \_\_\_\_\_

8) Quelle réponse représente le mieux  $\frac{3}{8}$ ?

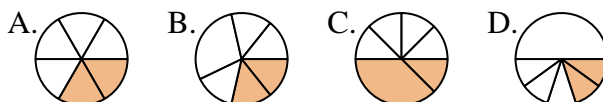


12. \_\_\_\_\_

9) Quelle réponse représente le mieux  $\frac{1}{4}$ ?



10) Quelle réponse représente le mieux  $\frac{2}{6}$ ?



11) Quelle réponse représente le mieux  $\frac{2}{8}$ ?



12) Quelle réponse représente le mieux  $\frac{5}{6}$ ?

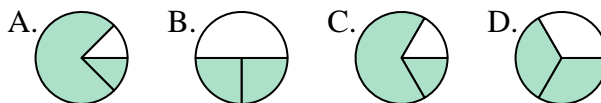




Déterminer quelle lettre représente le mieux chaque fraction.

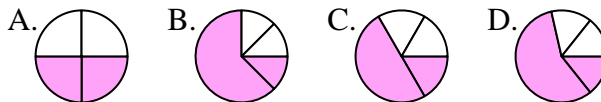
**Réponses**

1) Quelle réponse représente le mieux  $\frac{2}{3}$ ?



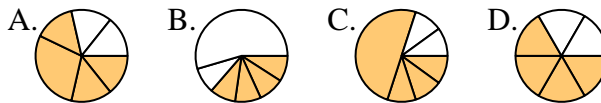
1.     **D**    

2) Quelle réponse représente le mieux  $\frac{2}{4}$ ?



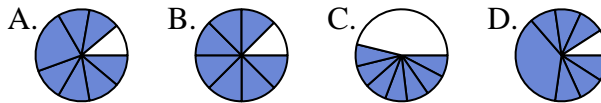
2.     **A**    

3) Quelle réponse représente le mieux  $\frac{4}{6}$ ?



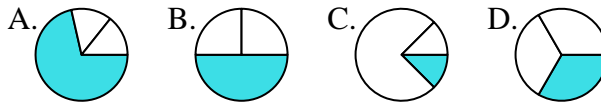
3.     **D**    

4) Quelle réponse représente le mieux  $\frac{7}{8}$ ?



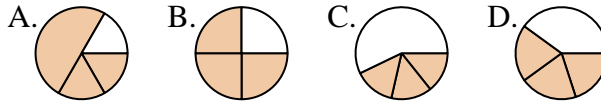
4.     **B**    

5) Quelle réponse représente le mieux  $\frac{1}{3}$ ?



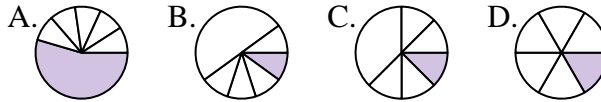
5.     **D**    

6) Quelle réponse représente le mieux  $\frac{3}{4}$ ?



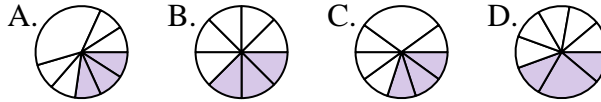
6.     **B**    

7) Quelle réponse représente le mieux  $\frac{1}{6}$ ?



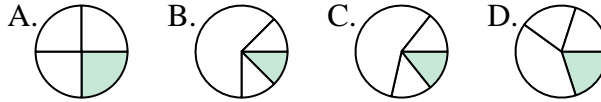
7.     **D**    

8) Quelle réponse représente le mieux  $\frac{3}{8}$ ?



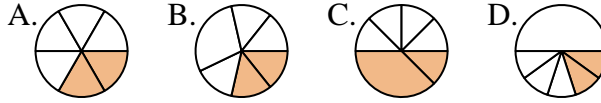
8.     **B**    

9) Quelle réponse représente le mieux  $\frac{1}{4}$ ?



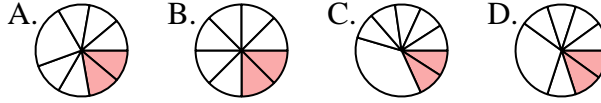
9.     **A**    

10) Quelle réponse représente le mieux  $\frac{2}{6}$ ?



10.     **A**    

11) Quelle réponse représente le mieux  $\frac{2}{8}$ ?



11.     **B**    

12) Quelle réponse représente le mieux  $\frac{5}{6}$ ?



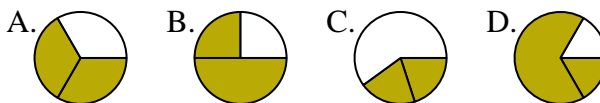
12.     **C**



Déterminer quelle lettre représente le mieux chaque fraction.

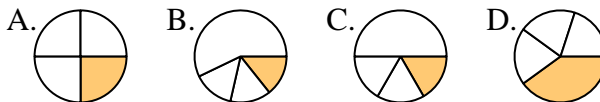
**Réponses**

1) Quelle réponse représente le mieux  $\frac{2}{3}$ ?



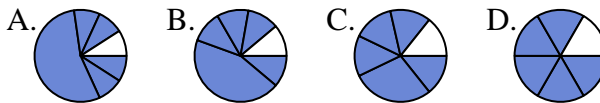
1. \_\_\_\_\_

2) Quelle réponse représente le mieux  $\frac{1}{4}$ ?



2. \_\_\_\_\_

3) Quelle réponse représente le mieux  $\frac{5}{6}$ ?



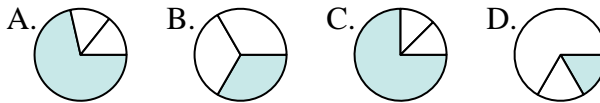
4. \_\_\_\_\_

4) Quelle réponse représente le mieux  $\frac{3}{8}$ ?



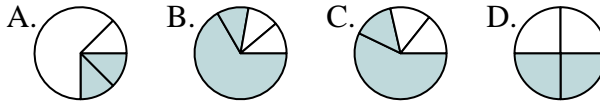
6. \_\_\_\_\_

5) Quelle réponse représente le mieux  $\frac{1}{3}$ ?



8. \_\_\_\_\_

6) Quelle réponse représente le mieux  $\frac{2}{4}$ ?



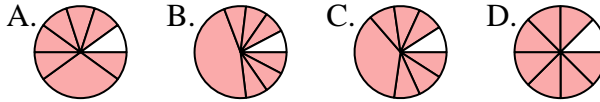
10. \_\_\_\_\_

7) Quelle réponse représente le mieux  $\frac{3}{6}$ ?



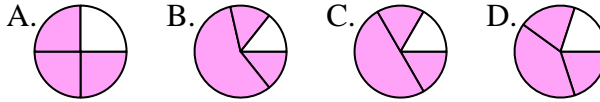
11. \_\_\_\_\_

8) Quelle réponse représente le mieux  $\frac{7}{8}$ ?

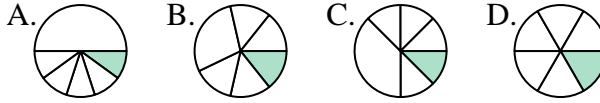


12. \_\_\_\_\_

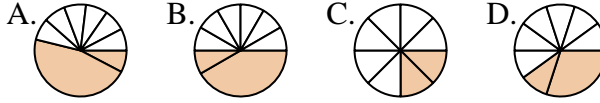
9) Quelle réponse représente le mieux  $\frac{3}{4}$ ?



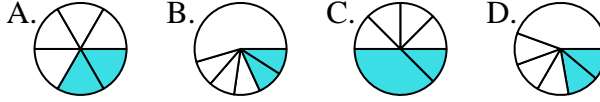
10) Quelle réponse représente le mieux  $\frac{1}{6}$ ?



11) Quelle réponse représente le mieux  $\frac{2}{8}$ ?



12) Quelle réponse représente le mieux  $\frac{2}{6}$ ?

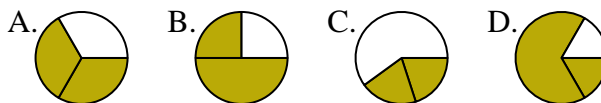




Déterminer quelle lettre représente le mieux chaque fraction.

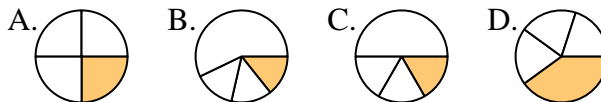
**Réponses**

1) Quelle réponse représente le mieux  $\frac{2}{3}$ ?



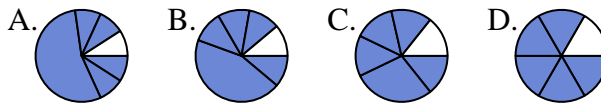
1.   **A**  

2) Quelle réponse représente le mieux  $\frac{1}{4}$ ?



2.   **A**  

3) Quelle réponse représente le mieux  $\frac{5}{6}$ ?



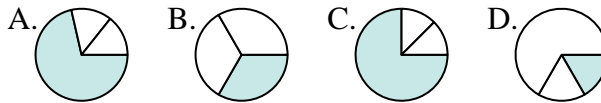
3.   **D**  

4) Quelle réponse représente le mieux  $\frac{3}{8}$ ?



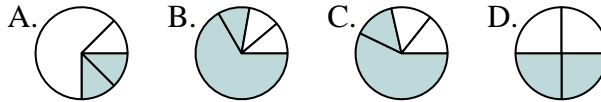
4.   **D**  

5) Quelle réponse représente le mieux  $\frac{1}{3}$ ?



5.   **B**  

6) Quelle réponse représente le mieux  $\frac{2}{4}$ ?



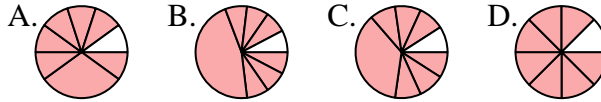
6.   **D**  

7) Quelle réponse représente le mieux  $\frac{3}{6}$ ?



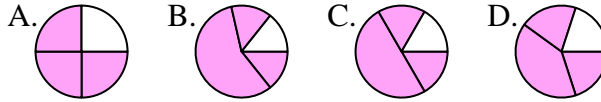
7.   **B**  

8) Quelle réponse représente le mieux  $\frac{7}{8}$ ?



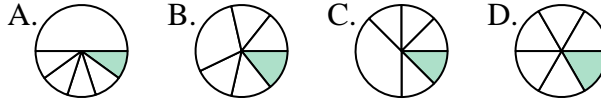
8.   **D**  

9) Quelle réponse représente le mieux  $\frac{3}{4}$ ?



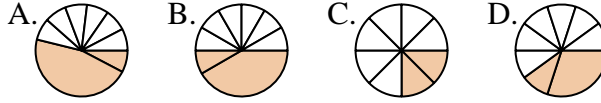
9.   **A**  

10) Quelle réponse représente le mieux  $\frac{1}{6}$ ?



10.   **D**  

11) Quelle réponse représente le mieux  $\frac{2}{8}$ ?



11.   **C**  

12) Quelle réponse représente le mieux  $\frac{2}{6}$ ?



12.   **A**