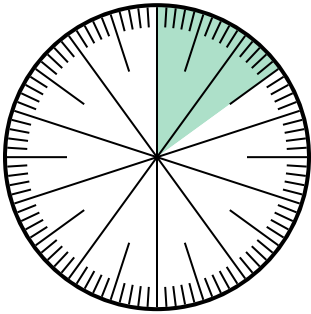




**Résoudre chaque problème.**

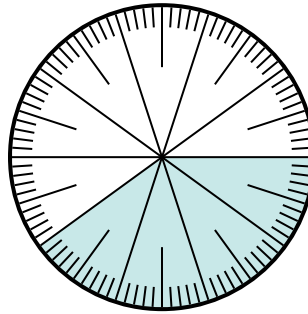
**Réponses**

1) Quel choix représente la partie ombrée de la roue des nombres ?



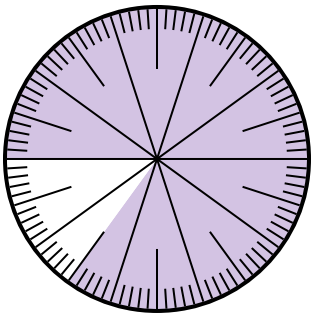
- A.  $\frac{1,50}{100}$       B.  $\frac{15}{100}$   
 C.  $\frac{1,5}{100}$       D. 1,50

2) Quel choix représente la partie non ombrée de la roue des nombres ?



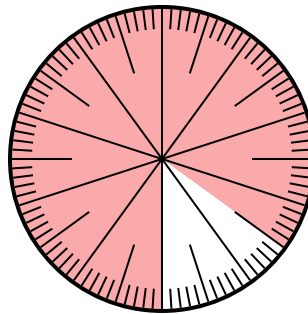
- A.  $\frac{6,00}{100}$       B. 0,6  
 C. 6      D. 6,00

3) Quel choix représente la partie non ombrée de la roue des nombres ?



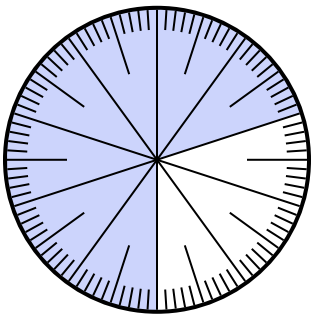
- A. 1.5      B. 0,15  
 C.  $\frac{15}{85}$       D.  $\frac{0,15}{100}$

4) Quel choix représente la partie non ombrée de la roue des nombres ?



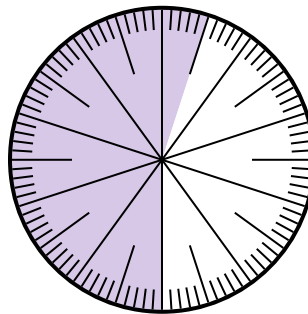
- A. 15      B. 0,15  
 C.  $\frac{0,85}{100}$       D.  $\frac{8,5}{100}$

5) Quel choix représente la partie non ombrée de la roue des nombres ?



- A. 0,030      B. 30  
 C.  $\frac{3,00}{100}$       D.  $\frac{30}{100}$

6) Quel choix représente la partie non ombrée de la roue des nombres ?



- A.  $\frac{4,5}{100}$       B. 0,45  
 C. 45      D.  $\frac{4,50}{100}$

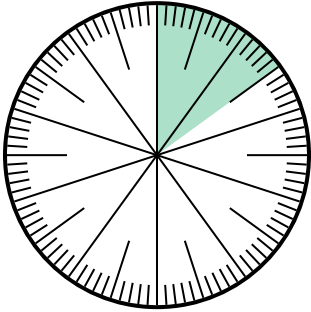
1. \_\_\_\_\_  
 2. \_\_\_\_\_  
 3. \_\_\_\_\_  
 4. \_\_\_\_\_  
 5. \_\_\_\_\_  
 6. \_\_\_\_\_



**Résoudre chaque problème.**

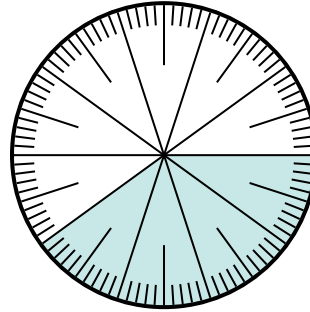
**Réponses**

1) Quel choix représente la partie ombrée de la roue des nombres ?



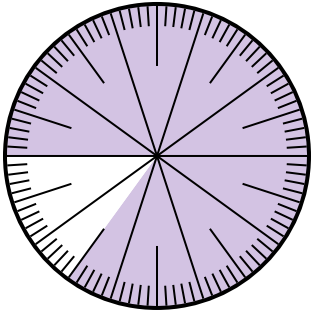
- A.  $\frac{1,50}{100}$       B.  $\frac{15}{100}$   
 C.  $\frac{1,5}{100}$       D. 1,50

2) Quel choix représente la partie non ombrée de la roue des nombres ?



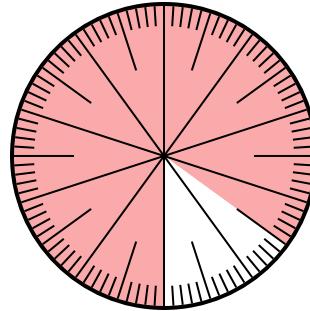
- A.  $\frac{6,00}{100}$       B. 0,6  
 C. 6      D. 6,00

3) Quel choix représente la partie non ombrée de la roue des nombres ?



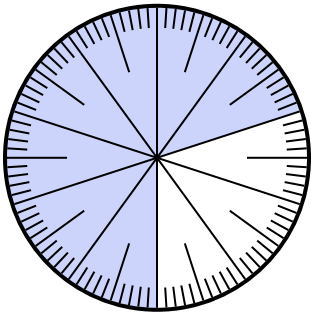
- A. 1.5      B. 0,15  
 C.  $\frac{15}{85}$       D.  $\frac{0,15}{100}$

4) Quel choix représente la partie non ombrée de la roue des nombres ?



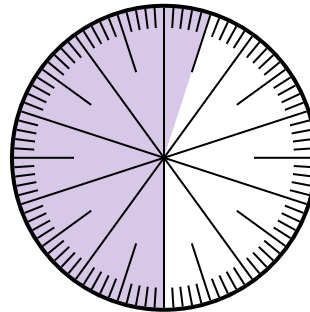
- A. 15      B. 0,15  
 C.  $\frac{0,85}{100}$       D.  $\frac{8,5}{100}$

5) Quel choix représente la partie non ombrée de la roue des nombres ?



- A. 0,030      B. 30  
 C.  $\frac{3,00}{100}$       D.  $\frac{30}{100}$

6) Quel choix représente la partie non ombrée de la roue des nombres ?



- A.  $\frac{4,5}{100}$       B. 0,45  
 C. 45      D.  $\frac{4,50}{100}$

1.     **B**      
 2.     **B**      
 3.     **B**      
 4.     **B**      
 5.     **D**      
 6.     **B**