


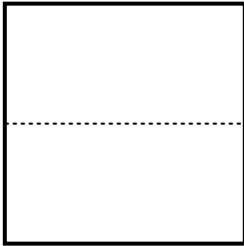


Partitionnez chaque cercle et indiquez leur valeur.


Ex) *Partitionnez la figure en 8 quartiers égaux et indiquez leur valeur en fraction.*




2) *Partitionnez la figure en 6 quartiers égaux et indiquez leur valeur en fraction.*



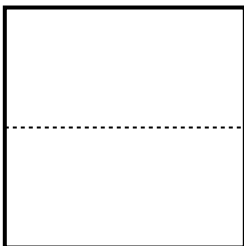
4) *Partitionnez la figure en 2 quartiers égaux et indiquez leur valeur en fraction.*




6) *Partitionnez la figure en 8 quartiers égaux et indiquez leur valeur en fraction.*




8) *Partitionnez la figure en 4 quartiers égaux et indiquez leur valeur en fraction.*




1) *Partitionnez la figure en 3 quartiers égaux et indiquez leur valeur en fraction.*



3) *Partitionnez la figure en 4 quartiers égaux et indiquez leur valeur en fraction.*




5) *Partitionnez la figure en 3 quartiers égaux et indiquez leur valeur en fraction.*



7) *Partitionnez la figure en 6 quartiers égaux et indiquez leur valeur en fraction.*



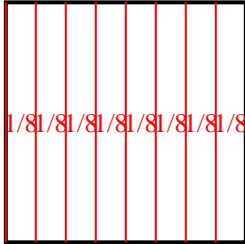
9) *Partitionnez la figure en 2 quartiers égaux et indiquez leur valeur en fraction.*



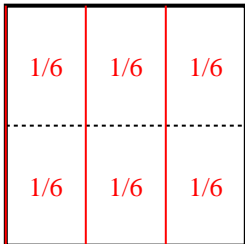


Partitionnez chaque cercle et indiquez leur valeur.

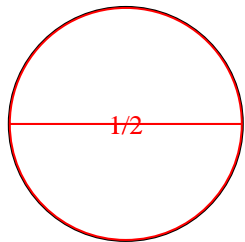
Ex) *Partitionnez la figure en 8 quartiers égaux et indiquez leur valeur en fraction.*



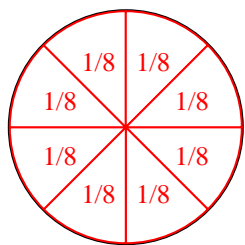
2) *Partitionnez la figure en 6 quartiers égaux et indiquez leur valeur en fraction.*



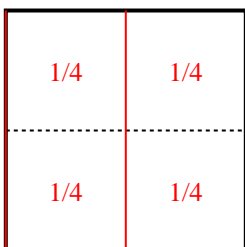
4) *Partitionnez la figure en 2 quartiers égaux et indiquez leur valeur en fraction.*



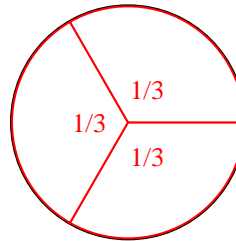
6) *Partitionnez la figure en 8 quartiers égaux et indiquez leur valeur en fraction.*



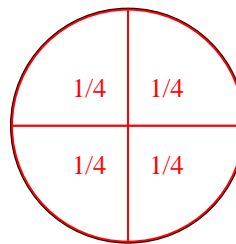
8) *Partitionnez la figure en 4 quartiers égaux et indiquez leur valeur en fraction.*



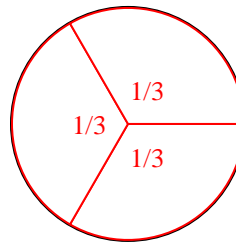
1) *Partitionnez la figure en 3 quartiers égaux et indiquez leur valeur en fraction.*



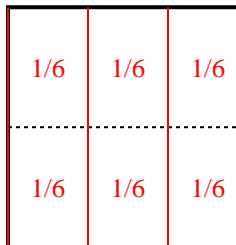
3) *Partitionnez la figure en 4 quartiers égaux et indiquez leur valeur en fraction.*



5) *Partitionnez la figure en 3 quartiers égaux et indiquez leur valeur en fraction.*



7) *Partitionnez la figure en 6 quartiers égaux et indiquez leur valeur en fraction.*



9) *Partitionnez la figure en 2 quartiers égaux et indiquez leur valeur en fraction.*

