


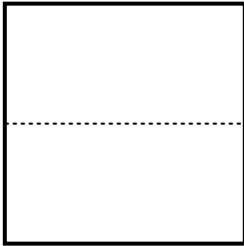


**Partitionnez chaque cercle et indiquez leur valeur.**


**Ex)** *Partitionnez la figure en 4 quartiers égaux et indiquez leur valeur en fraction.*




**2)** *Partitionnez la figure en 6 quartiers égaux et indiquez leur valeur en fraction.*




**4)** *Partitionnez la figure en 2 quartiers égaux et indiquez leur valeur en fraction.*



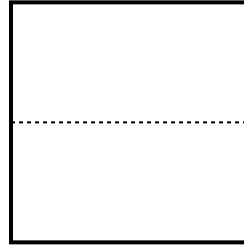
**6)** *Partitionnez la figure en 2 quartiers égaux et indiquez leur valeur en fraction.*




**8)** *Partitionnez la figure en 4 quartiers égaux et indiquez leur valeur en fraction.*




**1)** *Partitionnez la figure en 8 quartiers égaux et indiquez leur valeur en fraction.*




**3)** *Partitionnez la figure en 3 quartiers égaux et indiquez leur valeur en fraction.*



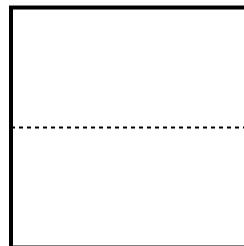
**5)** *Partitionnez la figure en 8 quartiers égaux et indiquez leur valeur en fraction.*



**7)** *Partitionnez la figure en 3 quartiers égaux et indiquez leur valeur en fraction.*



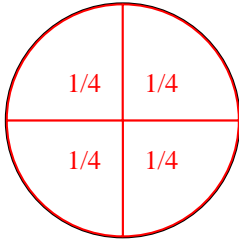
**9)** *Partitionnez la figure en 6 quartiers égaux et indiquez leur valeur en fraction.*



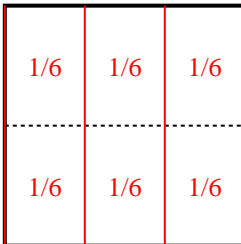


**Partitionnez chaque cercle et indiquez leur valeur.**


- Ex)** *Partitionnez la figure en 4 quartiers égaux et indiquez leur valeur en fraction.*



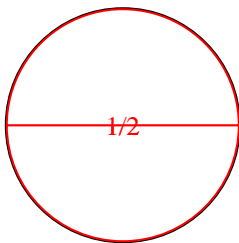
- 2)** *Partitionnez la figure en 6 quartiers égaux et indiquez leur valeur en fraction.*



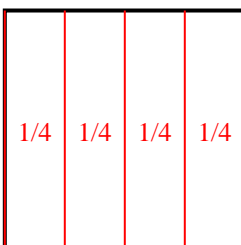
- 4)** *Partitionnez la figure en 2 quartiers égaux et indiquez leur valeur en fraction.*



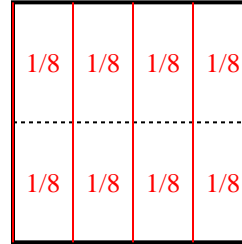
- 6)** *Partitionnez la figure en 2 quartiers égaux et indiquez leur valeur en fraction.*



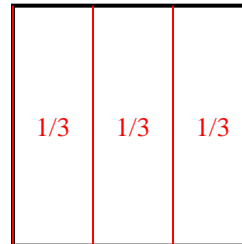
- 8)** *Partitionnez la figure en 4 quartiers égaux et indiquez leur valeur en fraction.*



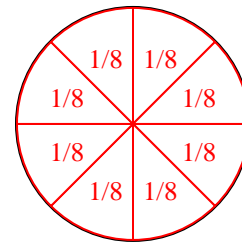
- 1)** *Partitionnez la figure en 8 quartiers égaux et indiquez leur valeur en fraction.*



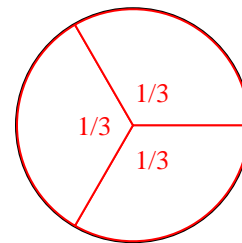
- 3)** *Partitionnez la figure en 3 quartiers égaux et indiquez leur valeur en fraction.*



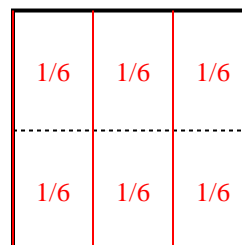
- 5)** *Partitionnez la figure en 8 quartiers égaux et indiquez leur valeur en fraction.*



- 7)** *Partitionnez la figure en 3 quartiers égaux et indiquez leur valeur en fraction.*




- 9)** *Partitionnez la figure en 6 quartiers égaux et indiquez leur valeur en fraction.*






**Partitionnez chaque cercle et indiquez leur valeur.**


**Ex)** *Partitionnez la figure en 6 quartiers égaux et indiquez leur valeur en fraction.*




**2)** *Partitionnez la figure en 4 quartiers égaux et indiquez leur valeur en fraction.*



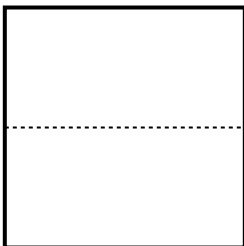
**4)** *Partitionnez la figure en 3 quartiers égaux et indiquez leur valeur en fraction.*



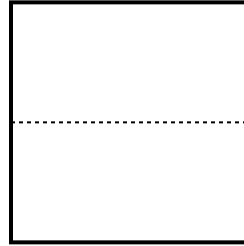
**6)** *Partitionnez la figure en 4 quartiers égaux et indiquez leur valeur en fraction.*




**8)** *Partitionnez la figure en 6 quartiers égaux et indiquez leur valeur en fraction.*




**1)** *Partitionnez la figure en 8 quartiers égaux et indiquez leur valeur en fraction.*



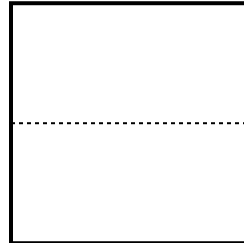
**3)** *Partitionnez la figure en 2 quartiers égaux et indiquez leur valeur en fraction.*




**5)** *Partitionnez la figure en 3 quartiers égaux et indiquez leur valeur en fraction.*



**7)** *Partitionnez la figure en 8 quartiers égaux et indiquez leur valeur en fraction.*



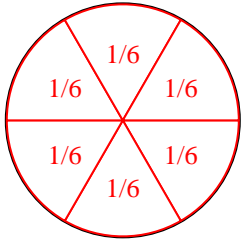
**9)** *Partitionnez la figure en 2 quartiers égaux et indiquez leur valeur en fraction.*






**Partitionnez chaque cercle et indiquez leur valeur.**

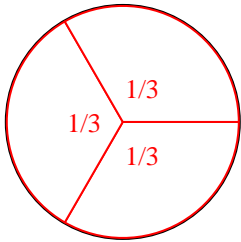
- Ex)** *Partitionnez la figure en 6 quartiers égaux et indiquez leur valeur en fraction.*



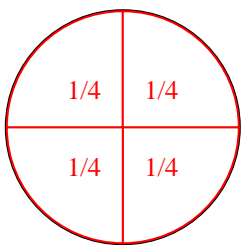
- 2)** *Partitionnez la figure en 4 quartiers égaux et indiquez leur valeur en fraction.*



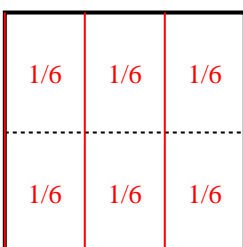
- 4)** *Partitionnez la figure en 3 quartiers égaux et indiquez leur valeur en fraction.*



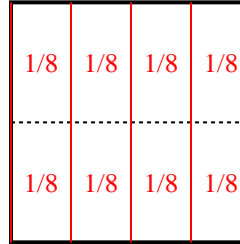
- 6)** *Partitionnez la figure en 4 quartiers égaux et indiquez leur valeur en fraction.*



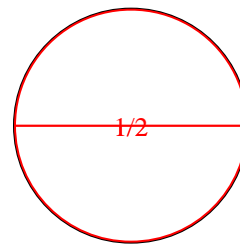
- 8)** *Partitionnez la figure en 6 quartiers égaux et indiquez leur valeur en fraction.*



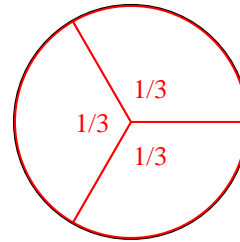
- 1)** *Partitionnez la figure en 8 quartiers égaux et indiquez leur valeur en fraction.*



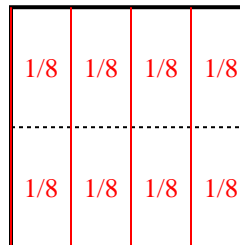
- 3)** *Partitionnez la figure en 2 quartiers égaux et indiquez leur valeur en fraction.*



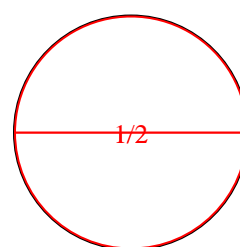
- 5)** *Partitionnez la figure en 3 quartiers égaux et indiquez leur valeur en fraction.*



- 7)** *Partitionnez la figure en 8 quartiers égaux et indiquez leur valeur en fraction.*



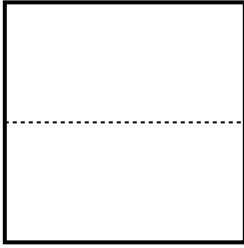
- 9)** *Partitionnez la figure en 2 quartiers égaux et indiquez leur valeur en fraction.*






**Partitionnez chaque cercle et indiquez leur valeur.**


**Ex)** *Partitionnez la figure en 4 quartiers égaux et indiquez leur valeur en fraction.*




**2)** *Partitionnez la figure en 2 quartiers égaux et indiquez leur valeur en fraction.*




**4)** *Partitionnez la figure en 3 quartiers égaux et indiquez leur valeur en fraction.*




**6)** *Partitionnez la figure en 8 quartiers égaux et indiquez leur valeur en fraction.*




**8)** *Partitionnez la figure en 6 quartiers égaux et indiquez leur valeur en fraction.*




**1)** *Partitionnez la figure en 8 quartiers égaux et indiquez leur valeur en fraction.*




**3)** *Partitionnez la figure en 6 quartiers égaux et indiquez leur valeur en fraction.*




**5)** *Partitionnez la figure en 4 quartiers égaux et indiquez leur valeur en fraction.*



**7)** *Partitionnez la figure en 3 quartiers égaux et indiquez leur valeur en fraction.*



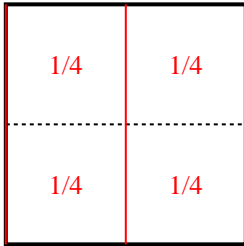
**9)** *Partitionnez la figure en 2 quartiers égaux et indiquez leur valeur en fraction.*



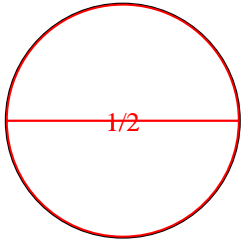


**Partitionnez chaque cercle et indiquez leur valeur.**

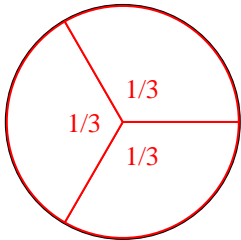
**Ex)** *Partitionnez la figure en 4 quartiers égaux et indiquez leur valeur en fraction.*



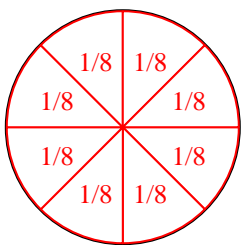
**2)** *Partitionnez la figure en 2 quartiers égaux et indiquez leur valeur en fraction.*



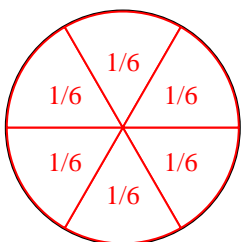
**4)** *Partitionnez la figure en 3 quartiers égaux et indiquez leur valeur en fraction.*



**6)** *Partitionnez la figure en 8 quartiers égaux et indiquez leur valeur en fraction.*



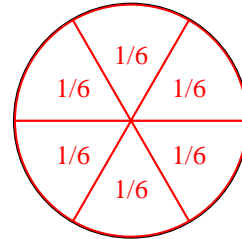
**8)** *Partitionnez la figure en 6 quartiers égaux et indiquez leur valeur en fraction.*




**1)** *Partitionnez la figure en 8 quartiers égaux et indiquez leur valeur en fraction.*



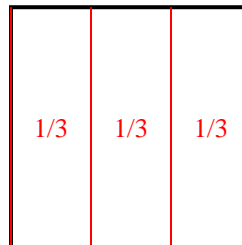
**3)** *Partitionnez la figure en 6 quartiers égaux et indiquez leur valeur en fraction.*



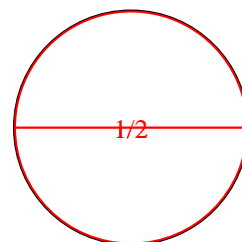
**5)** *Partitionnez la figure en 4 quartiers égaux et indiquez leur valeur en fraction.*



**7)** *Partitionnez la figure en 3 quartiers égaux et indiquez leur valeur en fraction.*



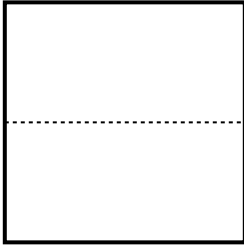
**9)** *Partitionnez la figure en 2 quartiers égaux et indiquez leur valeur en fraction.*






**Partitionnez chaque cercle et indiquez leur valeur.**


**Ex)** *Partitionnez la figure en 8 quartiers égaux et indiquez leur valeur en fraction.*




**2)** *Partitionnez la figure en 2 quartiers égaux et indiquez leur valeur en fraction.*




**4)** *Partitionnez la figure en 4 quartiers égaux et indiquez leur valeur en fraction.*



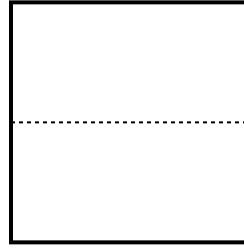
**6)** *Partitionnez la figure en 6 quartiers égaux et indiquez leur valeur en fraction.*




**8)** *Partitionnez la figure en 8 quartiers égaux et indiquez leur valeur en fraction.*




**1)** *Partitionnez la figure en 6 quartiers égaux et indiquez leur valeur en fraction.*




**3)** *Partitionnez la figure en 3 quartiers égaux et indiquez leur valeur en fraction.*




**5)** *Partitionnez la figure en 3 quartiers égaux et indiquez leur valeur en fraction.*



**7)** *Partitionnez la figure en 4 quartiers égaux et indiquez leur valeur en fraction.*



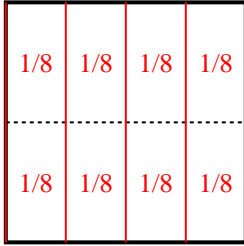
**9)** *Partitionnez la figure en 2 quartiers égaux et indiquez leur valeur en fraction.*



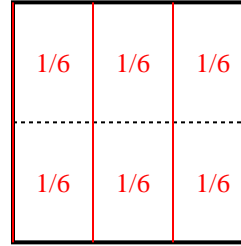


**Partitionnez chaque cercle et indiquez leur valeur.**

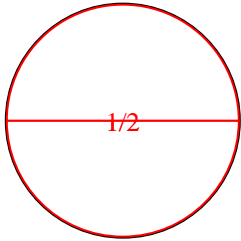
**Ex)** *Partitionnez la figure en 8 quartiers égaux et indiquez leur valeur en fraction.*



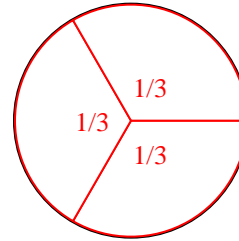
**1)** *Partitionnez la figure en 6 quartiers égaux et indiquez leur valeur en fraction.*



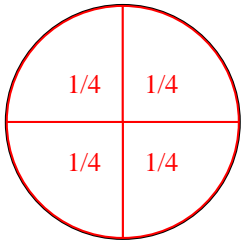
**2)** *Partitionnez la figure en 2 quartiers égaux et indiquez leur valeur en fraction.*



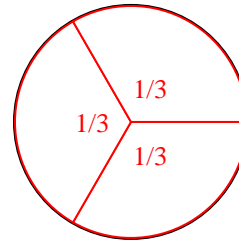
**3)** *Partitionnez la figure en 3 quartiers égaux et indiquez leur valeur en fraction.*



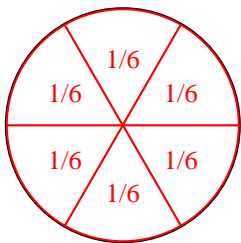
**4)** *Partitionnez la figure en 4 quartiers égaux et indiquez leur valeur en fraction.*



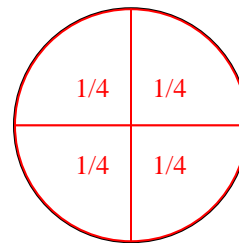
**5)** *Partitionnez la figure en 3 quartiers égaux et indiquez leur valeur en fraction.*



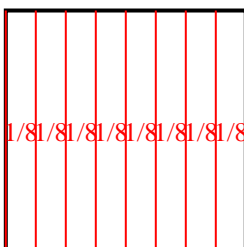
**6)** *Partitionnez la figure en 6 quartiers égaux et indiquez leur valeur en fraction.*



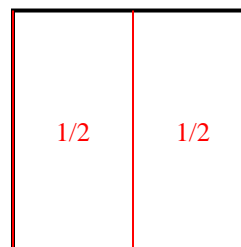
**7)** *Partitionnez la figure en 4 quartiers égaux et indiquez leur valeur en fraction.*



**8)** *Partitionnez la figure en 8 quartiers égaux et indiquez leur valeur en fraction.*



**9)** *Partitionnez la figure en 2 quartiers égaux et indiquez leur valeur en fraction.*






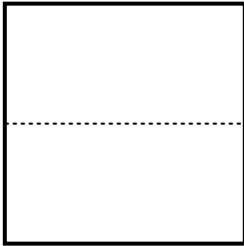


**Partitionnez chaque cercle et indiquez leur valeur.**


**Ex)** *Partitionnez la figure en 8 quartiers égaux et indiquez leur valeur en fraction.*




**2)** *Partitionnez la figure en 6 quartiers égaux et indiquez leur valeur en fraction.*



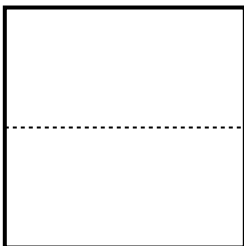
**4)** *Partitionnez la figure en 3 quartiers égaux et indiquez leur valeur en fraction.*




**6)** *Partitionnez la figure en 4 quartiers égaux et indiquez leur valeur en fraction.*




**8)** *Partitionnez la figure en 8 quartiers égaux et indiquez leur valeur en fraction.*




**1)** *Partitionnez la figure en 4 quartiers égaux et indiquez leur valeur en fraction.*




**3)** *Partitionnez la figure en 2 quartiers égaux et indiquez leur valeur en fraction.*




**5)** *Partitionnez la figure en 2 quartiers égaux et indiquez leur valeur en fraction.*



**7)** *Partitionnez la figure en 3 quartiers égaux et indiquez leur valeur en fraction.*



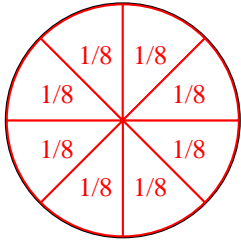
**9)** *Partitionnez la figure en 6 quartiers égaux et indiquez leur valeur en fraction.*



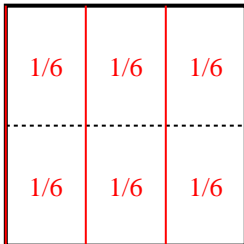


**Partitionnez chaque cercle et indiquez leur valeur.**


**Ex)** *Partitionnez la figure en 8 quartiers égaux et indiquez leur valeur en fraction.*




**2)** *Partitionnez la figure en 6 quartiers égaux et indiquez leur valeur en fraction.*



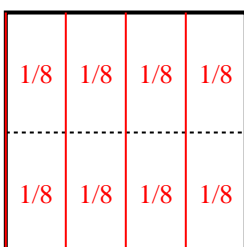
**4)** *Partitionnez la figure en 3 quartiers égaux et indiquez leur valeur en fraction.*




**6)** *Partitionnez la figure en 4 quartiers égaux et indiquez leur valeur en fraction.*



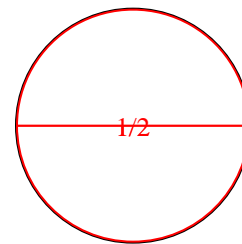
**8)** *Partitionnez la figure en 8 quartiers égaux et indiquez leur valeur en fraction.*



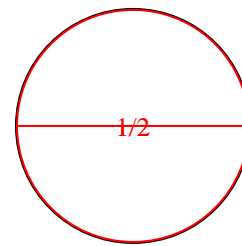
**1)** *Partitionnez la figure en 4 quartiers égaux et indiquez leur valeur en fraction.*



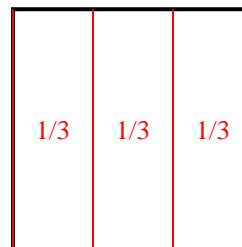
**3)** *Partitionnez la figure en 2 quartiers égaux et indiquez leur valeur en fraction.*



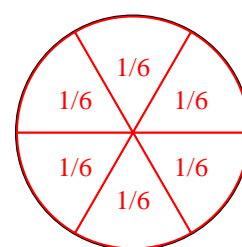
**5)** *Partitionnez la figure en 2 quartiers égaux et indiquez leur valeur en fraction.*



**7)** *Partitionnez la figure en 3 quartiers égaux et indiquez leur valeur en fraction.*




**9)** *Partitionnez la figure en 6 quartiers égaux et indiquez leur valeur en fraction.*






**Partitionnez chaque cercle et indiquez leur valeur.**


**Ex)** *Partitionnez la figure en 3 quartiers égaux et indiquez leur valeur en fraction.*



**1)** *Partitionnez la figure en 6 quartiers égaux et indiquez leur valeur en fraction.*



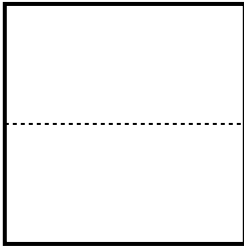
**2)** *Partitionnez la figure en 2 quartiers égaux et indiquez leur valeur en fraction.*




**3)** *Partitionnez la figure en 4 quartiers égaux et indiquez leur valeur en fraction.*




**4)** *Partitionnez la figure en 8 quartiers égaux et indiquez leur valeur en fraction.*



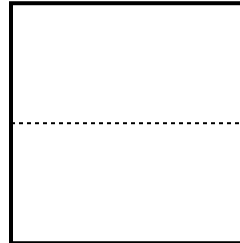
**5)** *Partitionnez la figure en 8 quartiers égaux et indiquez leur valeur en fraction.*




**6)** *Partitionnez la figure en 6 quartiers égaux et indiquez leur valeur en fraction.*




**7)** *Partitionnez la figure en 4 quartiers égaux et indiquez leur valeur en fraction.*



**8)** *Partitionnez la figure en 3 quartiers égaux et indiquez leur valeur en fraction.*



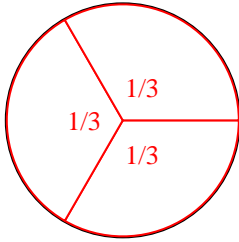
**9)** *Partitionnez la figure en 2 quartiers égaux et indiquez leur valeur en fraction.*



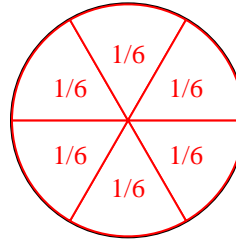


**Partitionnez chaque cercle et indiquez leur valeur.**


**Ex)** *Partitionnez la figure en 3 quartiers égaux et indiquez leur valeur en fraction.*




**1)** *Partitionnez la figure en 6 quartiers égaux et indiquez leur valeur en fraction.*



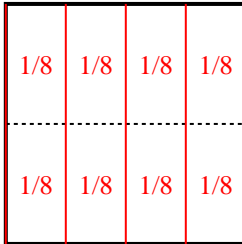
**2)** *Partitionnez la figure en 2 quartiers égaux et indiquez leur valeur en fraction.*



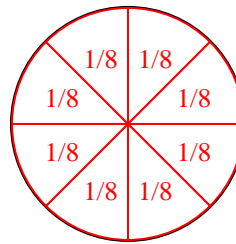
**3)** *Partitionnez la figure en 4 quartiers égaux et indiquez leur valeur en fraction.*



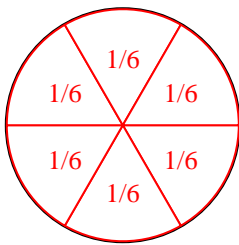
**4)** *Partitionnez la figure en 8 quartiers égaux et indiquez leur valeur en fraction.*



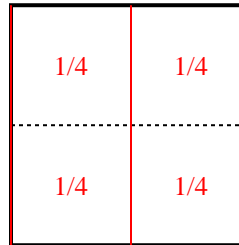
**5)** *Partitionnez la figure en 8 quartiers égaux et indiquez leur valeur en fraction.*



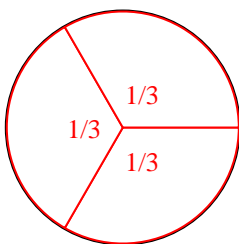
**6)** *Partitionnez la figure en 6 quartiers égaux et indiquez leur valeur en fraction.*



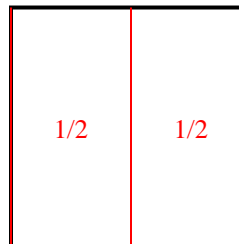
**7)** *Partitionnez la figure en 4 quartiers égaux et indiquez leur valeur en fraction.*



**8)** *Partitionnez la figure en 3 quartiers égaux et indiquez leur valeur en fraction.*




**9)** *Partitionnez la figure en 2 quartiers égaux et indiquez leur valeur en fraction.*






**Partitionnez chaque cercle et indiquez leur valeur.**


**Ex)** *Partitionnez la figure en 2 quartiers égaux et indiquez leur valeur en fraction.*




**2)** *Partitionnez la figure en 6 quartiers égaux et indiquez leur valeur en fraction.*




**4)** *Partitionnez la figure en 3 quartiers égaux et indiquez leur valeur en fraction.*




**6)** *Partitionnez la figure en 8 quartiers égaux et indiquez leur valeur en fraction.*



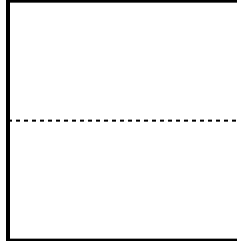
**8)** *Partitionnez la figure en 4 quartiers égaux et indiquez leur valeur en fraction.*




**1)** *Partitionnez la figure en 8 quartiers égaux et indiquez leur valeur en fraction.*




**3)** *Partitionnez la figure en 4 quartiers égaux et indiquez leur valeur en fraction.*



**5)** *Partitionnez la figure en 6 quartiers égaux et indiquez leur valeur en fraction.*



**7)** *Partitionnez la figure en 2 quartiers égaux et indiquez leur valeur en fraction.*




**9)** *Partitionnez la figure en 3 quartiers égaux et indiquez leur valeur en fraction.*



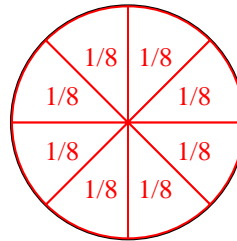


**Partitionnez chaque cercle et indiquez leur valeur.**

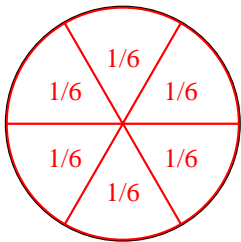
**Ex)** *Partitionnez la figure en 2 quartiers égaux et indiquez leur valeur en fraction.*



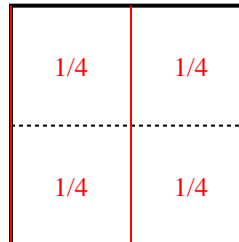
**1)** *Partitionnez la figure en 8 quartiers égaux et indiquez leur valeur en fraction.*




**2)** *Partitionnez la figure en 6 quartiers égaux et indiquez leur valeur en fraction.*



**3)** *Partitionnez la figure en 4 quartiers égaux et indiquez leur valeur en fraction.*



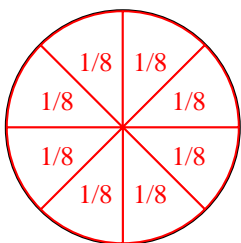
**4)** *Partitionnez la figure en 3 quartiers égaux et indiquez leur valeur en fraction.*



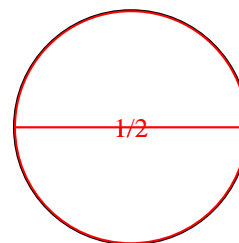
**5)** *Partitionnez la figure en 6 quartiers égaux et indiquez leur valeur en fraction.*



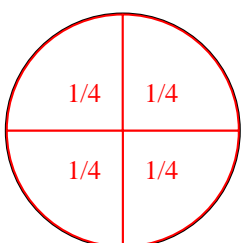
**6)** *Partitionnez la figure en 8 quartiers égaux et indiquez leur valeur en fraction.*



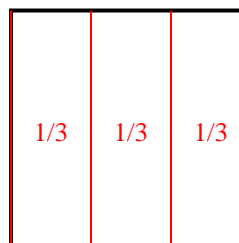
**7)** *Partitionnez la figure en 2 quartiers égaux et indiquez leur valeur en fraction.*



**8)** *Partitionnez la figure en 4 quartiers égaux et indiquez leur valeur en fraction.*




**9)** *Partitionnez la figure en 3 quartiers égaux et indiquez leur valeur en fraction.*






**Partitionnez chaque cercle et indiquez leur valeur.**


**Ex)** *Partitionnez la figure en 6 quartiers égaux et indiquez leur valeur en fraction.*




**2)** *Partitionnez la figure en 3 quartiers égaux et indiquez leur valeur en fraction.*




**4)** *Partitionnez la figure en 4 quartiers égaux et indiquez leur valeur en fraction.*




**6)** *Partitionnez la figure en 2 quartiers égaux et indiquez leur valeur en fraction.*




**8)** *Partitionnez la figure en 8 quartiers égaux et indiquez leur valeur en fraction.*



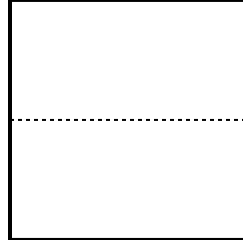
**1)** *Partitionnez la figure en 2 quartiers égaux et indiquez leur valeur en fraction.*




**3)** *Partitionnez la figure en 8 quartiers égaux et indiquez leur valeur en fraction.*




**5)** *Partitionnez la figure en 4 quartiers égaux et indiquez leur valeur en fraction.*



**7)** *Partitionnez la figure en 3 quartiers égaux et indiquez leur valeur en fraction.*



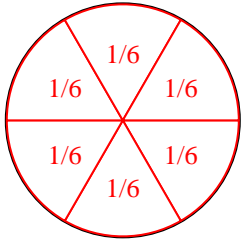
**9)** *Partitionnez la figure en 6 quartiers égaux et indiquez leur valeur en fraction.*



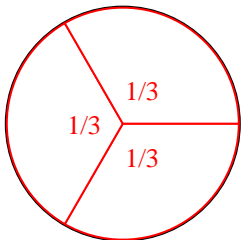


**Partitionnez chaque cercle et indiquez leur valeur.**

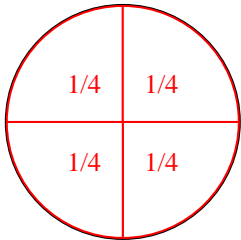
**Ex)** *Partitionnez la figure en 6 quartiers égaux et indiquez leur valeur en fraction.*




**2)** *Partitionnez la figure en 3 quartiers égaux et indiquez leur valeur en fraction.*



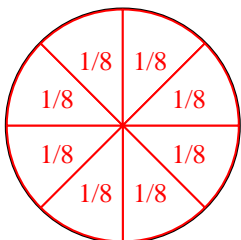
**4)** *Partitionnez la figure en 4 quartiers égaux et indiquez leur valeur en fraction.*



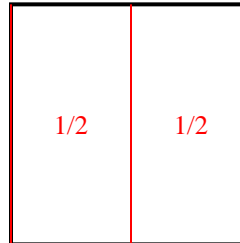
**6)** *Partitionnez la figure en 2 quartiers égaux et indiquez leur valeur en fraction.*



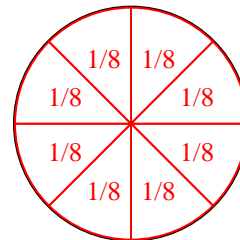
**8)** *Partitionnez la figure en 8 quartiers égaux et indiquez leur valeur en fraction.*



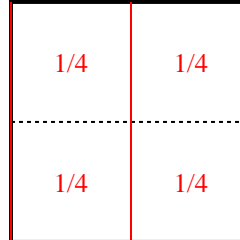
**1)** *Partitionnez la figure en 2 quartiers égaux et indiquez leur valeur en fraction.*



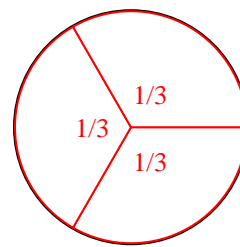
**3)** *Partitionnez la figure en 8 quartiers égaux et indiquez leur valeur en fraction.*



**5)** *Partitionnez la figure en 4 quartiers égaux et indiquez leur valeur en fraction.*



**7)** *Partitionnez la figure en 3 quartiers égaux et indiquez leur valeur en fraction.*



**9)** *Partitionnez la figure en 6 quartiers égaux et indiquez leur valeur en fraction.*









**Partitionnez chaque cercle et indiquez leur valeur.**


**Ex)** *Partitionnez la figure en 2 quartiers égaux et indiquez leur valeur en fraction.*




**2)** *Partitionnez la figure en 4 quartiers égaux et indiquez leur valeur en fraction.*




**4)** *Partitionnez la figure en 3 quartiers égaux et indiquez leur valeur en fraction.*



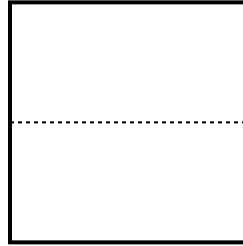
**6)** *Partitionnez la figure en 6 quartiers égaux et indiquez leur valeur en fraction.*




**8)** *Partitionnez la figure en 2 quartiers égaux et indiquez leur valeur en fraction.*




**1)** *Partitionnez la figure en 6 quartiers égaux et indiquez leur valeur en fraction.*




**3)** *Partitionnez la figure en 8 quartiers égaux et indiquez leur valeur en fraction.*




**5)** *Partitionnez la figure en 4 quartiers égaux et indiquez leur valeur en fraction.*



**7)** *Partitionnez la figure en 8 quartiers égaux et indiquez leur valeur en fraction.*



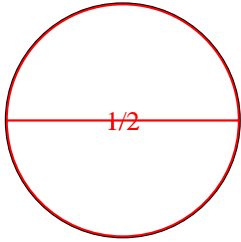
**9)** *Partitionnez la figure en 3 quartiers égaux et indiquez leur valeur en fraction.*



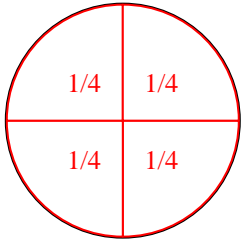


**Partitionnez chaque cercle et indiquez leur valeur.**


- Ex)** *Partitionnez la figure en 2 quartiers égaux et indiquez leur valeur en fraction.*



- 2)** *Partitionnez la figure en 4 quartiers égaux et indiquez leur valeur en fraction.*




- 4)** *Partitionnez la figure en 3 quartiers égaux et indiquez leur valeur en fraction.*



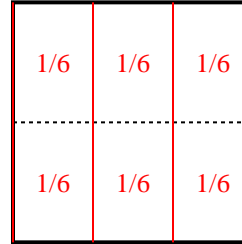
- 6)** *Partitionnez la figure en 6 quartiers égaux et indiquez leur valeur en fraction.*



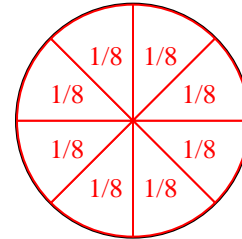
- 8)** *Partitionnez la figure en 2 quartiers égaux et indiquez leur valeur en fraction.*



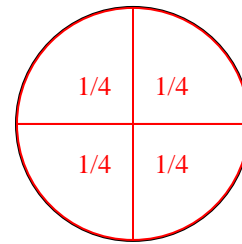
- 1)** *Partitionnez la figure en 6 quartiers égaux et indiquez leur valeur en fraction.*



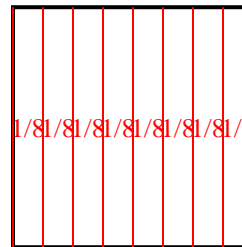
- 3)** *Partitionnez la figure en 8 quartiers égaux et indiquez leur valeur en fraction.*



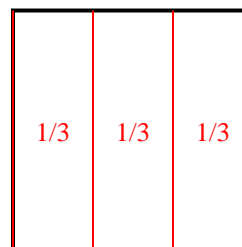
- 5)** *Partitionnez la figure en 4 quartiers égaux et indiquez leur valeur en fraction.*



- 7)** *Partitionnez la figure en 8 quartiers égaux et indiquez leur valeur en fraction.*




- 9)** *Partitionnez la figure en 3 quartiers égaux et indiquez leur valeur en fraction.*



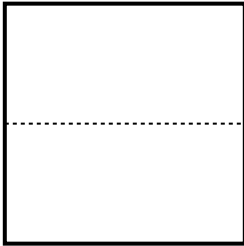


**Partitionnez chaque cercle et indiquez leur valeur.**


**Ex)** *Partitionnez la figure en 8 quartiers égaux et indiquez leur valeur en fraction.*




**2)** *Partitionnez la figure en 6 quartiers égaux et indiquez leur valeur en fraction.*



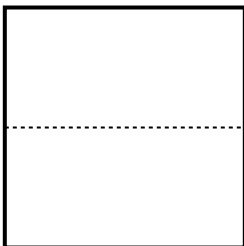
**4)** *Partitionnez la figure en 2 quartiers égaux et indiquez leur valeur en fraction.*




**6)** *Partitionnez la figure en 8 quartiers égaux et indiquez leur valeur en fraction.*




**8)** *Partitionnez la figure en 4 quartiers égaux et indiquez leur valeur en fraction.*




**1)** *Partitionnez la figure en 3 quartiers égaux et indiquez leur valeur en fraction.*



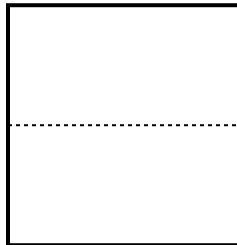
**3)** *Partitionnez la figure en 4 quartiers égaux et indiquez leur valeur en fraction.*




**5)** *Partitionnez la figure en 3 quartiers égaux et indiquez leur valeur en fraction.*



**7)** *Partitionnez la figure en 6 quartiers égaux et indiquez leur valeur en fraction.*



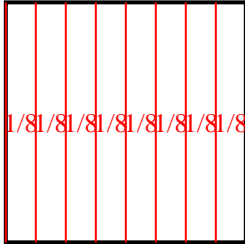
**9)** *Partitionnez la figure en 2 quartiers égaux et indiquez leur valeur en fraction.*



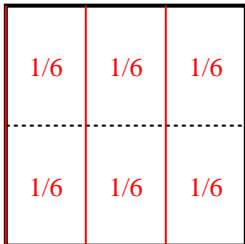


**Partitionnez chaque cercle et indiquez leur valeur.**

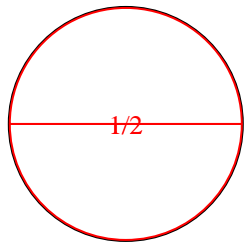
**Ex)** *Partitionnez la figure en 8 quartiers égaux et indiquez leur valeur en fraction.*



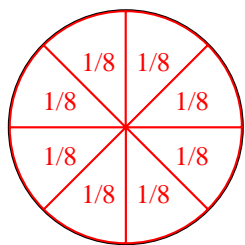
**2)** *Partitionnez la figure en 6 quartiers égaux et indiquez leur valeur en fraction.*



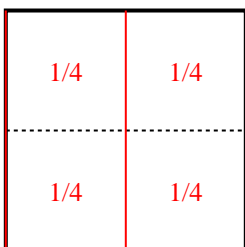
**4)** *Partitionnez la figure en 2 quartiers égaux et indiquez leur valeur en fraction.*



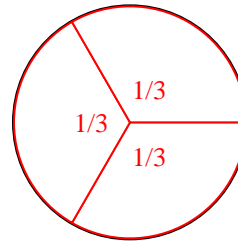
**6)** *Partitionnez la figure en 8 quartiers égaux et indiquez leur valeur en fraction.*



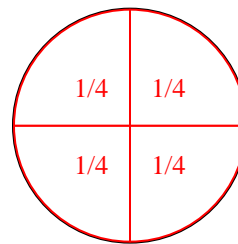
**8)** *Partitionnez la figure en 4 quartiers égaux et indiquez leur valeur en fraction.*



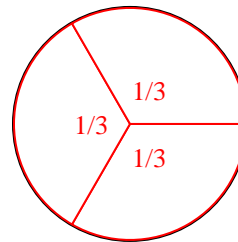
**1)** *Partitionnez la figure en 3 quartiers égaux et indiquez leur valeur en fraction.*



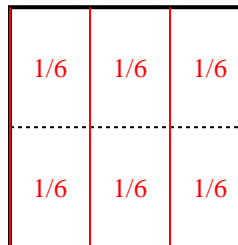
**3)** *Partitionnez la figure en 4 quartiers égaux et indiquez leur valeur en fraction.*



**5)** *Partitionnez la figure en 3 quartiers égaux et indiquez leur valeur en fraction.*



**7)** *Partitionnez la figure en 6 quartiers égaux et indiquez leur valeur en fraction.*



**9)** *Partitionnez la figure en 2 quartiers égaux et indiquez leur valeur en fraction.*

