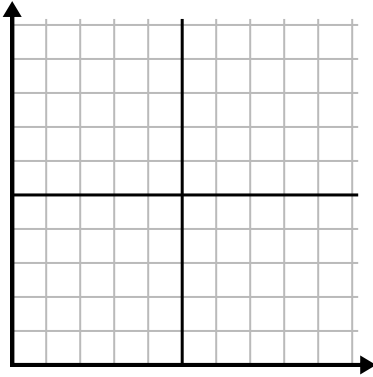




Remplissez la grille à l'aide du graphique.

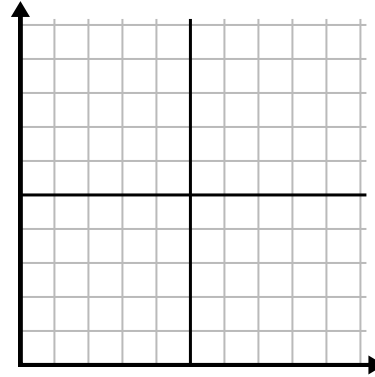
1)

Heure	1	2	3	4	5	6	7
Montant vendu	10	6	5	4	1	8	9



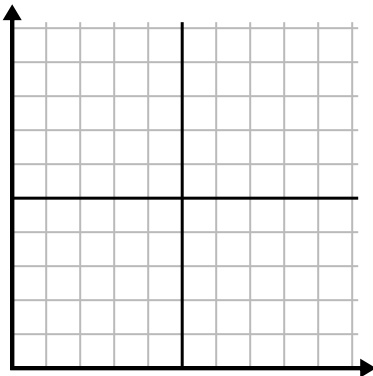
2)

La semaine	1	2	3	4	5	6	7
Eau utilisée (gallons)	30	50	40	100	80	10	20



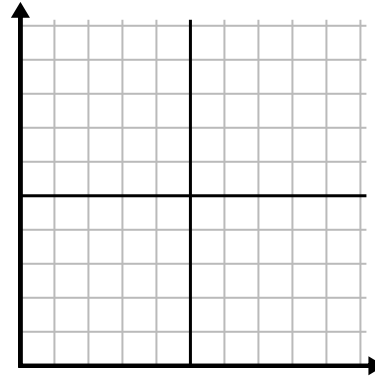
3)

Année	1	2	3	4	5	6	7
Cartouches d'encre utilisées	8	18	6	20	16	10	14



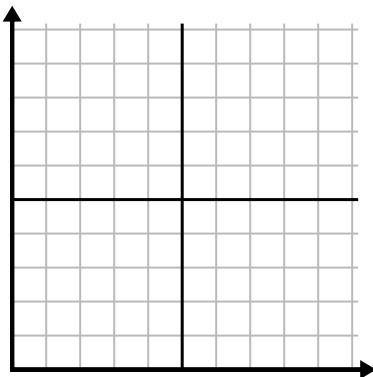
4)

Jour	1	2	3	4	5	6	7
Repas vendus	900	400	700	500	1 000	600	100



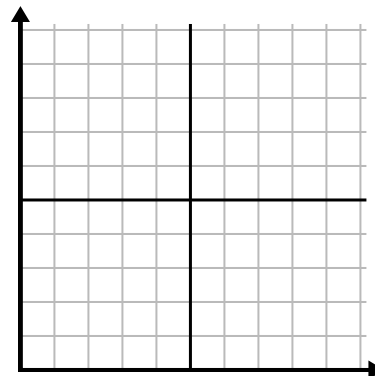
5)

Jour	1	2	3	4	5	6
Textes envoyés	40	35	30	50	10	20



6)

Mois	1	2	3	4	5	6
Prix ??de la facture d'électricité	25	150	175	250	200	50

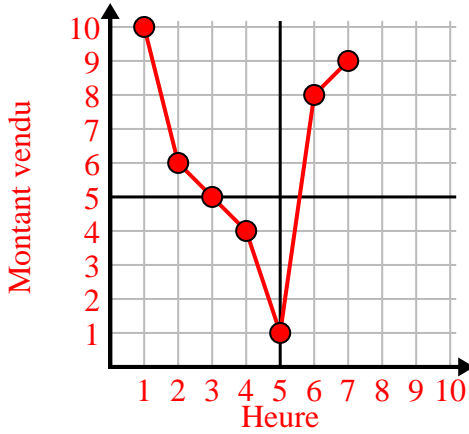




Remplissez la grille à l'aide du graphique.

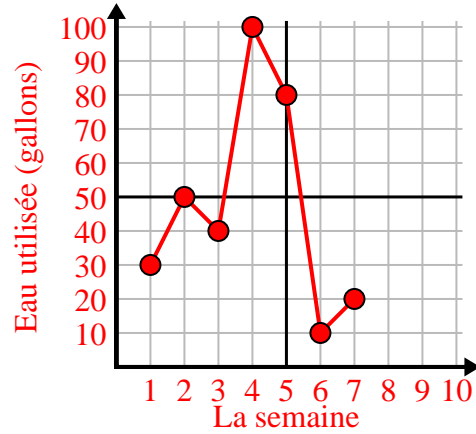
1)

Heure	1	2	3	4	5	6	7
Montant vendu	10	6	5	4	1	8	9



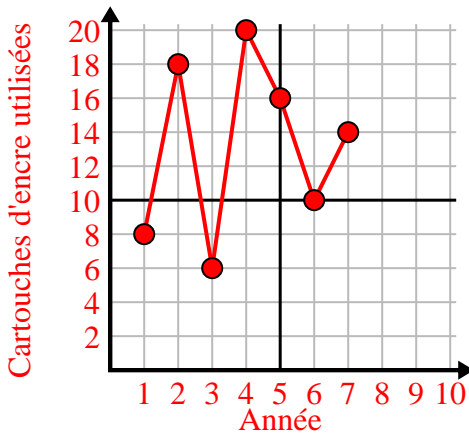
2)

La semaine	1	2	3	4	5	6	7
Eau utilisée (gallons)	30	50	40	100	80	10	20



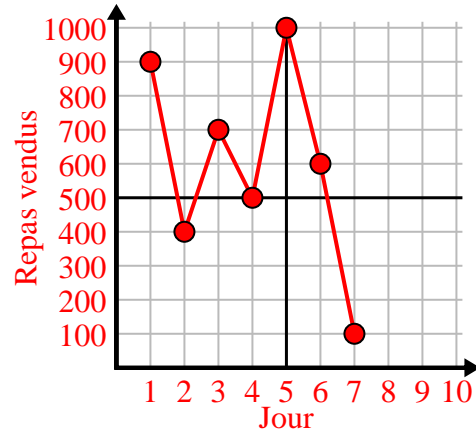
3)

Année	1	2	3	4	5	6	7
Cartouches d'encre utilisées	8	18	6	20	16	10	14



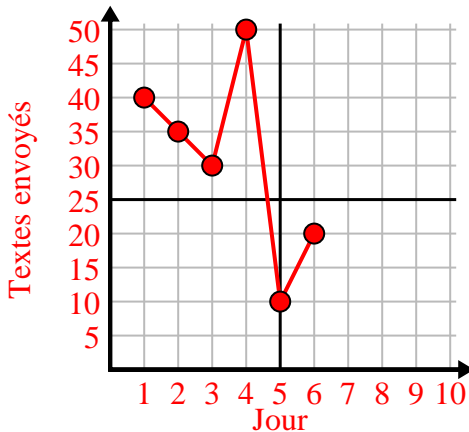
4)

Jour	1	2	3	4	5	6	7
Repas vendus	900	400	700	500	1000	600	100



5)

Jour	1	2	3	4	5	6
Textes envoyés	40	35	30	50	10	20



6)

Mois	1	2	3	4	5	6
Prix ?? de la facture d'électricité	25	150	175	250	200	50

