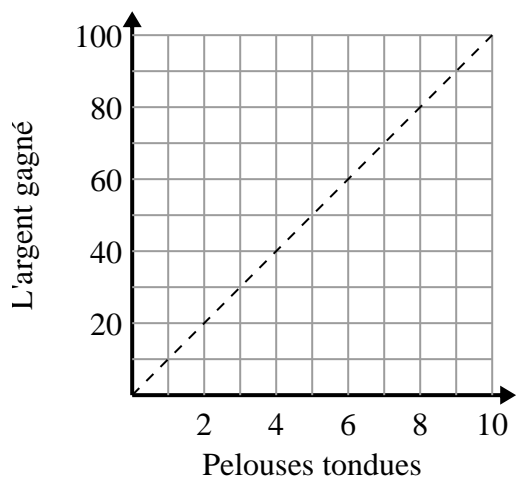




Déterminez quelles affirmations sur le graphique sont vraies.

**Réponses**

1)



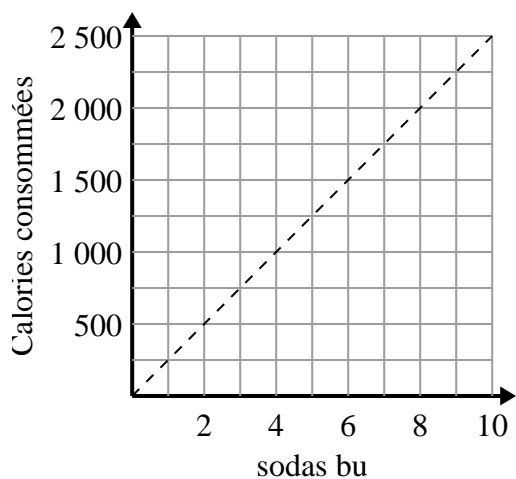
- A. Le point (3 , 30) indique que vous gagneriez 30 \$ pour tondre 3 pelouses.
- B. Le point (90 , 9) indique que vous gagneriez 90 \$ pour tondre 9 pelouses.
- C. Le point (1 , 10) indique que la tonte de 1 pelouse vous rapportera 10 \$.
- D. Le point (10 , 1) indique que la tonte de 1 pelouse vous rapportera 10 \$.

1. \_\_\_\_\_

2. \_\_\_\_\_

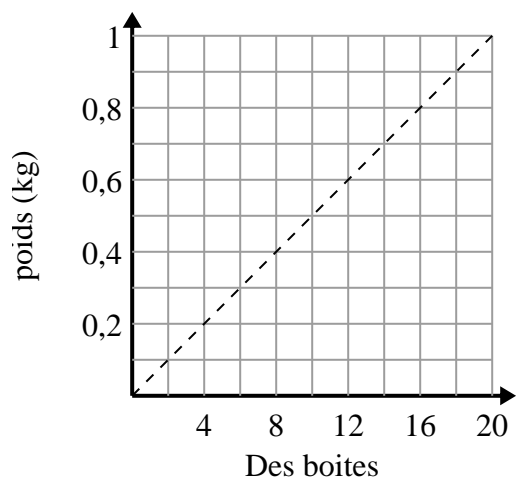
3. \_\_\_\_\_

2)



- A. Le point (2 , 500) montre que boire 2 sodas signifie que vous avez consommé 500 calories.
- B. Le point (1 , 250) montre que boire 1 un soda signifie que vous avez consommé 250 calories.
- C. Le point (1000 , 4) montre que boire 4 sodas signifie que vous avez consommé 1000 calories.
- D. Le point (4 , 1000) montre que pour consommer 1000 calories, vous devez boire 4 sodas.

3)



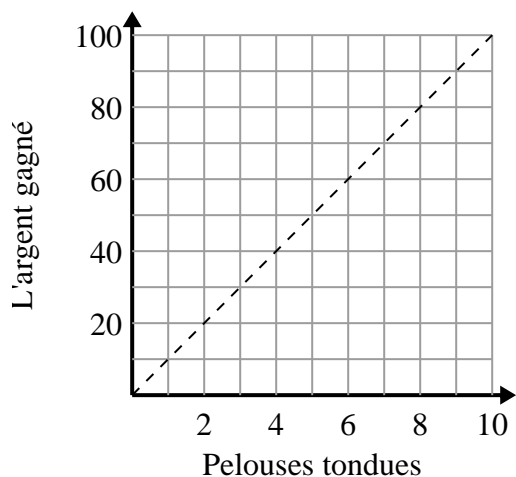
- A. Le point (4 , 0.2) indique que 0.2 kg correspond au poids de 4 boîtes.
- B. Le point (12 , 0.6) indique que 12 boîtes pèsent 0.6 kg.
- C. Le point (0.5 , 10) indique que 0.5 kg correspond au poids de 10 boîtes.
- D. Le point (16 , 0.8) indique que 16 boîtes pèsent 0.8 kg.



Déterminez quelles affirmations sur le graphique sont vraies.

**Réponses**

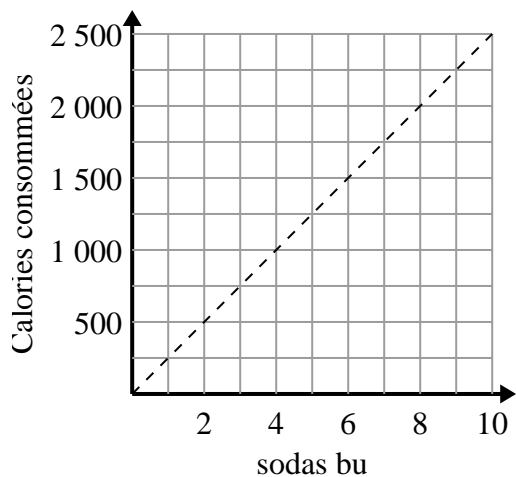
1)



- A. Le point (3 , 30) indique que vous gagneriez 30 \$ pour tondre 3 pelouses.
- B. Le point (90 , 9) indique que vous gagneriez 90 \$ pour tondre 9 pelouses.
- C. Le point (1 , 10) indique que la tonte de 1 pelouse vous rapportera 10 \$.
- D. Le point (10 , 1) indique que la tonte de 1 pelouse vous rapportera 10 \$.

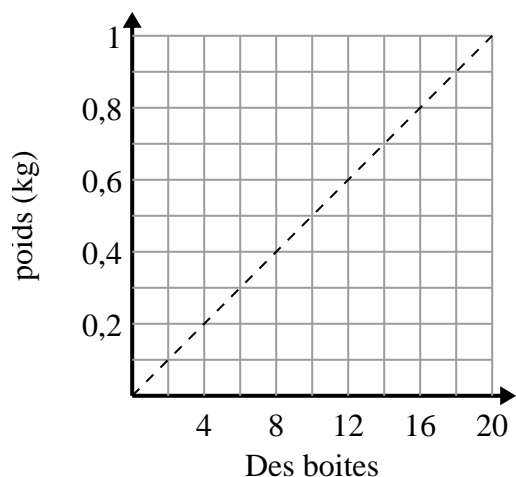
1. **A,C**2. **A,B,D**3. **A,B,D**

2)



- A. Le point (2 , 500) montre que boire 2 sodas signifie que vous avez consommé 500 calories.
- B. Le point (1 , 250) montre que boire 1 un soda signifie que vous avez consommé 250 calories.
- C. Le point (1000 , 4) montre que boire 4 sodas signifie que vous avez consommé 1000 calories.
- D. Le point (4 , 1000) montre que pour consommer 1000 calories, vous devez boire 4 sodas.

3)



- A. Le point (4 , 0.2) indique que 0.2 kg correspond au poids de 4 boîtes.
- B. Le point (12 , 0.6) indique que 12 boîtes pèsent 0.6 kg.
- C. Le point (0.5 , 10) indique que 0.5 kg correspond au poids de 10 boîtes.
- D. Le point (16 , 0.8) indique que 16 boîtes pèsent 0.8 kg.