



Résoudre chaque problème.

Réponses

1) Au salon du livre, Emanuele a dépensé \$6,83 pour acheter des livres. Il a donné un billet de vingt dollars au caissier. Combien de monnaie doit-il récupérer ?



2) Paola a acheté un nouveau jeu de société pour \$2,78. Elle a donné un billet de dix dollars à la caissière. Combien de monnaie doit-elle récupérer ?



3) Giovanna a dépensé \$10,55 pour un billet de cinéma. Elle a donné un billet de vingt dollars à la caissière. Combien de monnaie doit-elle récupérer ?



1. _____

2. _____

3. _____



Résoudre chaque problème.

Réponses

1) Au salon du livre, Emanuele a dépensé \$6,83 pour acheter des livres. Il a donné un billet de vingt dollars au caissier. Combien de monnaie doit-il récupérer ?



1. **D**

2. **A**

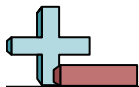
3. **A**

2) Paola a acheté un nouveau jeu de société pour \$2,78. Elle a donné un billet de dix dollars à la caissière. Combien de monnaie doit-elle récupérer ?



3) Giovanna a dépensé \$10,55 pour un billet de cinéma. Elle a donné un billet de vingt dollars à la caissière. Combien de monnaie doit-elle récupérer ?





Résoudre chaque problème.

Réponses

1) Federico a dépensé \$12,91 pour acheter de nouveaux jouets. Il les a achetés avec un billet de vingt dollars. Combien de monnaie doit-il récupérer ?



1. _____

2. _____

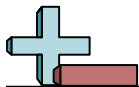
3. _____

2) Au salon du livre, Franco a dépensé \$1,16 pour acheter des livres. Il a donné un billet de dix dollars au caissier. Combien de monnaie doit-il récupérer ?



3) Fabio a acheté pour \$6,97 valeurs de produits d'épicerie. Il a donné un billet de vingt dollars au caissier. Combien de monnaie doit-il récupérer ?





Résoudre chaque problème.

Réponses

1) Federico a dépensé \$12,91 pour acheter de nouveaux jouets. Il les a achetés avec un billet de vingt dollars. Combien de monnaie doit-il récupérer ?



2) Au salon du livre, Franco a dépensé \$1,16 pour acheter des livres. Il a donné un billet de dix dollars au caissier. Combien de monnaie doit-il récupérer ?



3) Fabio a acheté pour \$6,97 valeurs de produits d'épicerie. Il a donné un billet de vingt dollars au caissier. Combien de monnaie doit-il récupérer ?



1. **A**

2. **A**

3. **B**



Résoudre chaque problème.

Réponses

1) À la foire, Daniela a dépensé \$7,00 pour acheter de la nourriture équitable. Elle a donné un billet de vingt dollars à la caissière. Combien de monnaie doit-elle récupérer ?



- 1. _____
- 2. _____
- 3. _____

2) Au salon du livre, Enrico a dépensé \$5,77 pour acheter des livres. Il a donné un billet de dix dollars au caissier. Combien de monnaie doit-il récupérer ?



3) Simone a dépensé \$10,74 pour acheter de nouveaux jouets. Il les a achetés avec un billet de vingt dollars. Combien de monnaie doit-il récupérer ?





Résoudre chaque problème.

Réponses

1) À la foire, Daniela a dépensé \$7,00 pour acheter de la nourriture équitable. Elle a donné un billet de vingt dollars à la caissière. Combien de monnaie doit-elle récupérer ?



1. **B**

2. **C**

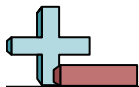
3. **C**

2) Au salon du livre, Enrico a dépensé \$5,77 pour acheter des livres. Il a donné un billet de dix dollars au caissier. Combien de monnaie doit-il récupérer ?



3) Simone a dépensé \$10,74 pour acheter de nouveaux jouets. Il les a achetés avec un billet de vingt dollars. Combien de monnaie doit-il récupérer ?





Résoudre chaque problème.

Réponses

1) Bianca a dépensé \$7,82 pour un billet de cinéma. Elle a donné un billet de vingt dollars à la caissière. Combien de monnaie doit-elle récupérer ?



2) Angelo a dépensé \$4,05 pour acheter de nouveaux jouets. Il les a achetés avec un billet de dix dollars. Combien de monnaie doit-il récupérer ?



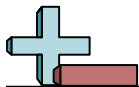
3) À la foire, Lucia a dépensé \$18,24 pour acheter de la nourriture équitable. Elle a donné un billet de vingt dollars à la caissière. Combien de monnaie doit-elle récupérer ?



1. _____

2. _____

3. _____



Résoudre chaque problème.

Réponses

- 1) Bianca a dépensé \$7,82 pour un billet de cinéma. Elle a donné un billet de vingt dollars à la caissière. Combien de monnaie doit-elle récupérer ?



- 2) Angelo a dépensé \$4,05 pour acheter de nouveaux jouets. Il les a achetés avec un billet de dix dollars. Combien de monnaie doit-il récupérer ?



- 3) À la foire, Lucia a dépensé \$18,24 pour acheter de la nourriture équitable. Elle a donné un billet de vingt dollars à la caissière. Combien de monnaie doit-elle récupérer ?



1. **D**
2. **A**
3. **B**



Résoudre chaque problème.

Réponses

1) Luca a dépensé \$11,22 pour acheter de nouveaux jouets. Il les a achetés avec un billet de vingt dollars. Combien de monnaie doit-il récupérer ?



1. _____

2. _____

3. _____

2) Claudio a acheté pour \$7,02 valeurs de produits d'épicerie. Il a donné un billet de dix dollars au caissier. Combien de monnaie doit-il récupérer ?



3) Silvia a dépensé \$13,83 pour un billet de cinéma. Elle a donné un billet de vingt dollars à la caissière. Combien de monnaie doit-elle récupérer ?





Résoudre chaque problème.

Réponses

1) Luca a dépensé \$11,22 pour acheter de nouveaux jouets. Il les a achetés avec un billet de vingt dollars. Combien de monnaie doit-il récupérer ?



1. **B**

2. **B**

3. **A**

2) Claudio a acheté pour \$7,02 valeurs de produits d'épicerie. Il a donné un billet de dix dollars au caissier. Combien de monnaie doit-il récupérer ?



3) Silvia a dépensé \$13,83 pour un billet de cinéma. Elle a donné un billet de vingt dollars à la caissière. Combien de monnaie doit-elle récupérer ?





Résoudre chaque problème.

Réponses

1) Angelo a dépensé \$10,46 pour acheter de nouveaux jouets. Il les a achetés avec un billet de vingt dollars. Combien de monnaie doit-il récupérer ?



- 1. _____
- 2. _____
- 3. _____

2) Francesca a acheté un nouveau jeu de société pour \$7,90. Elle a donné un billet de dix dollars à la caissière. Combien de monnaie doit-elle récupérer ?



3) Au salon du livre, Enrico a dépensé \$12,53 pour acheter des livres. Il a donné un billet de vingt dollars au caissier. Combien de monnaie doit-il récupérer ?





Résoudre chaque problème.

Réponses

1) Angelo a dépensé \$10,46 pour acheter de nouveaux jouets. Il les a achetés avec un billet de vingt dollars. Combien de monnaie doit-il récupérer ?



1. **C**

2. **C**

3. **C**

2) Francesca a acheté un nouveau jeu de société pour \$7,90. Elle a donné un billet de dix dollars à la caissière. Combien de monnaie doit-elle récupérer ?



3) Au salon du livre, Enrico a dépensé \$12,53 pour acheter des livres. Il a donné un billet de vingt dollars au caissier. Combien de monnaie doit-il récupérer ?





Résoudre chaque problème.

Réponses

1) Au salon du livre, Davide a dépensé \$4,75 pour acheter des livres. Il a donné un billet de vingt dollars au caissier. Combien de monnaie doit-il récupérer ?



1. _____

2. _____

3. _____

2) Patrizia a acheté un nouveau jeu de société pour \$2,44. Elle a donné un billet de dix dollars à la caissière. Combien de monnaie doit-elle récupérer ?



3) Laura a dépensé \$2,41 pour un billet de cinéma. Elle a donné un billet de vingt dollars à la caissière. Combien de monnaie doit-elle récupérer ?





Résoudre chaque problème.

Réponses

1) Au salon du livre, Davide a dépensé \$4,75 pour acheter des livres. Il a donné un billet de vingt dollars au caissier. Combien de monnaie doit-il récupérer ?



1. **B**

2. **D**

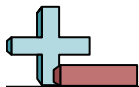
3. **D**

2) Patrizia a acheté un nouveau jeu de société pour \$2,44. Elle a donné un billet de dix dollars à la caissière. Combien de monnaie doit-elle récupérer ?



3) Laura a dépensé \$2,41 pour un billet de cinéma. Elle a donné un billet de vingt dollars à la caissière. Combien de monnaie doit-elle récupérer ?





Résoudre chaque problème.

Réponses

1) À la foire, Lucia a dépensé \$5,12 pour acheter de la nourriture équitable. Elle a donné un billet de vingt dollars à la caissière. Combien de monnaie doit-elle récupérer ?



1. _____

2. _____

3. _____

2) Giovanna a acheté un nouveau jeu de société pour \$7,21. Elle a donné un billet de dix dollars à la caissière. Combien de monnaie doit-elle récupérer ?



3) Enrico a dépensé \$14,61 en bonbons au centre commercial. Il a donné un billet de vingt dollars au caissier. Combien de monnaie doit-il récupérer ?





Résoudre chaque problème.

Réponses

1) À la foire, Lucia a dépensé \$5,12 pour acheter de la nourriture équitable. Elle a donné un billet de vingt dollars à la caissière. Combien de monnaie doit-elle récupérer ?



1. **D**

2. **D**

3. **D**

2) Giovanna a acheté un nouveau jeu de société pour \$7,21. Elle a donné un billet de dix dollars à la caissière. Combien de monnaie doit-elle récupérer ?



3) Enrico a dépensé \$14,61 en bonbons au centre commercial. Il a donné un billet de vingt dollars au caissier. Combien de monnaie doit-il récupérer ?






Résoudre chaque problème.

Réponses

1) Laura a acheté un nouveau jeu de société pour \$2,06. Elle a donné un billet de vingt dollars à la caissière. Combien de monnaie doit-elle récupérer ?



1. _____

2. _____

3. _____

2) Au salon du livre, Andrea a dépensé \$4,57 pour acheter des livres. Il a donné un billet de dix dollars au caissier. Combien de monnaie doit-il récupérer ?



3) Monica a dépensé \$7,50 pour un billet de cinéma. Elle a donné un billet de vingt dollars à la caissière. Combien de monnaie doit-elle récupérer ?






Résoudre chaque problème.

Réponses

1) Laura a acheté un nouveau jeu de société pour \$2,06. Elle a donné un billet de vingt dollars à la caissière. Combien de monnaie doit-elle récupérer ?



2) Au salon du livre, Andrea a dépensé \$4,57 pour acheter des livres. Il a donné un billet de dix dollars au caissier. Combien de monnaie doit-il récupérer ?



3) Monica a dépensé \$7,50 pour un billet de cinéma. Elle a donné un billet de vingt dollars à la caissière. Combien de monnaie doit-elle récupérer ?



1. **A**
 2. **A**
 3. **B**



Résoudre chaque problème.

Réponses

1) Luigi a dépensé \$16,71 en bonbons au centre commercial. Il a donné un billet de vingt dollars au caissier. Combien de monnaie doit-il récupérer ?



2) Franco a acheté pour \$8,64 valeurs de produits d'épicerie. Il a donné un billet de dix dollars au caissier. Combien de monnaie doit-il récupérer ?



3) Angelo a dépensé \$7,33 pour acheter de nouveaux jouets. Il les a achetés avec un billet de vingt dollars. Combien de monnaie doit-il récupérer ?



1. _____

2. _____

3. _____



Résoudre chaque problème.

Réponses

1) Luigi a dépensé \$16,71 en bonbons au centre commercial. Il a donné un billet de vingt dollars au caissier. Combien de monnaie doit-il récupérer ?



- 1. **A**
- 2. **C**
- 3. **A**

2) Franco a acheté pour \$8,64 valeurs de produits d'épicerie. Il a donné un billet de dix dollars au caissier. Combien de monnaie doit-il récupérer ?



3) Angelo a dépensé \$7,33 pour acheter de nouveaux jouets. Il les a achetés avec un billet de vingt dollars. Combien de monnaie doit-il récupérer ?

