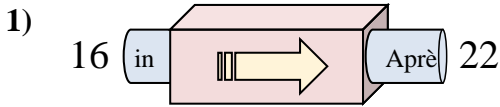
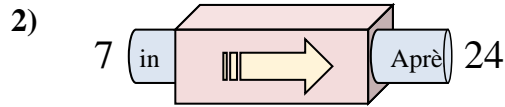




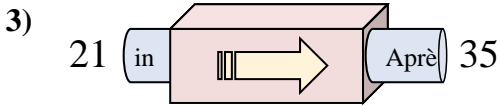
Déterminez la règle appliquée à chaque machine à fonctions.

**Réponses**

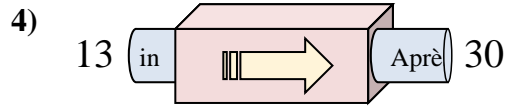
- A. Ajouter 11
- B. Ajouter 7
- C. Ajouter 6
- D. Ajouter 5



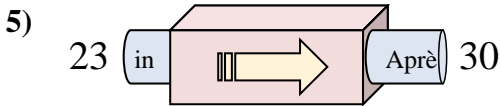
- A. Ajouter 17
- B. Ajouter 18
- C. Soustraire 14
- D. Soustraire 18



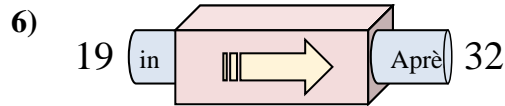
- A. Soustraire 11
- B. Ajouter 18
- C. Ajouter 14
- D. Soustraire 15



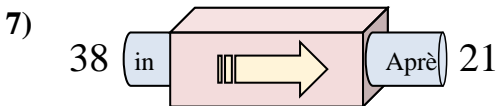
- A. Ajouter 18
- B. Ajouter 21
- C. Ajouter 17
- D. Soustraire 19



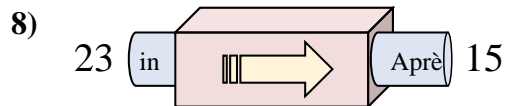
- A. Soustraire 11
- B. Ajouter 7
- C. Soustraire 3
- D. Ajouter 4



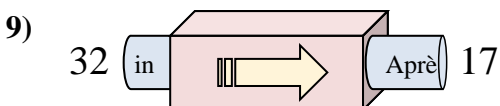
- A. Soustraire 13
- B. Ajouter 13
- C. Ajouter 17
- D. Soustraire 8



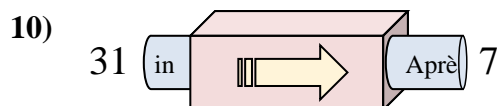
- A. Soustraire 18
- B. Soustraire 17
- C. Ajouter 13
- D. Soustraire 14



- A. Soustraire 9
- B. Soustraire 11
- C. Soustraire 8
- D. Ajouter 9



- A. Soustraire 11
- B. Soustraire 15
- C. Ajouter 10
- D. Soustraire 20

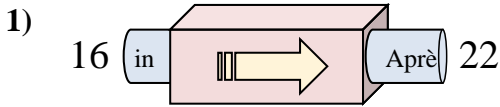


- A. Soustraire 19
- B. Soustraire 25
- C. Soustraire 24
- D. Ajouter 22

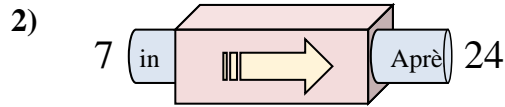
1. \_\_\_\_\_
2. \_\_\_\_\_
3. \_\_\_\_\_
4. \_\_\_\_\_
5. \_\_\_\_\_
6. \_\_\_\_\_
7. \_\_\_\_\_
8. \_\_\_\_\_
9. \_\_\_\_\_
10. \_\_\_\_\_



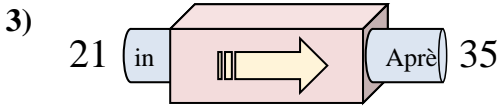
Déterminez la règle appliquée à chaque machine à fonctions.

**Réponses**

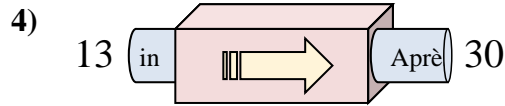
- A. Ajouter 11
- B. Ajouter 7
- C. Ajouter 6
- D. Ajouter 5



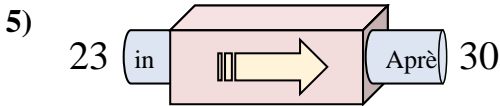
- A. Ajouter 17
- B. Ajouter 18
- C. Soustraire 14
- D. Soustraire 18



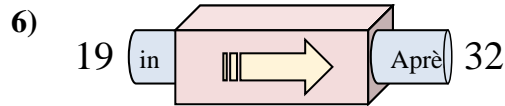
- A. Soustraire 11
- B. Ajouter 18
- C. Ajouter 14
- D. Soustraire 15



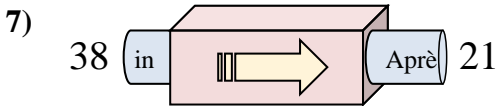
- A. Ajouter 18
- B. Ajouter 21
- C. Ajouter 17
- D. Soustraire 19



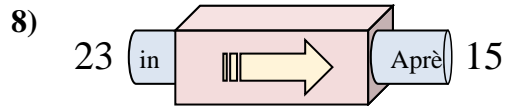
- A. Soustraire 11
- B. Ajouter 7
- C. Soustraire 3
- D. Ajouter 4



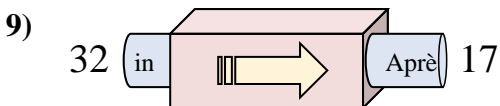
- A. Soustraire 13
- B. Ajouter 13
- C. Ajouter 17
- D. Soustraire 8



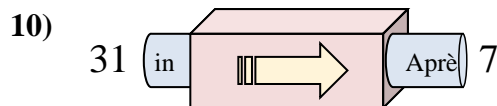
- A. Soustraire 18
- B. Soustraire 17
- C. Ajouter 13
- D. Soustraire 14



- A. Soustraire 9
- B. Soustraire 11
- C. Soustraire 8
- D. Ajouter 9



- A. Soustraire 11
- B. Soustraire 15
- C. Ajouter 10
- D. Soustraire 20



- A. Soustraire 19
- B. Soustraire 25
- C. Soustraire 24
- D. Ajouter 22

1. **C**
2. **A**
3. **C**
4. **C**
5. **B**
6. **B**
7. **B**
8. **C**
9. **B**
10. **C**