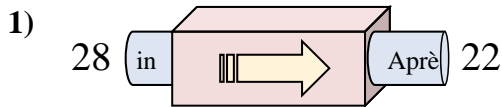
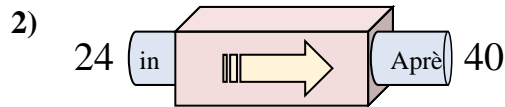




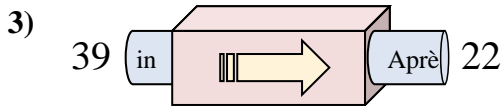
Déterminez la règle appliquée à chaque machine à fonctions.

Réponses

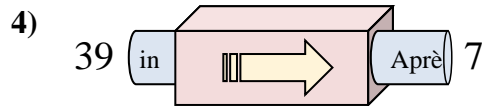
- A. Soustraire 5
- B. Soustraire 11
- C. Soustraire 6
- D. Ajouter 5



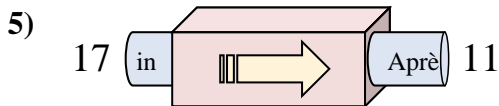
- A. Ajouter 20
- B. Ajouter 17
- C. Soustraire 19
- D. Ajouter 16



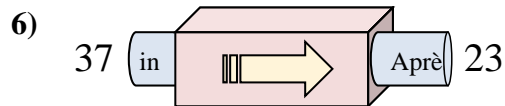
- A. Ajouter 17
- B. Soustraire 17
- C. Soustraire 20
- D. Soustraire 19



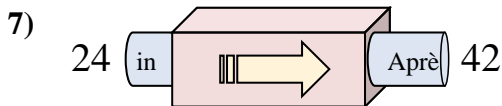
- A. Soustraire 30
- B. Soustraire 35
- C. Soustraire 32
- D. Soustraire 34



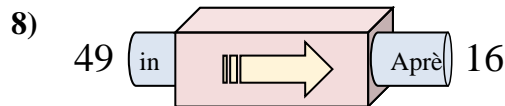
- A. Ajouter 9
- B. Soustraire 8
- C. Soustraire 6
- D. Soustraire 2



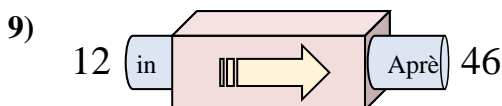
- A. Soustraire 12
- B. Ajouter 10
- C. Soustraire 14
- D. Soustraire 15



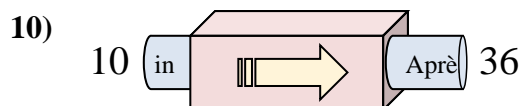
- A. Ajouter 18
- B. Ajouter 15
- C. Ajouter 22
- D. Ajouter 14



- A. Soustraire 33
- B. Soustraire 32
- C. Ajouter 32
- D. Ajouter 30



- A. Ajouter 37
- B. Ajouter 32
- C. Ajouter 34
- D. Ajouter 38

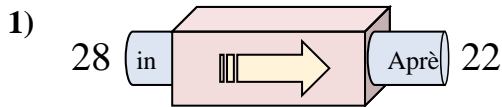


- A. Ajouter 29
- B. Ajouter 26
- C. Soustraire 29
- D. Ajouter 30

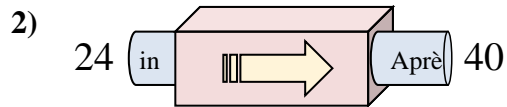
1. _____
2. _____
3. _____
4. _____
5. _____
6. _____
7. _____
8. _____
9. _____
10. _____



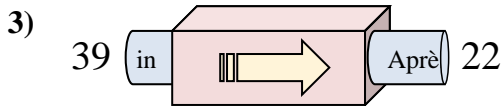
Déterminez la règle appliquée à chaque machine à fonctions.

Réponses

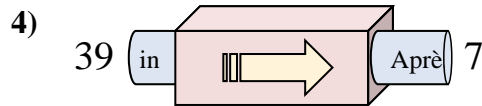
- A. Soustraire 5
- B. Soustraire 11
- C. Soustraire 6
- D. Ajouter 5



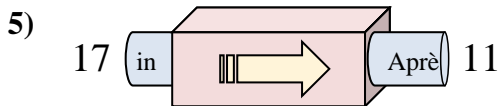
- A. Ajouter 20
- B. Ajouter 17
- C. Soustraire 19
- D. Ajouter 16



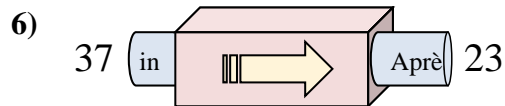
- A. Ajouter 17
- B. Soustraire 17
- C. Soustraire 20
- D. Soustraire 19



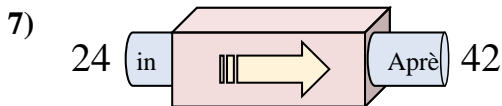
- A. Soustraire 30
- B. Soustraire 35
- C. Soustraire 32
- D. Soustraire 34



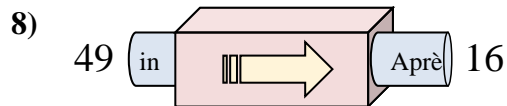
- A. Ajouter 9
- B. Soustraire 8
- C. Soustraire 6
- D. Soustraire 2



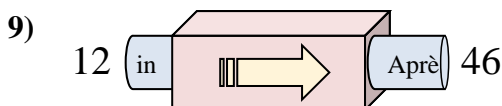
- A. Soustraire 12
- B. Ajouter 10
- C. Soustraire 14
- D. Soustraire 15



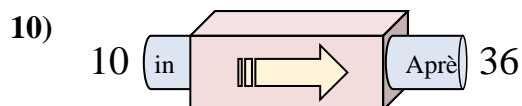
- A. Ajouter 18
- B. Ajouter 15
- C. Ajouter 22
- D. Ajouter 14



- A. Soustraire 33
- B. Soustraire 32
- C. Ajouter 32
- D. Ajouter 30



- A. Ajouter 37
- B. Ajouter 32
- C. Ajouter 34
- D. Ajouter 38



- A. Ajouter 29
- B. Ajouter 26
- C. Soustraire 29
- D. Ajouter 30

1. **C**2. **D**3. **B**4. **C**5. **C**6. **C**7. **A**8. **A**9. **C**10. **B**