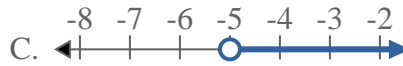
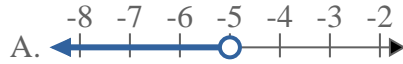
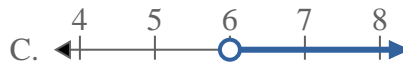
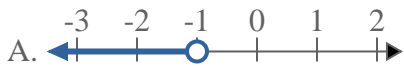
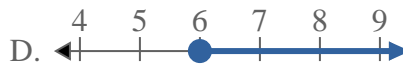
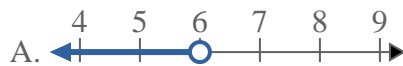
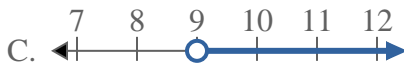
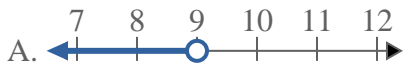
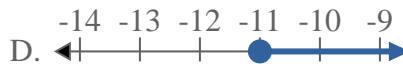
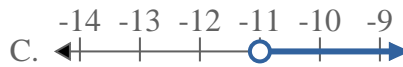




Résoudre chaque problème.

Réponses1) Quelle réponse représente le mieux $X < 20$ 2) Quelle réponse représente le mieux $X \geq -5$ 3) Quelle réponse représente le mieux $X \leq -8$ 4) Quelle réponse représente le mieux $X \geq 6$ 5) Quelle réponse représente le mieux $X > -1$ 6) Quelle réponse représente le mieux $X \leq 6$ 7) Quelle réponse représente le mieux $X < 9$ 8) Quelle réponse représente le mieux $X \leq -11$ 

1. _____

2. _____

3. _____

4. _____

5. _____

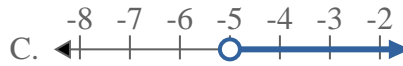
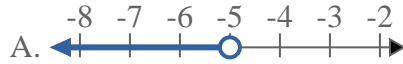
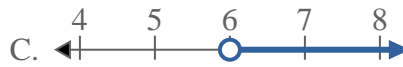
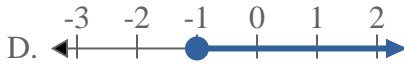
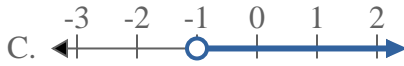
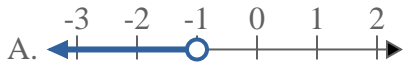
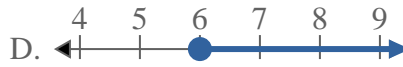
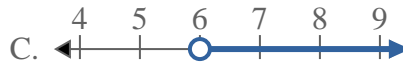
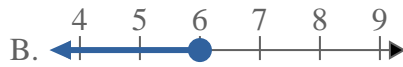
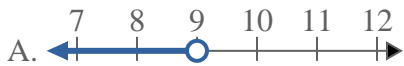
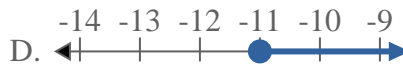
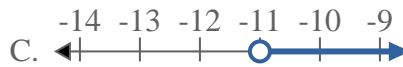
6. _____

7. _____

8. _____



Résoudre chaque problème.

Réponses1) Quelle réponse représente le mieux $X < 20$ 2) Quelle réponse représente le mieux $X \geq -5$ 3) Quelle réponse représente le mieux $X \leq -8$ 4) Quelle réponse représente le mieux $X \geq 6$ 5) Quelle réponse représente le mieux $X > -1$ 6) Quelle réponse représente le mieux $X \leq 6$ 7) Quelle réponse représente le mieux $X < 9$ 8) Quelle réponse représente le mieux $X \leq -11$ 1. **A**2. **D**3. **B**4. **D**5. **C**6. **B**7. **A**8. **B**