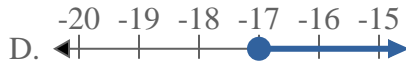
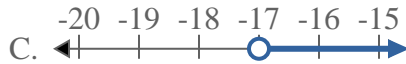
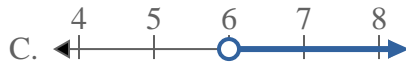
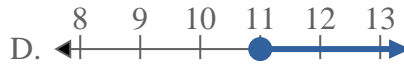
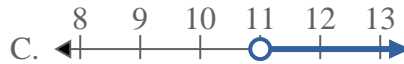
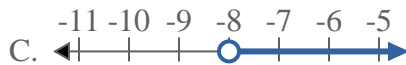
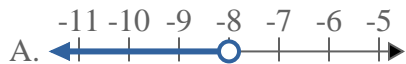
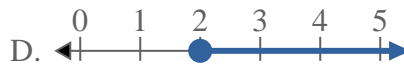
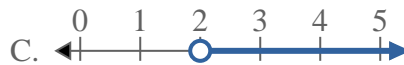
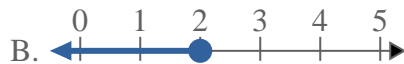
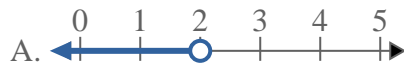




Résoudre chaque problème.

Réponses1) Quelle réponse représente le mieux $X < -17$ 2) Quelle réponse représente le mieux $X \leq 20$ 3) Quelle réponse représente le mieux $X \geq 12$ 4) Quelle réponse représente le mieux $X \geq -17$ 5) Quelle réponse représente le mieux $X \geq 6$ 6) Quelle réponse représente le mieux $X \leq 11$ 7) Quelle réponse représente le mieux $X \leq -8$ 8) Quelle réponse représente le mieux $X > 2$ 

1. _____

2. _____

3. _____

4. _____

5. _____

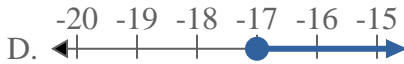
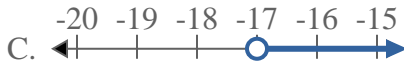
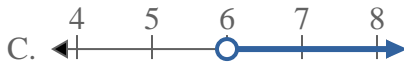
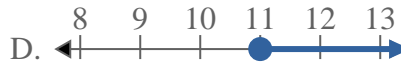
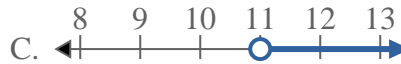
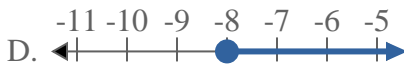
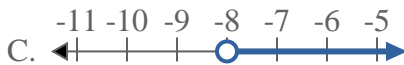
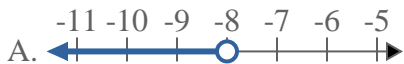
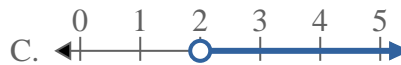
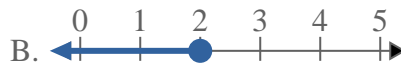
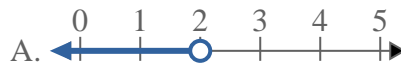
6. _____

7. _____

8. _____



Résoudre chaque problème.

Réponses1) Quelle réponse représente le mieux $X < -17$ 2) Quelle réponse représente le mieux $X \leq 20$ 3) Quelle réponse représente le mieux $X \geq 12$ 4) Quelle réponse représente le mieux $X \geq -17$ 5) Quelle réponse représente le mieux $X \geq 6$ 6) Quelle réponse représente le mieux $X \leq 11$ 7) Quelle réponse représente le mieux $X \leq -8$ 8) Quelle réponse représente le mieux $X > 2$ 1. **A**2. **B**3. **D**4. **D**5. **D**6. **B**7. **B**8. **C**