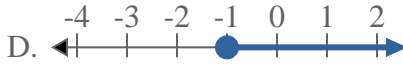
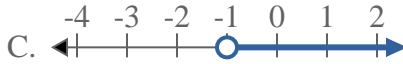
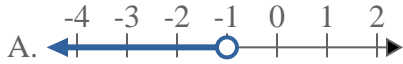
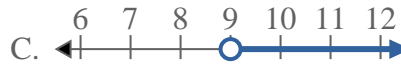
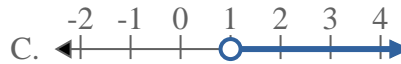
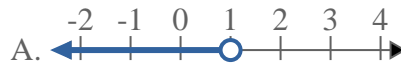
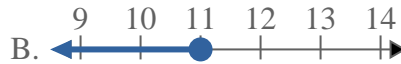
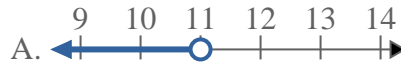




Résoudre chaque problème.

Réponses1) Quelle réponse représente le mieux $X \geq -1$ 2) Quelle réponse représente le mieux $X \leq 7$ 3) Quelle réponse représente le mieux $X > 14$ 4) Quelle réponse représente le mieux $X > 9$ 5) Quelle réponse représente le mieux $X < -14$ 6) Quelle réponse représente le mieux $X \geq 1$ 7) Quelle réponse représente le mieux $X \leq 16$ 8) Quelle réponse représente le mieux $X \leq 11$ 

1. _____

2. _____

3. _____

4. _____

5. _____

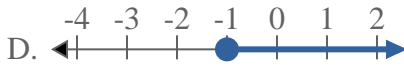
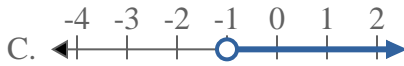
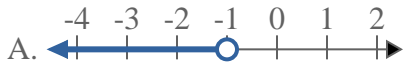
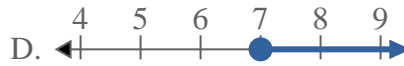
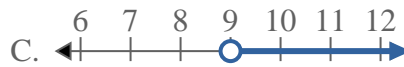
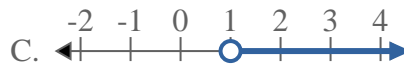
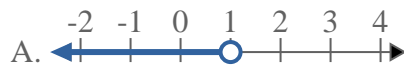
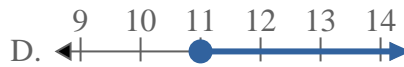
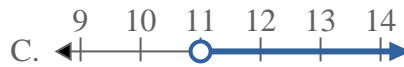
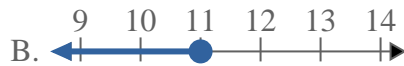
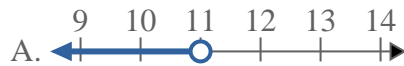
6. _____

7. _____

8. _____



Résoudre chaque problème.

Réponses1) Quelle réponse représente le mieux $X \geq -1$ 2) Quelle réponse représente le mieux $X \leq 7$ 3) Quelle réponse représente le mieux $X > 14$ 4) Quelle réponse représente le mieux $X > 9$ 5) Quelle réponse représente le mieux $X < -14$ 6) Quelle réponse représente le mieux $X \geq 1$ 7) Quelle réponse représente le mieux $X \leq 16$ 8) Quelle réponse représente le mieux $X \leq 11$ 1. **D**2. **B**3. **C**4. **C**5. **A**6. **D**7. **B**8. **B**