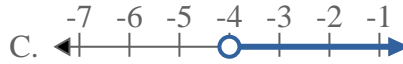
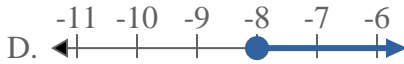
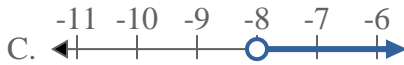
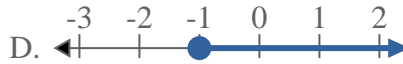
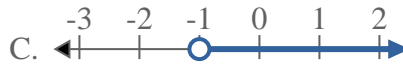
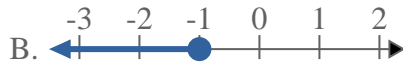
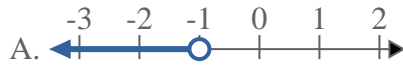
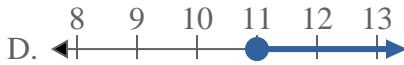
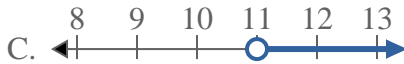
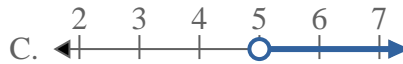
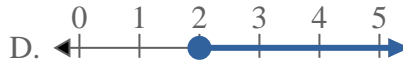
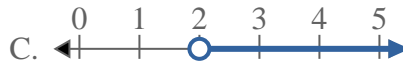
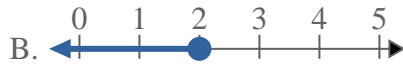
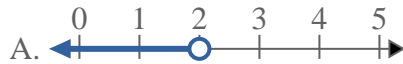




Résoudre chaque problème.

Réponses1) Quelle réponse représente le mieux $X < -5$ 2) Quelle réponse représente le mieux $X < -4$ 3) Quelle réponse représente le mieux $X < -8$ 4) Quelle réponse représente le mieux $X < -1$ 5) Quelle réponse représente le mieux $X \geq 11$ 6) Quelle réponse représente le mieux $X \geq 5$ 7) Quelle réponse représente le mieux $X \geq 13$ 8) Quelle réponse représente le mieux $X < 2$ 

1. _____

2. _____

3. _____

4. _____

5. _____

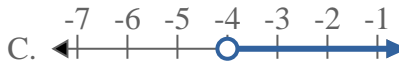
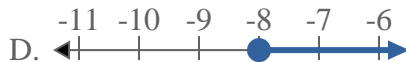
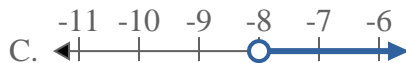
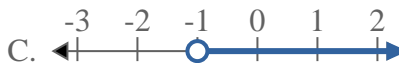
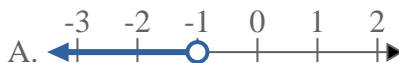
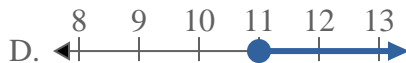
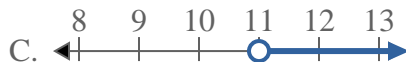
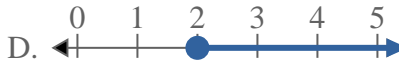
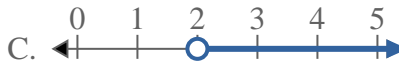
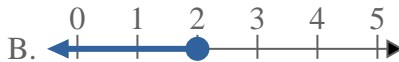
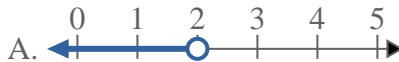
6. _____

7. _____

8. _____

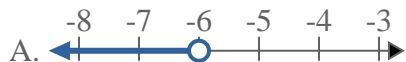
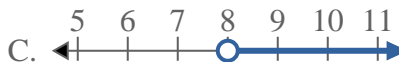
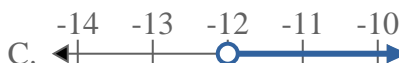
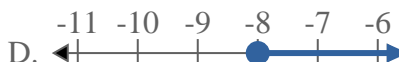
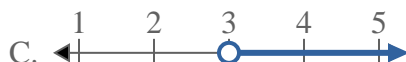
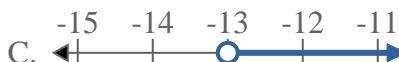


Résoudre chaque problème.

Réponses1) Quelle réponse représente le mieux $X < -5$ 2) Quelle réponse représente le mieux $X < -4$ 3) Quelle réponse représente le mieux $X < -8$ 4) Quelle réponse représente le mieux $X < -1$ 5) Quelle réponse représente le mieux $X \geq 11$ 6) Quelle réponse représente le mieux $X \geq 5$ 7) Quelle réponse représente le mieux $X \geq 13$ 8) Quelle réponse représente le mieux $X < 2$ 1. **A** 2. **A** 3. **A** 4. **A** 5. **D** 6. **D** 7. **D** 8. **A**



Résoudre chaque problème.

Réponses1) Quelle réponse représente le mieux $X < -6$ 2) Quelle réponse représente le mieux $X < 8$ 3) Quelle réponse représente le mieux $X \leq 5$ 4) Quelle réponse représente le mieux $X \geq -12$ 5) Quelle réponse représente le mieux $X \geq -18$ 6) Quelle réponse représente le mieux $X \geq -8$ 7) Quelle réponse représente le mieux $X < 3$ 8) Quelle réponse représente le mieux $X < -13$ 

1. _____

2. _____

3. _____

4. _____

5. _____

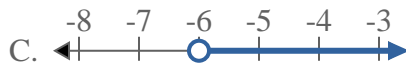
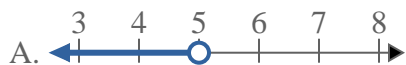
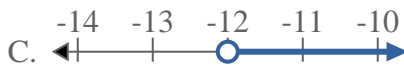
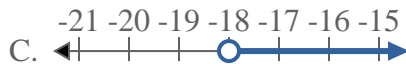
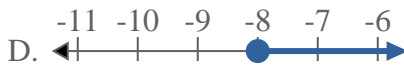
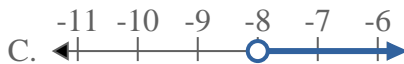
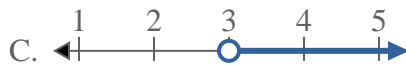
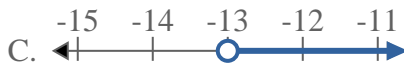
6. _____

7. _____

8. _____

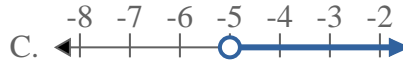
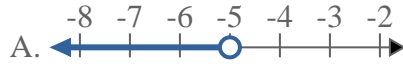
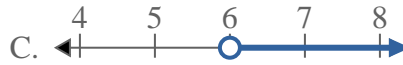
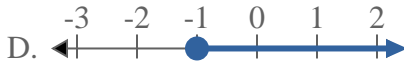
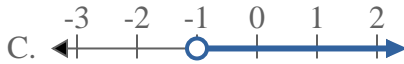
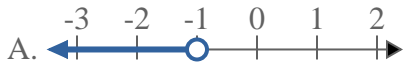
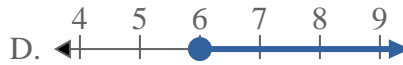
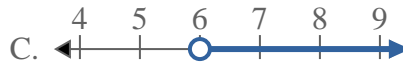
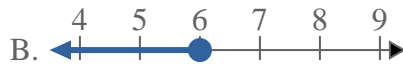
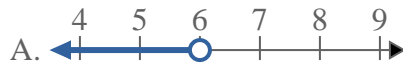
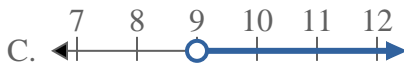
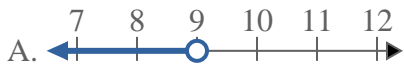
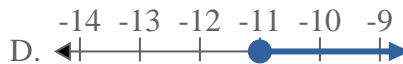
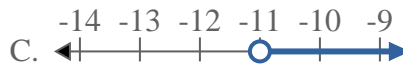


Résoudre chaque problème.

Réponses1) Quelle réponse représente le mieux $X < -6$ 2) Quelle réponse représente le mieux $X < 8$ 3) Quelle réponse représente le mieux $X \leq 5$ 4) Quelle réponse représente le mieux $X \geq -12$ 5) Quelle réponse représente le mieux $X \geq -18$ 6) Quelle réponse représente le mieux $X \geq -8$ 7) Quelle réponse représente le mieux $X < 3$ 8) Quelle réponse représente le mieux $X < -13$ 1. **A**2. **A**3. **B**4. **D**5. **D**6. **D**7. **A**8. **A**



Résoudre chaque problème.

Réponses1) Quelle réponse représente le mieux $X < 20$ 2) Quelle réponse représente le mieux $X \geq -5$ 3) Quelle réponse représente le mieux $X \leq -8$ 4) Quelle réponse représente le mieux $X \geq 6$ 5) Quelle réponse représente le mieux $X > -1$ 6) Quelle réponse représente le mieux $X \leq 6$ 7) Quelle réponse représente le mieux $X < 9$ 8) Quelle réponse représente le mieux $X \leq -11$ 

1. _____

2. _____

3. _____

4. _____

5. _____

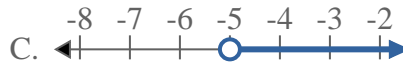
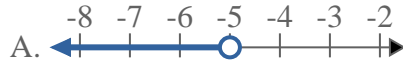
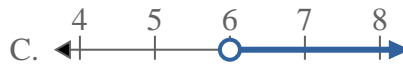
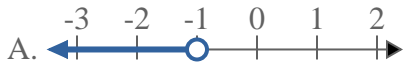
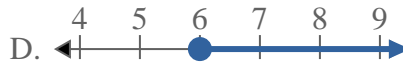
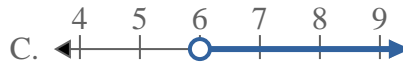
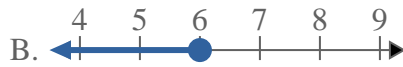
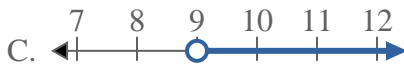
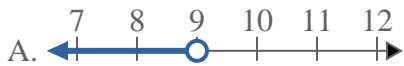
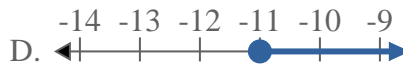
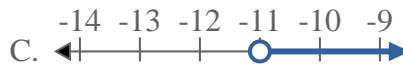
6. _____

7. _____

8. _____

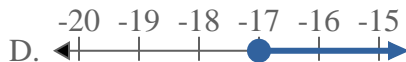
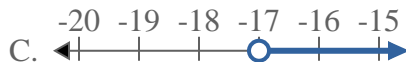

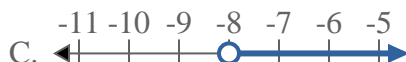
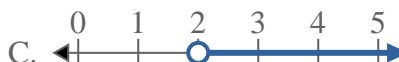
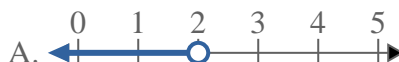


Résoudre chaque problème.

Réponses1) Quelle réponse représente le mieux $X < 20$ 2) Quelle réponse représente le mieux $X \geq -5$ 3) Quelle réponse représente le mieux $X \leq -8$ 4) Quelle réponse représente le mieux $X \geq 6$ 5) Quelle réponse représente le mieux $X > -1$ 6) Quelle réponse représente le mieux $X \leq 6$ 7) Quelle réponse représente le mieux $X < 9$ 8) Quelle réponse représente le mieux $X \leq -11$ 1. **A**2. **D**3. **B**4. **D**5. **C**6. **B**7. **A**8. **B**



Résoudre chaque problème.

Réponses1) Quelle réponse représente le mieux $X < -17$ 2) Quelle réponse représente le mieux $X \leq 20$ 3) Quelle réponse représente le mieux $X \geq 12$ 4) Quelle réponse représente le mieux $X \geq -17$ 5) Quelle réponse représente le mieux $X \geq 6$ 6) Quelle réponse représente le mieux $X \leq 11$ 7) Quelle réponse représente le mieux $X \leq -8$ 8) Quelle réponse représente le mieux $X > 2$ 

1. _____

2. _____

3. _____

4. _____

5. _____

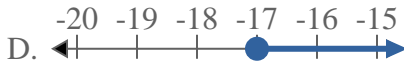
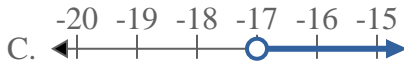
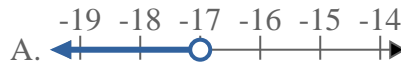
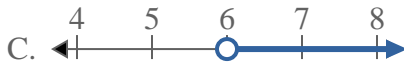
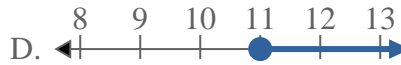
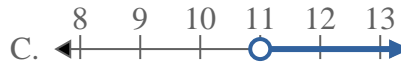
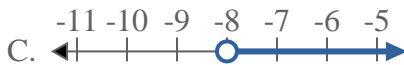
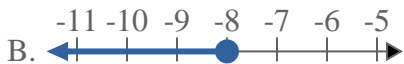
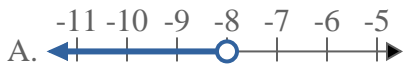
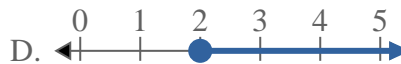
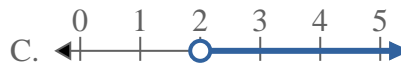
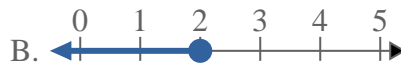
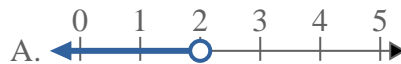
6. _____

7. _____

8. _____

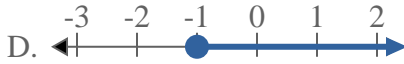
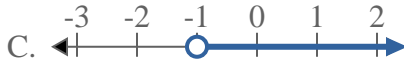
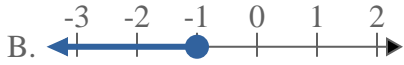
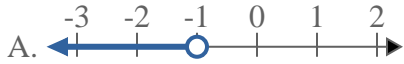
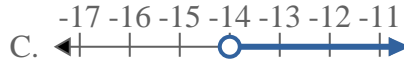
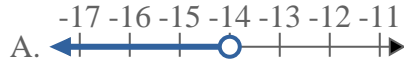
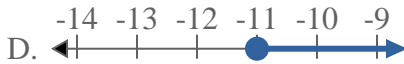
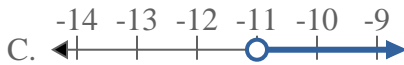
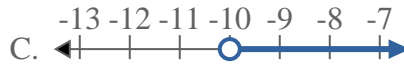
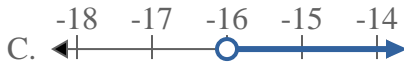
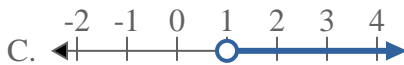
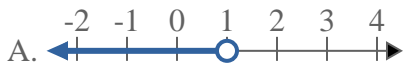
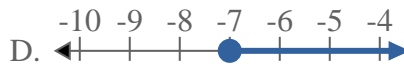
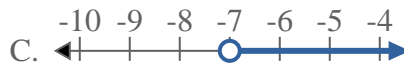
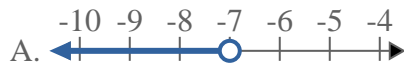


Résoudre chaque problème.

Réponses1) Quelle réponse représente le mieux $X < -17$ 2) Quelle réponse représente le mieux $X \leq 20$ 3) Quelle réponse représente le mieux $X \geq 12$ 4) Quelle réponse représente le mieux $X \geq -17$ 5) Quelle réponse représente le mieux $X \geq 6$ 6) Quelle réponse représente le mieux $X \leq 11$ 7) Quelle réponse représente le mieux $X \leq -8$ 8) Quelle réponse représente le mieux $X > 2$ 1. **A**2. **B**3. **D**4. **D**5. **D**6. **B**7. **B**8. **C**



Résoudre chaque problème.

Réponses1) Quelle réponse représente le mieux $X > -1$ 2) Quelle réponse représente le mieux $X < -14$ 3) Quelle réponse représente le mieux $X \leq -11$ 4) Quelle réponse représente le mieux $X < -10$ 5) Quelle réponse représente le mieux $X \leq -16$ 6) Quelle réponse représente le mieux $X > 17$ 7) Quelle réponse représente le mieux $X > 1$ 8) Quelle réponse représente le mieux $X > -7$ 

1. _____

2. _____

3. _____

4. _____

5. _____

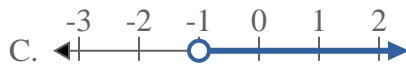
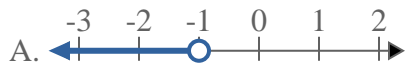
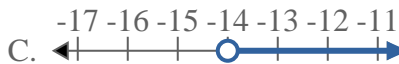
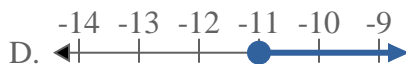
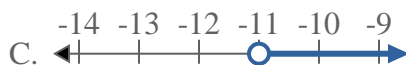
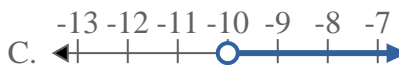
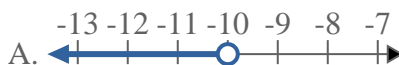
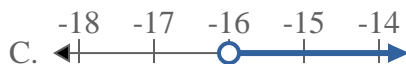
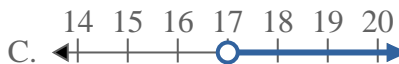
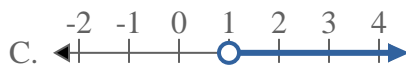
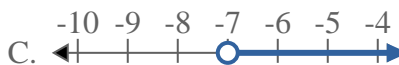
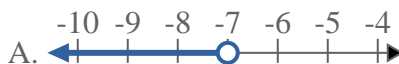
6. _____

7. _____

8. _____

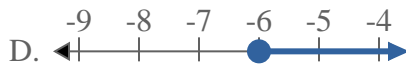
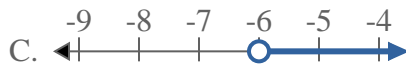
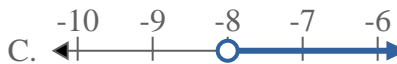
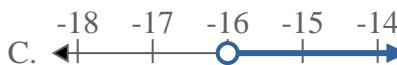
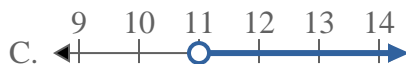
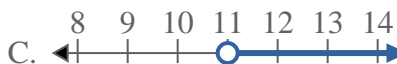
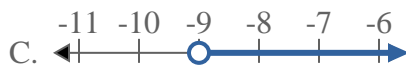
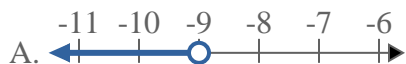
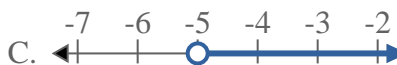


Résoudre chaque problème.

Réponses1) Quelle réponse représente le mieux $X > -1$ 2) Quelle réponse représente le mieux $X < -14$ 3) Quelle réponse représente le mieux $X \leq -11$ 4) Quelle réponse représente le mieux $X < -10$ 5) Quelle réponse représente le mieux $X \leq -16$ 6) Quelle réponse représente le mieux $X > 17$ 7) Quelle réponse représente le mieux $X > 1$ 8) Quelle réponse représente le mieux $X > -7$ 1. **C** 2. **A** 3. **B** 4. **A** 5. **B** 6. **C** 7. **C** 8. **C**



Résoudre chaque problème.

Réponses1) Quelle réponse représente le mieux $X \leq -6$ 2) Quelle réponse représente le mieux $X > -8$ 3) Quelle réponse représente le mieux $X < 13$ 4) Quelle réponse représente le mieux $X < -16$ 5) Quelle réponse représente le mieux $X \leq 11$ 6) Quelle réponse représente le mieux $X \geq 11$ 7) Quelle réponse représente le mieux $X > -9$ 8) Quelle réponse représente le mieux $X \geq -5$ 

1. _____

2. _____

3. _____

4. _____

5. _____

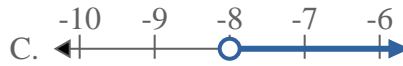
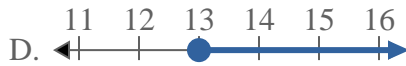
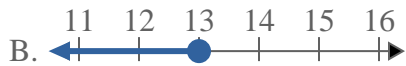
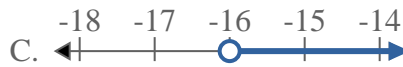
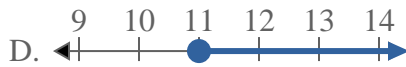
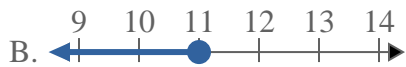
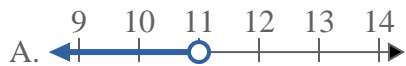
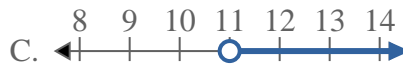
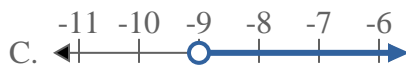
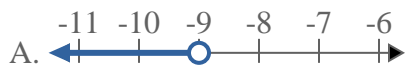
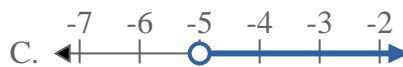
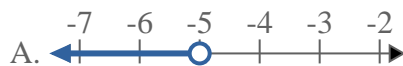
6. _____

7. _____

8. _____

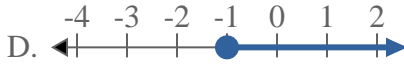
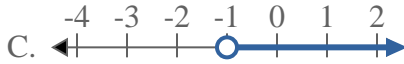
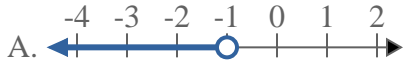
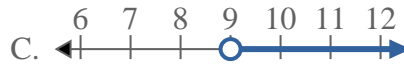
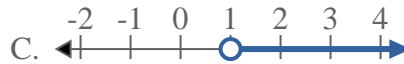
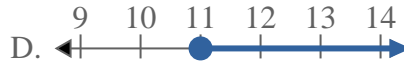
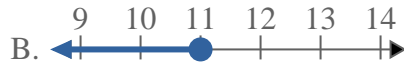


Résoudre chaque problème.

Réponses1) Quelle réponse représente le mieux $X \leq -6$ 2) Quelle réponse représente le mieux $X > -8$ 3) Quelle réponse représente le mieux $X < 13$ 4) Quelle réponse représente le mieux $X < -16$ 5) Quelle réponse représente le mieux $X \leq 11$ 6) Quelle réponse représente le mieux $X \geq 11$ 7) Quelle réponse représente le mieux $X > -9$ 8) Quelle réponse représente le mieux $X \geq -5$ 1. **B**2. **C**3. **A**4. **A**5. **B**6. **D**7. **C**8. **D**



Résoudre chaque problème.

Réponses1) Quelle réponse représente le mieux $X \geq -1$ 2) Quelle réponse représente le mieux $X \leq 7$ 3) Quelle réponse représente le mieux $X > 14$ 4) Quelle réponse représente le mieux $X > 9$ 5) Quelle réponse représente le mieux $X < -14$ 6) Quelle réponse représente le mieux $X \geq 1$ 7) Quelle réponse représente le mieux $X \leq 16$ 8) Quelle réponse représente le mieux $X \leq 11$ 

1. _____

2. _____

3. _____

4. _____

5. _____

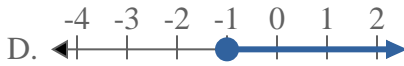
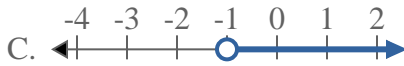
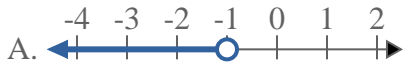
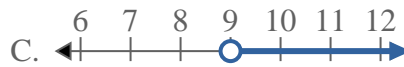
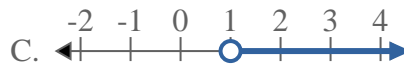
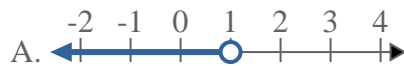
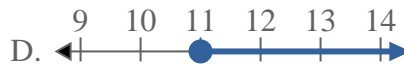
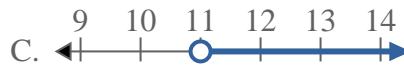
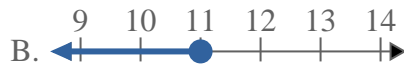
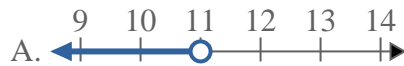
6. _____

7. _____

8. _____

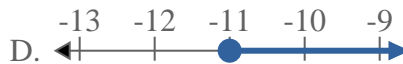
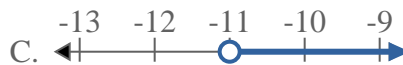
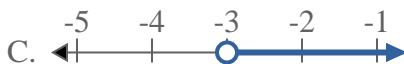
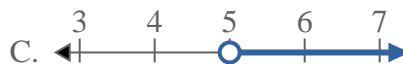
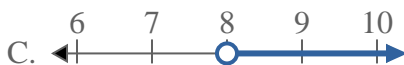
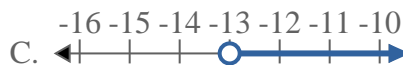


Résoudre chaque problème.

Réponses1) Quelle réponse représente le mieux $X \geq -1$ 2) Quelle réponse représente le mieux $X \leq 7$ 3) Quelle réponse représente le mieux $X > 14$ 4) Quelle réponse représente le mieux $X > 9$ 5) Quelle réponse représente le mieux $X < -14$ 6) Quelle réponse représente le mieux $X \geq 1$ 7) Quelle réponse représente le mieux $X \leq 16$ 8) Quelle réponse représente le mieux $X \leq 11$ 1. **D**2. **B**3. **C**4. **C**5. **A**6. **D**7. **B**8. **B**



Résoudre chaque problème.

Réponses1) Quelle réponse représente le mieux $X > -5$ 2) Quelle réponse représente le mieux $X \geq 12$ 3) Quelle réponse représente le mieux $X \leq 20$ 4) Quelle réponse représente le mieux $X \geq -11$ 5) Quelle réponse représente le mieux $X > -3$ 6) Quelle réponse représente le mieux $X > 5$ 7) Quelle réponse représente le mieux $X \leq 8$ 8) Quelle réponse représente le mieux $X \leq -13$ 

1. _____

2. _____

3. _____

4. _____

5. _____

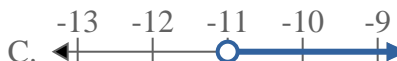
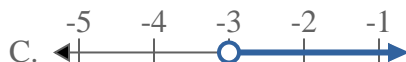
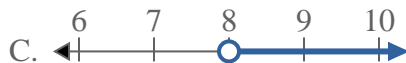
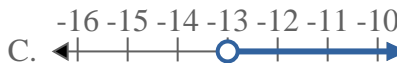
6. _____

7. _____

8. _____

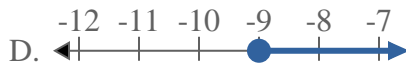
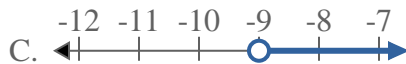
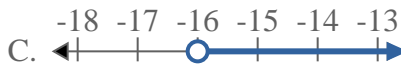
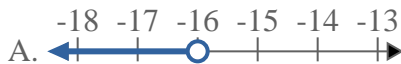
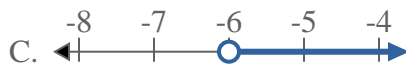
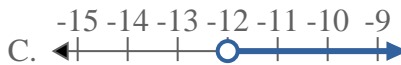
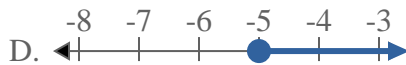
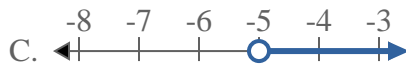
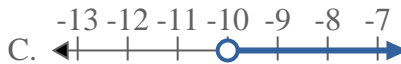
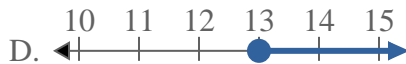
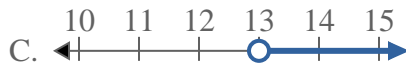
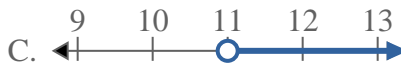


Résoudre chaque problème.

Réponses1) Quelle réponse représente le mieux $X > -5$ 2) Quelle réponse représente le mieux $X \geq 12$ 3) Quelle réponse représente le mieux $X \leq 20$ 4) Quelle réponse représente le mieux $X \geq -11$ 5) Quelle réponse représente le mieux $X > -3$ 6) Quelle réponse représente le mieux $X > 5$ 7) Quelle réponse représente le mieux $X \leq 8$ 8) Quelle réponse représente le mieux $X \leq -13$ 1. **C**2. **D**3. **B**4. **D**5. **C**6. **C**7. **B**8. **B**



Résoudre chaque problème.

Réponses1) Quelle réponse représente le mieux $X < -9$ 2) Quelle réponse représente le mieux $X \leq -16$ 3) Quelle réponse représente le mieux $X \geq -6$ 4) Quelle réponse représente le mieux $X > -12$ 5) Quelle réponse représente le mieux $X \leq -5$ 6) Quelle réponse représente le mieux $X < -10$ 7) Quelle réponse représente le mieux $X > 13$ 8) Quelle réponse représente le mieux $X < 11$ 

1. _____

2. _____

3. _____

4. _____

5. _____

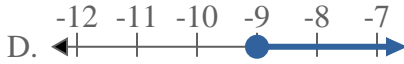
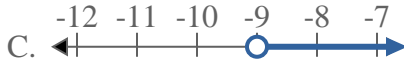
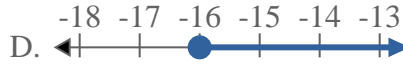
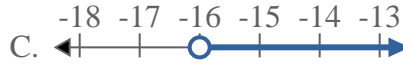
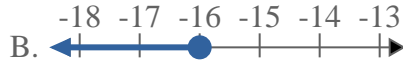
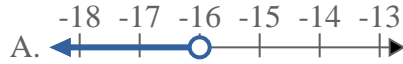
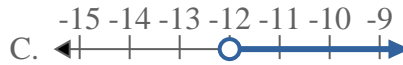
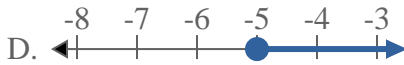
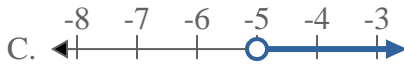
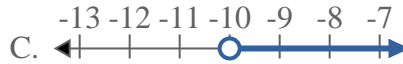
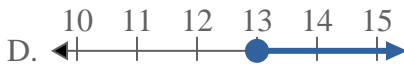
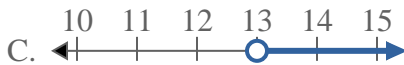
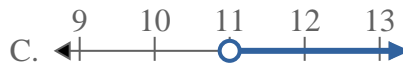
6. _____

7. _____

8. _____

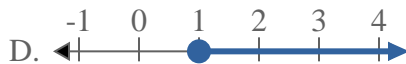
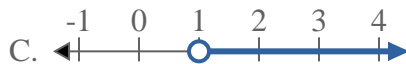
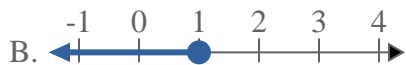
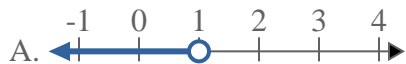
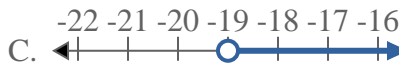
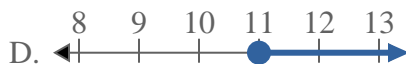
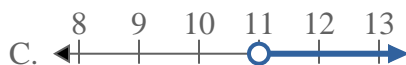
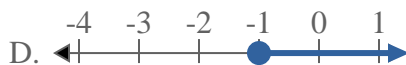
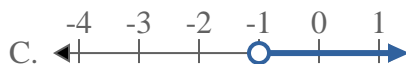
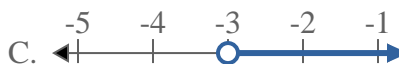
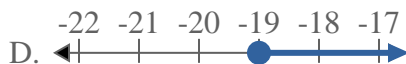
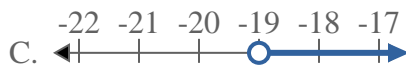
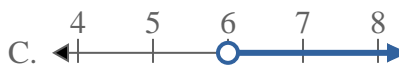


Résoudre chaque problème.

Réponses1) Quelle réponse représente le mieux $X < -9$ 2) Quelle réponse représente le mieux $X \leq -16$ 3) Quelle réponse représente le mieux $X \geq -6$ 4) Quelle réponse représente le mieux $X > -12$ 5) Quelle réponse représente le mieux $X \leq -5$ 6) Quelle réponse représente le mieux $X < -10$ 7) Quelle réponse représente le mieux $X > 13$ 8) Quelle réponse représente le mieux $X < 11$ 1. **A**2. **B**3. **D**4. **C**5. **B**6. **A**7. **C**8. **A**



Résoudre chaque problème.

Réponses1) Quelle réponse représente le mieux $X \leq 1$ 2) Quelle réponse représente le mieux $X < -19$ 3) Quelle réponse représente le mieux $X \geq 11$ 4) Quelle réponse représente le mieux $X \geq -4$ 5) Quelle réponse représente le mieux $X \geq -1$ 6) Quelle réponse représente le mieux $X \leq -3$ 7) Quelle réponse représente le mieux $X > -19$ 8) Quelle réponse représente le mieux $X > 6$ 

1. _____

2. _____

3. _____

4. _____

5. _____

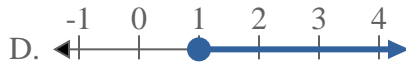
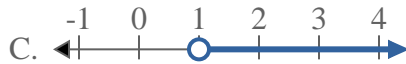
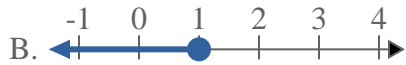
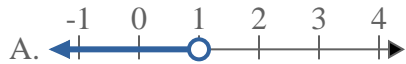
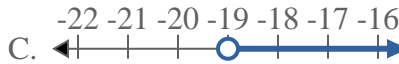
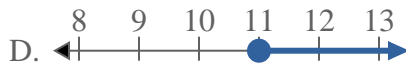
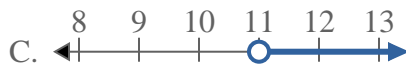
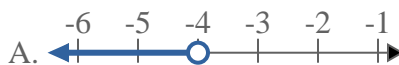
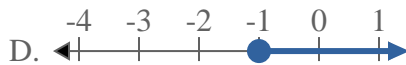
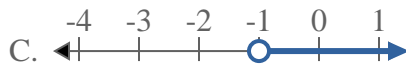
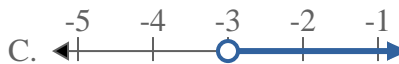
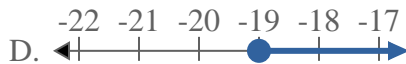
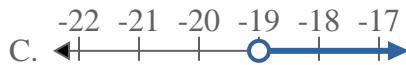
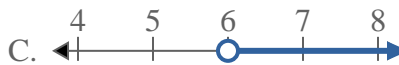
6. _____

7. _____

8. _____



Résoudre chaque problème.

Réponses1) Quelle réponse représente le mieux $X \leq 1$ 2) Quelle réponse représente le mieux $X < -19$ 3) Quelle réponse représente le mieux $X \geq 11$ 4) Quelle réponse représente le mieux $X \geq -4$ 5) Quelle réponse représente le mieux $X \geq -1$ 6) Quelle réponse représente le mieux $X \leq -3$ 7) Quelle réponse représente le mieux $X > -19$ 8) Quelle réponse représente le mieux $X > 6$ 1. **B**2. **A**3. **D**4. **D**5. **D**6. **B**7. **C**8. **C**