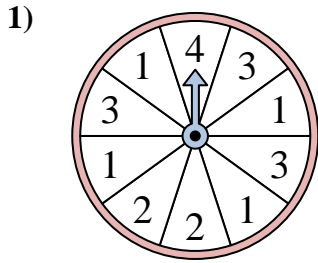


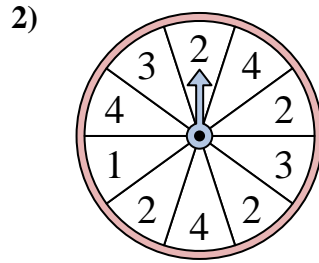


Résoudre chaque problème. Arrondissez votre réponse au dixième près.

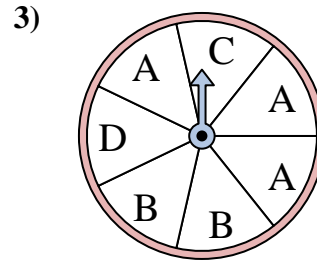
Réponses



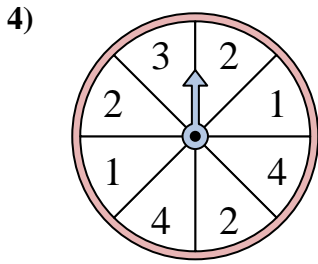
Le spinner a un % de chance {BLANC} d'atterrir sur un 3.



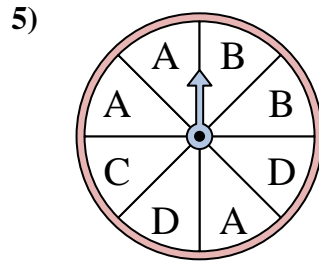
Le spinner a un % de chance {BLANC} d'atterrir sur un 3.



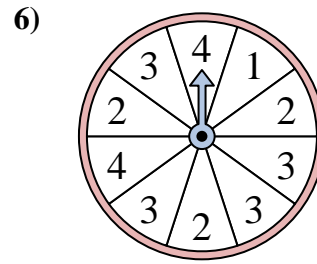
Le spinner a un % de chance {BLANC} d'atterrir sur un A.



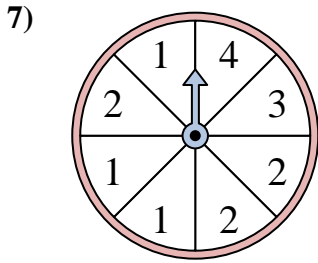
Le spinner a un % de chance {BLANC} d'atterrir sur un 2.



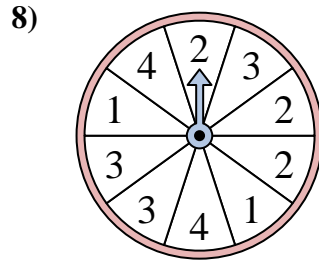
Le spinner a un % de chance {BLANC} d'atterrir sur un C.



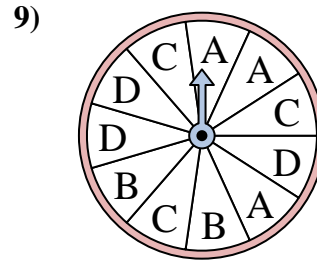
Le spinner a un % de chance {BLANC} d'atterrir sur un 3.



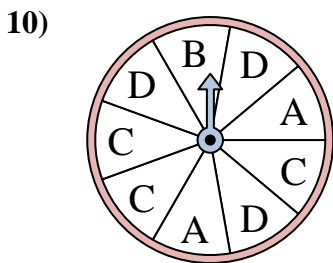
Le spinner a un % de chance {BLANC} d'atterrir sur un 2.



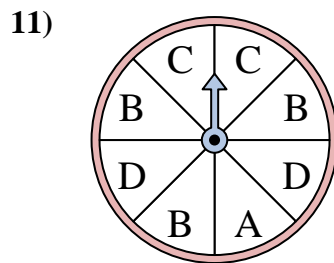
Le spinner a un % de chance {BLANC} d'atterrir sur un 3.



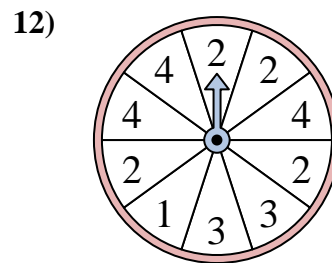
Le spinner a un % de chance {BLANC} d'atterrir sur un C.



Le spinner a un % de chance {BLANC} d'atterrir sur un B.



Le spinner a un % de chance {BLANC} d'atterrir sur un C.

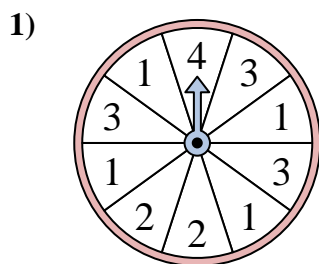


Le spinner a un % de chance {BLANC} d'atterrir sur un 4.

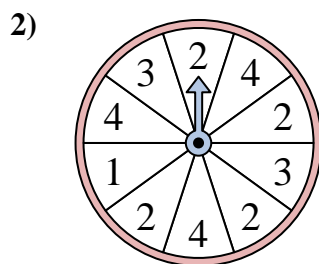
1. _____
2. _____
3. _____
4. _____
5. _____
6. _____
7. _____
8. _____
9. _____
10. _____
11. _____
12. _____



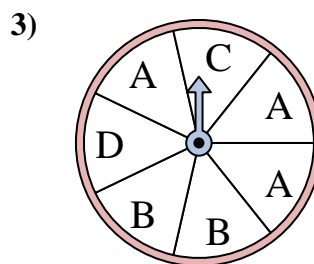
Résoudre chaque problème. Arrondissez votre réponse au dixième près.



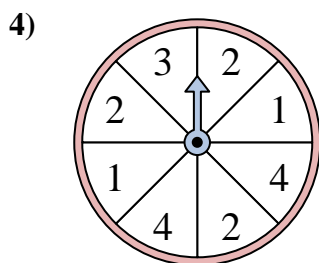
Le spinner a un % de chance {BLANC} d'atterrir sur un 3.



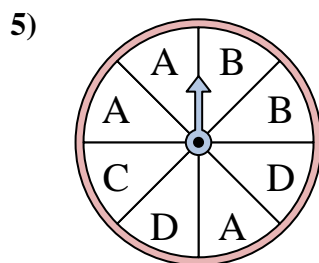
Le spinner a un % de chance {BLANC} d'atterrir sur un 3.



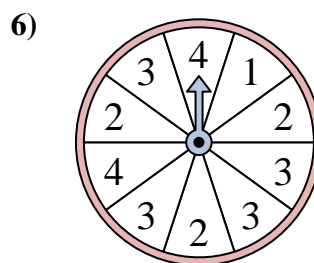
Le spinner a un % de chance {BLANC} d'atterrir sur un A.



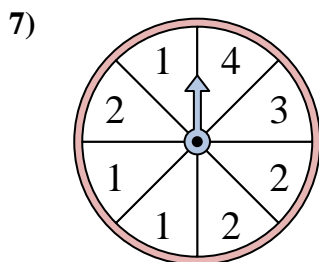
Le spinner a un % de chance {BLANC} d'atterrir sur un 2.



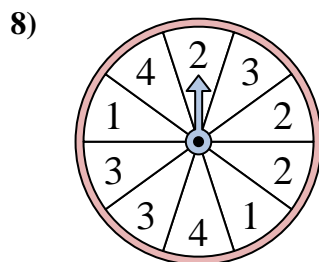
Le spinner a un % de chance {BLANC} d'atterrir sur un C.



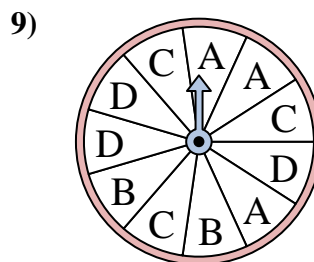
Le spinner a un % de chance {BLANC} d'atterrir sur un 3.



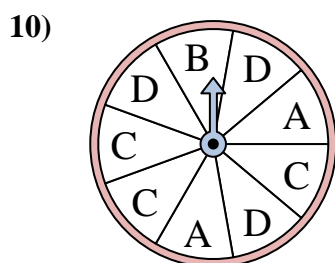
Le spinner a un % de chance {BLANC} d'atterrir sur un 2.



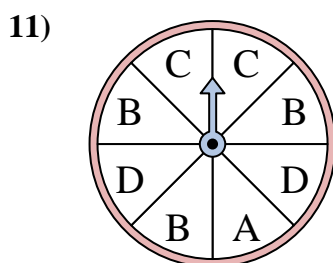
Le spinner a un % de chance {BLANC} d'atterrir sur un 3.



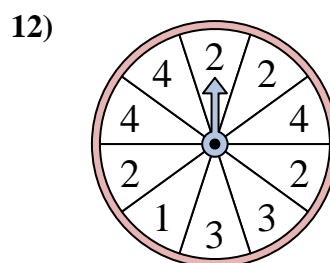
Le spinner a un % de chance {BLANC} d'atterrir sur un C.



Le spinner a un % de chance {BLANC} d'atterrir sur un B.



Le spinner a un % de chance {BLANC} d'atterrir sur un C.



Le spinner a un % de chance {BLANC} d'atterrir sur un 4.

Réponses1. 302. 203. 42,94. 37,55. 12,56. 407. 37,58. 309. 27,310. 11,111. 2512. 30