




Résoudre chaque problème.

Réponses

Ex) Quel est le ration de moons par rapport à étoiles?




1) Quel est le ration de moons par rapport à triangles?




Ex. **5:10**

2) Quel est le ration de hearts par rapport à carrés?




3) Quel est le ration de triangles par rapport à hearts?



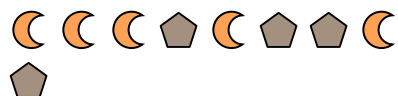
4) Quel est le ration de étoiles par rapport à hearts?



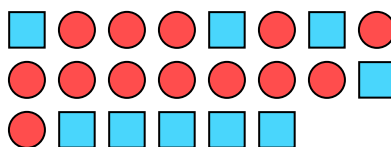
5) Quel est le ration de étoiles par rapport à triangles?



6) Quel est le ration de pentagone par rapport à moons?



7) Quel est le ration de cercles par rapport à carrés?



8) Quel est le ration de étoiles par rapport à pentagone?




9) Quel est le ration de triangles par rapport à étoiles?



10) Quel est le ration de étoiles par rapport à cercles?



11) Quel est le ration de étoiles par rapport à hearts?



- 1. _____
- 2. _____
- 3. _____
- 4. _____
- 5. _____
- 6. _____
- 7. _____
- 8. _____
- 9. _____
- 10. _____
- 11. _____

