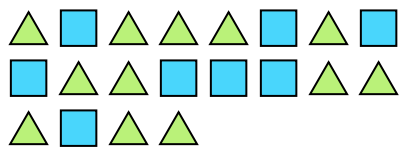





Résoudre chaque problème.

**Réponses**

Ex) Quel est le ration de triangles par rapport à carrés?



1) Quel est le ration de étoiles par rapport à carrés?



Ex. **12:8**

2) Quel est le ration de moons par rapport à étoiles?



3) Quel est le ration de moons par rapport à étoiles?



1. \_\_\_\_\_

2. \_\_\_\_\_

3. \_\_\_\_\_

4. \_\_\_\_\_

5. \_\_\_\_\_

6. \_\_\_\_\_

7. \_\_\_\_\_


8. \_\_\_\_\_

9. \_\_\_\_\_

10. \_\_\_\_\_

11. \_\_\_\_\_

4) Quel est le ration de étoiles par rapport à hearts?



5) Quel est le ration de triangles par rapport à hearts?




6) Quel est le ration de hearts par rapport à moons?



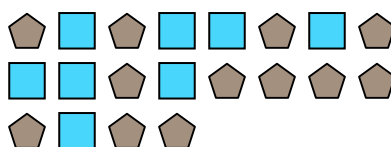
7) Quel est le ration de hearts par rapport à étoiles?



8) Quel est le ration de hearts par rapport à cercles?




9) Quel est le ration de carrés par rapport à pentagone?



10) Quel est le ration de hearts par rapport à pentagone?



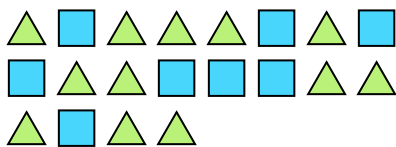
11) Quel est le ration de carrés par rapport à étoiles?






Résoudre chaque problème.

Ex) Quel est le ration de triangles par rapport à carrés?



1) Quel est le ration de étoiles par rapport à carrés?




2) Quel est le ration de moons par rapport à étoiles?



3) Quel est le ration de moons par rapport à étoiles?



4) Quel est le ration de étoiles par rapport à hearts?



5) Quel est le ration de triangles par rapport à hearts?



6) Quel est le ration de hearts par rapport à moons?



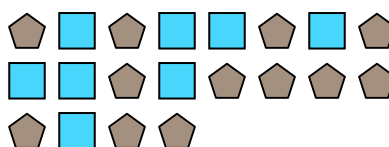
7) Quel est le ration de hearts par rapport à étoiles?



8) Quel est le ration de hearts par rapport à cercles?




9) Quel est le ration de carrés par rapport à pentagone?



10) Quel est le ration de hearts par rapport à pentagone?



11) Quel est le ration de carrés par rapport à étoiles?



**Réponses**

Ex. 12:8

1. 3:9

2. 11:2

3. 10:4

4. 8:11

5. 8:6

6. 2:10

7. 9:13

8. 9:7

9. 8:12

10. 4:2

11. 13:14