



Résoudre chaque problème.

Réponses

Ex) Quel est le ration de triangles par rapport à pentagone?



1) Quel est le ration de étoiles par rapport à moons?




Ex. **4:12**


1. _____

2. _____

2) Quel est le ration de moons par rapport à carrés?



3) Quel est le ration de pentagone par rapport à moons?



3. _____

4. _____

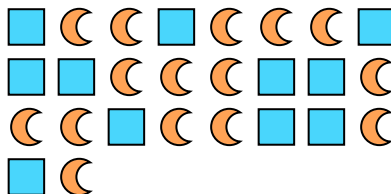
5. _____

6. _____

4) Quel est le ration de étoiles par rapport à pentagone?



5) Quel est le ration de moons par rapport à carrés?



7. _____


8. _____

9. _____

6) Quel est le ration de étoiles par rapport à cercles?




7) Quel est le ration de cercles par rapport à étoiles?



10. _____

11. _____

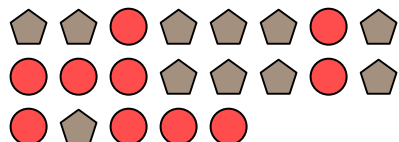
8) Quel est le ration de cercles par rapport à moons?




9) Quel est le ration de pentagone par rapport à étoiles?



10) Quel est le ration de pentagone par rapport à cercles?



11) Quel est le ration de carrés par rapport à hearts?





Résoudre chaque problème.

Ex) Quel est le ration de triangles par rapport à pentagone?




1) Quel est le ration de étoiles par rapport à moons?




Réponses

Ex. 4:12

2) Quel est le ration de moons par rapport à carrés?



3) Quel est le ration de pentagone par rapport à moons?



1. 9:12

2. 2:13

3. 10:13

4. 12:5

5. 15:11

6. 7:9

7. 12:7

8. 8:15

9. 7:4

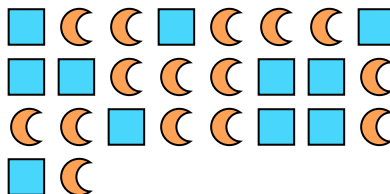
10. 11:10

11. 4:6

4) Quel est le ration de étoiles par rapport à pentagone?




5) Quel est le ration de moons par rapport à carrés?




6) Quel est le ration de étoiles par rapport à cercles?



7) Quel est le ration de cercles par rapport à étoiles?



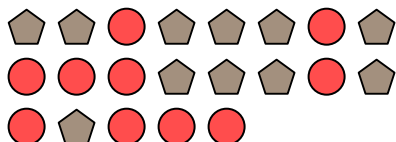
8) Quel est le ration de cercles par rapport à moons?



9) Quel est le ration de pentagone par rapport à étoiles?



10) Quel est le ration de pentagone par rapport à cercles?



11) Quel est le ration de carrés par rapport à hearts?

