



Utilisez la double droite numérique pour résoudre les problèmes.

Réponses

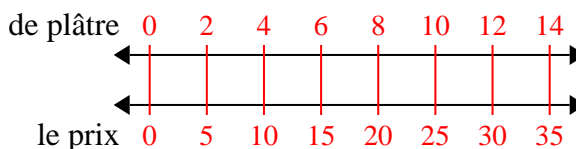
<p>1) Un constructeur pourrait obtenir 2 feuilles de gypse pour 5 \$. S'il avait acheté des feuilles 14, combien d'argent aurait-il dépensé ?</p>	<p>de plâtre ←————→ le prix ←————→</p>	<p>1. _____ 2. _____</p>
<p>2) Une salle de cinéma met 9 tasses d'huile pour chaque 4 lots de pop-corn qu'elle fabrique. Après avoir préparé 36 lots de maïs soufflé, quelle quantité d'huile auraient-ils utilisé ?</p>	<p>Popcorn ←————→ huile ←————→</p>	<p>3. _____ 4. _____</p>
<p>3) Sur son lecteur MP3, pour chaque chanson pop 2, Monica avait aussi une chanson country 3. Si elle a 14 chansons pop sur son lecteur MP3, combien de chansons country a-t-elle ?</p>	<p>pop ←————→ pays ←————→</p>	<p>5. _____ 6. _____ 7. _____</p>
<p>4) Un restaurant sloppy joe a donné 3 serviettes pour chaque 7 articles commandés. Si quelqu'un a acheté 63 articles, combien de serviettes doit-il recevoir ?</p>	<p>Objet ←————→ serviettes ←————→</p>	<p>8. _____</p>
<p>5) Dans un jeu vidéo, pour chaque 2 défaite d'ennemis, vous avez gagné 3 points. Si vous aviez vaincu 8 ennemis, combien de points auriez-vous gagnés ?</p>	<p>ennemis ←————→ points ←————→</p>	
<p>6) Une boîte de bonbons contenait 9 morceaux de cerise pour chaque 6 morceaux de citron. Si la boîte contenait 60 morceaux de citron, combien y aurait-il de morceaux de cerise ?</p>	<p>citron ←————→ cerise ←————→</p>	
<p>7) Une recette demande 9 cuillères à café d'assaisonnement pour chaque 5 lots de poulet. Si vous avez 45 lots de poulet, de combien de cuillères à café d'assaisonnement aurez-vous besoin ?</p>	<p>poulet ←————→ nnement ←————→</p>	
<p>8) Pour chaque 2 canettes Fabio collectées pour le recyclage, il gagnait 5 centimes. Après avoir collecté 20 canettes, combien d'argent aurait-il gagné ?</p>	<p>consERVE ←————→ e l'argent ←————→</p>	



Utilisez la double droite numérique pour résoudre les problèmes.

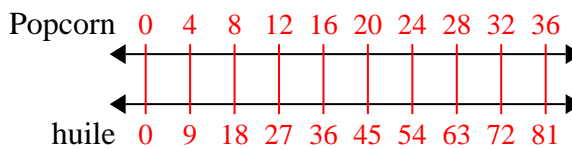
Réponses

- 1) Un constructeur pourrait obtenir 2 feuilles de gypse pour 5 \$. S'il avait acheté des feuilles 14, combien d'argent aurait-il dépensé ?



1. 35

- 2) Une salle de cinéma met 9 tasses d'huile pour chaque 4 lots de pop-corn qu'elle fabrique. Après avoir préparé 36 lots de maïs soufflé, quelle quantité d'huile auraient-ils utilisé ?



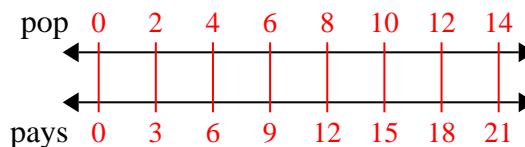
2. 81

3. 21

4. 27

5. 12

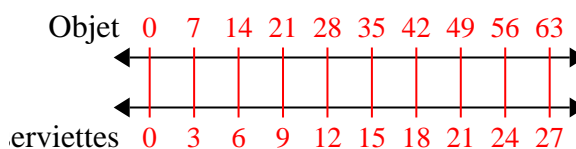
- 3) Sur son lecteur MP3, pour chaque chanson pop 2, Monica avait aussi une chanson country 3. Si elle a 14 chansons pop sur son lecteur MP3, combien de chansons country a-t-elle ?



6. 90

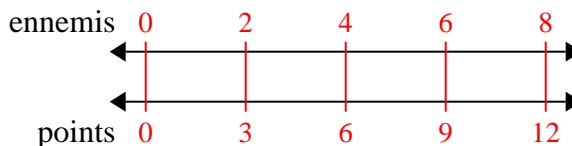
7. 81

- 4) Un restaurant sloppy joe a donné 3 serviettes pour chaque 7 articles commandés. Si quelqu'un a acheté 63 articles, combien de serviettes doit-il recevoir ?

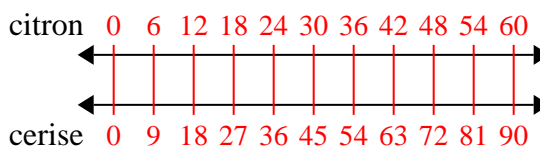


8. 50

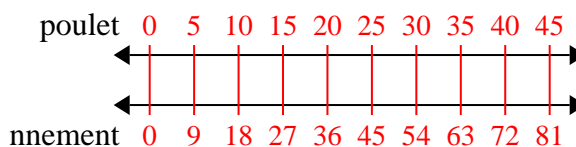
- 5) Dans un jeu vidéo, pour chaque 2 défaite d'ennemis, vous avez gagné 3 points. Si vous aviez vaincu 8 ennemis, combien de points auriez-vous gagnés ?



- 6) Une boîte de bonbons contenait 9 morceaux de cerise pour chaque 6 morceaux de citron. Si la boîte contenait 60 morceaux de citron, combien y aurait-il de morceaux de cerise ?



- 7) Une recette demande 9 cuillères à café d'assaisonnement pour chaque 5 lots de poulet. Si vous avez 45 lots de poulet, de combien de cuillères à café d'assaisonnement aurez-vous besoin ?



- 8) Pour chaque 2 canettes Fabio collectées pour le recyclage, il gagnait 5 centimes. Après avoir collecté 20 canettes, combien d'argent aurait-il gagné ?

