



Avec les droites numériques arrondir chaque nombre à la centaine la plus proche.

Ex)

908



Ex. 900

1)

257



1. _____

2)

8 566



2. _____

3)

18 478



3. _____

4)

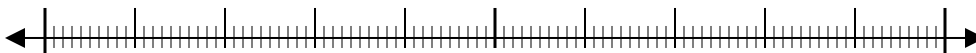
84 766



4. _____

5)

991



5. _____

6)

76 319



6. _____

7)

759



7. _____

8)

4 490



8. _____

9)

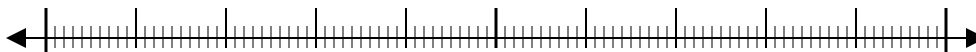
70 699



9. _____

10)

1 399

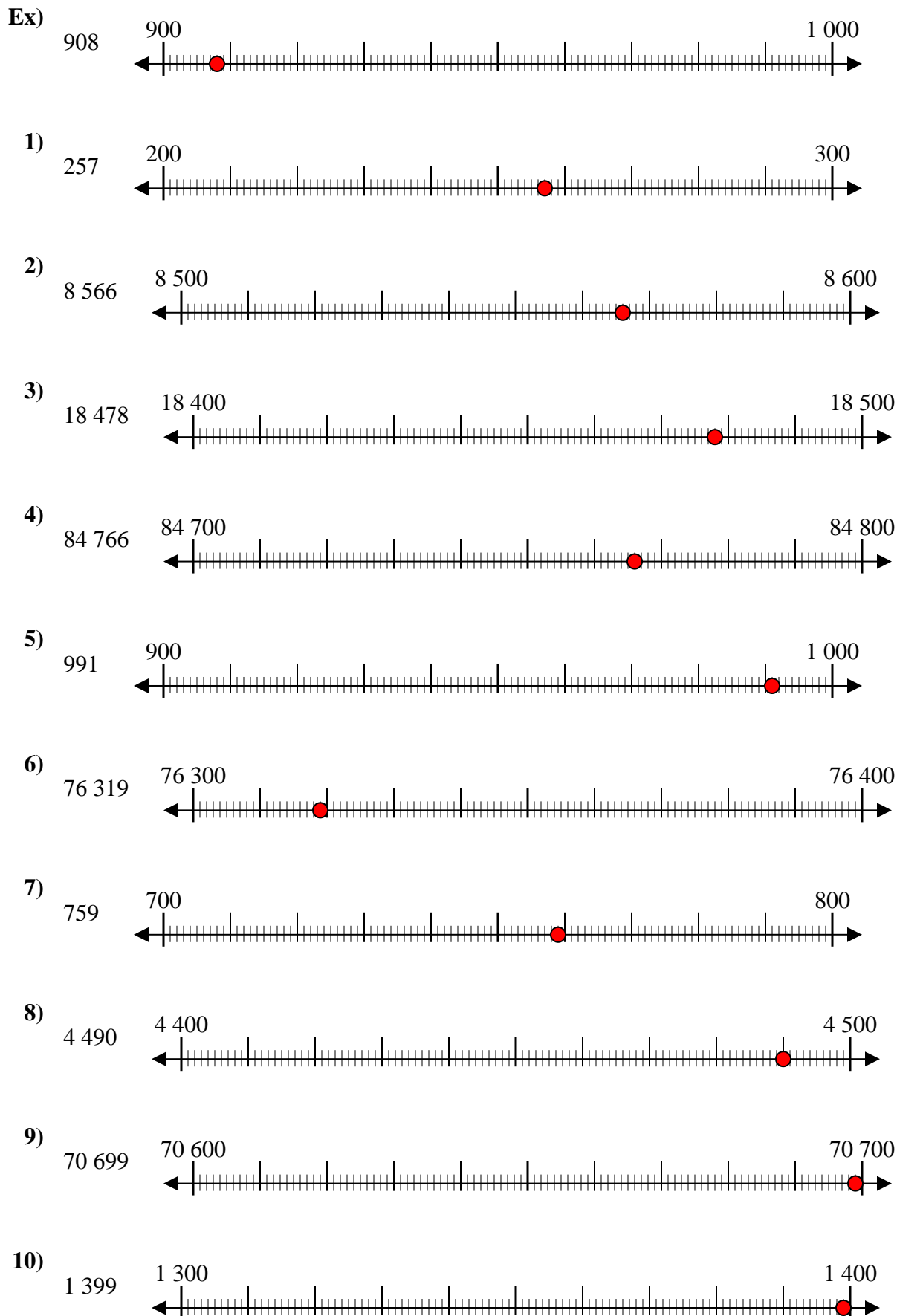


10. _____

Réponses



Avec les droites numériques arrondir chaque nombre à la centaine la plus proche.



Réponses

- Ex. 900
1. 300
2. 8 600
3. 18 500
4. 84 800
5. 1 000
6. 76 300
7. 800
8. 4 500
9. 70 700
10. 1 400