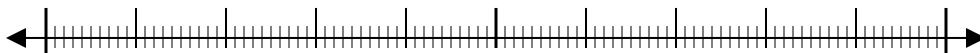




Avec les droites numériques arrondir chaque nombre à la centaine la plus proche.

Ex)

22 128



Ex. 22 100

1)

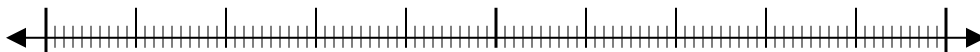
7 798



1. _____

2)

73 791



2. _____

3)

48 807



3. _____

4)

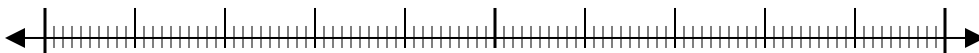
1 381



4. _____

5)

746



5. _____

6)

140



6. _____

7)

904



7. _____

8)

93 445



8. _____

9)

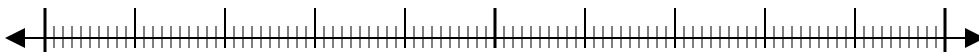
4 176



9. _____

10)

369

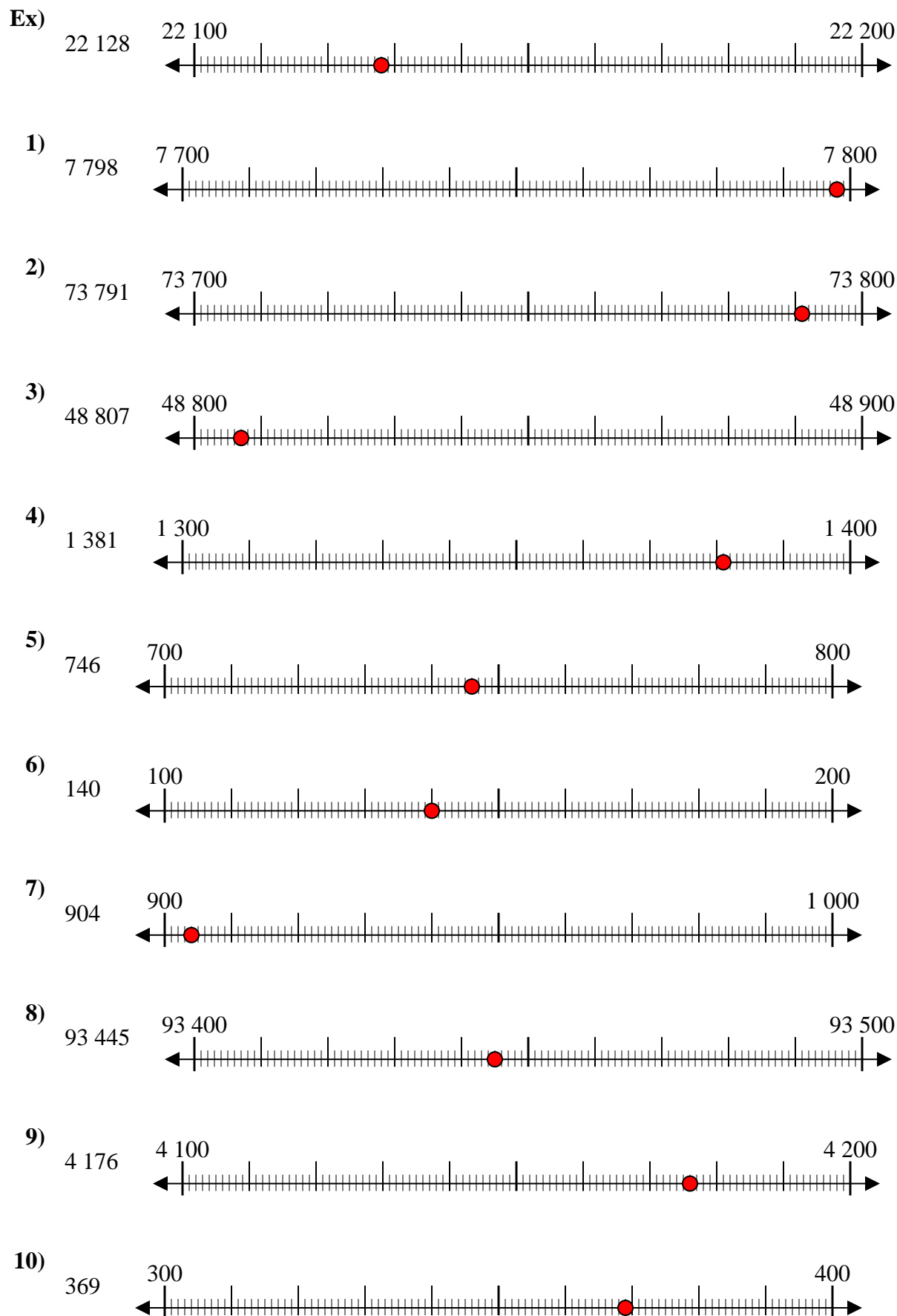


10. _____

Réponses



Avec les droites numériques arrondir chaque nombre à la centaine la plus proche.



Réponses

- Ex. 22 100
1. 7 800
2. 73 800
3. 48 800
4. 1 400
5. 700
6. 100
7. 900
8. 93 400
9. 4 200
10. 400