



Utilisez la méthode visuelle pour résoudre chaque problème.

Réponses

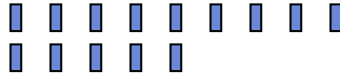
1) Il y a 13 étoiles ci-dessous.



Si vous deviez en retirer 1, combien en restera t-il?

$13 - 1 = ?$

2) Il y a 14 rectangles ci-dessous.



Si vous deviez en retirer 13, combien en restera t-il?

$14 - 13 = ?$

3) Il y a 5 étoiles ci-dessous.



Si vous deviez en retirer 2, combien en restera t-il?

$5 - 2 = ?$

4) Il y a 10 triangles ci-dessous.



Si vous deviez en retirer 3, combien en restera t-il?

$10 - 3 = ?$

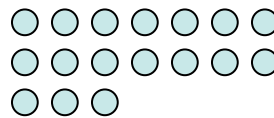
5) Il y a 3 étoiles ci-dessous.



Si vous deviez en retirer 2, combien en restera t-il?

$3 - 2 = ?$

6) Il y a 17 cercles ci-dessous.



Si vous deviez en retirer 4, combien en restera t-il?

$17 - 4 = ?$


7) Il y a 5 pentagone ci-dessous.



Si vous deviez en retirer 4, combien en restera t-il?

$5 - 4 = ?$

8) Il y a 13 cercles ci-dessous.



Si vous deviez en retirer 12, combien en restera t-il?

$13 - 12 = ?$

9) Il y a 2 cercles ci-dessous.



Si vous deviez en retirer 1, combien en restera t-il?

$2 - 1 = ?$

10) Il y a 12 étoiles ci-dessous.



Si vous deviez en retirer 5, combien en restera t-il?

$12 - 5 = ?$

1. _____
2. _____
3. _____
4. _____
5. _____
6. _____
7. _____
8. _____
9. _____
10. _____



Utilisez la méthode visuelle pour résoudre chaque problème.

Réponses

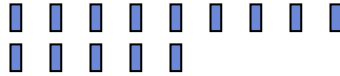
1) Il y a 13 étoiles ci-dessous.



Si vous deviez en retirer 1, combien en restera t-il?

$13 - 1 = ?$

2) Il y a 14 rectangles ci-dessous.



Si vous deviez en retirer 13, combien en restera t-il?

$14 - 13 = ?$

3) Il y a 5 étoiles ci-dessous.



Si vous deviez en retirer 2, combien en restera t-il?

$5 - 2 = ?$

4) Il y a 10 triangles ci-dessous.



Si vous deviez en retirer 3, combien en restera t-il?

$10 - 3 = ?$

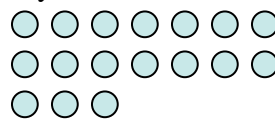
5) Il y a 3 étoiles ci-dessous.



Si vous deviez en retirer 2, combien en restera t-il?

$3 - 2 = ?$

6) Il y a 17 cercles ci-dessous.



Si vous deviez en retirer 4, combien en restera t-il?

$17 - 4 = ?$


7) Il y a 5 pentagone ci-dessous.



Si vous deviez en retirer 4, combien en restera t-il?

$5 - 4 = ?$

8) Il y a 13 cercles ci-dessous.



Si vous deviez en retirer 12, combien en restera t-il?

$13 - 12 = ?$

9) Il y a 2 cercles ci-dessous.



Si vous deviez en retirer 1, combien en restera t-il?

$2 - 1 = ?$

10) Il y a 12 étoiles ci-dessous.



Si vous deviez en retirer 5, combien en restera t-il?

$12 - 5 = ?$

1. 122. 13. 34. 75. 16. 137. 18. 19. 110. 7