



Utilisez la méthode visuelle pour résoudre chaque problème.

Réponses


- 1) Il y a 2 rectangles ci-dessous.



Si vous deviez en retirer 1, combien en restera t-il?

$2 - 1 = ?$

- 2) Il y a 14 cercles ci-dessous.



Si vous deviez en retirer 10, combien en restera t-il?

$14 - 10 = ?$


- 3) Il y a 9 étoiles ci-dessous.



Si vous deviez en retirer 1, combien en restera t-il?

$9 - 1 = ?$

- 4) Il y a 14 carrés ci-dessous.



Si vous deviez en retirer 6, combien en restera t-il?

$14 - 6 = ?$

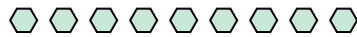
- 5) Il y a 9 pentagone ci-dessous.



Si vous deviez en retirer 7, combien en restera t-il?

$9 - 7 = ?$


- 6) Il y a 9 hexagones ci-dessous.



Si vous deviez en retirer 8, combien en restera t-il?

$9 - 8 = ?$

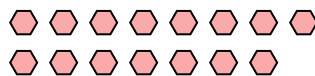
- 7) Il y a 16 cercles ci-dessous.



Si vous deviez en retirer 6, combien en restera t-il?

$16 - 6 = ?$

- 8) Il y a 15 hexagones ci-dessous.



Si vous deviez en retirer 9, combien en restera t-il?

$15 - 9 = ?$

- 9) Il y a 4 hexagones ci-dessous.



Si vous deviez en retirer 3, combien en restera t-il?

$4 - 3 = ?$

- 10) Il y a 8 hexagones ci-dessous.



Si vous deviez en retirer 3, combien en restera t-il?

$8 - 3 = ?$

1. _____

2. _____

3. _____

4. _____

5. _____

6. _____

7. _____

8. _____

9. _____

10. _____



Utilisez la méthode visuelle pour résoudre chaque problème.

Réponses


1) Il y a 2 rectangles ci-dessous.



Si vous deviez en retirer 1, combien en restera t-il?

$2 - 1 = ?$

2) Il y a 14 cercles ci-dessous.



Si vous deviez en retirer 10, combien en restera t-il?

$14 - 10 = ?$

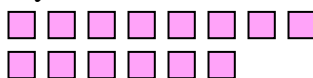
3) Il y a 9 étoiles ci-dessous.



Si vous deviez en retirer 1, combien en restera t-il?

$9 - 1 = ?$

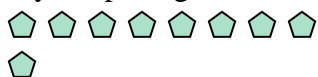
4) Il y a 14 carrés ci-dessous.



Si vous deviez en retirer 6, combien en restera t-il?

$14 - 6 = ?$

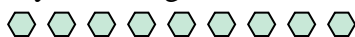
5) Il y a 9 pentagone ci-dessous.



Si vous deviez en retirer 7, combien en restera t-il?

$9 - 7 = ?$


6) Il y a 9 hexagones ci-dessous.



Si vous deviez en retirer 8, combien en restera t-il?

$9 - 8 = ?$

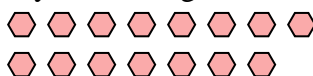
7) Il y a 16 cercles ci-dessous.



Si vous deviez en retirer 6, combien en restera t-il?

$16 - 6 = ?$

8) Il y a 15 hexagones ci-dessous.



Si vous deviez en retirer 9, combien en restera t-il?

$15 - 9 = ?$

9) Il y a 4 hexagones ci-dessous.



Si vous deviez en retirer 3, combien en restera t-il?

$4 - 3 = ?$

10) Il y a 8 hexagones ci-dessous.



Si vous deviez en retirer 3, combien en restera t-il?

$8 - 3 = ?$

1. 12. 43. 84. 85. 26. 17. 108. 69. 110. 5