



Exprimez chaque nombre en utilisant des marques de pointage.

1) 24

---

2) 84

---

3) 85

---

4) 100

---

5) 41

---

6) 51

---

7) 56

---

8) 96

---

9) 49

---

10) 63

---

11) 50


---


12) 65


---



Exprimez chaque nombre en utilisant des marques de pointage.

1) 24  \_\_\_\_\_

2) 84  \_\_\_\_\_

3) 85  \_\_\_\_\_

4) 100  \_\_\_\_\_


5) 41  \_\_\_\_\_

6) 51  \_\_\_\_\_

7) 56  \_\_\_\_\_

8) 96  \_\_\_\_\_

9) 49  \_\_\_\_\_

10) 63  \_\_\_\_\_

11) 50  \_\_\_\_\_

12) 65  \_\_\_\_\_