



Utilisez le tableau pour répondre à chaque question.

Jour	Livres vendus
Lundi	
Mardi	
Mercredi	
jeudi	
vendredi	
samedi	
dimanche	







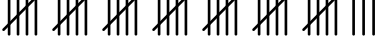
Réponses

1. _____
2. _____
3. _____
4. _____
5. _____
6. _____
7. _____
8. _____
9. _____
10. _____

- 1) Quel jour a eu le moins de livres vendus ?
- 2) Quel jour a eu le plus grand nombre de livres vendus ?
- 3) Combien de livres ont été vendus sur {test} ?
- 4) Pendant combien de jours plus de 45 livres ont-ils été vendus ?
- 5) Pendant combien de jours moins de 28 livres ont-ils été vendus ?
- 6) Quel jour a eu plus de livres vendus? dimanche ou jeudi ?
- 7) Quel jour a eu moins de livres vendus ? samedi ou Lundi ?
- 8) Combien de livres de plus ont été vendus le vendredi que le jeudi ?
- 9) Quel jour exactement 34 livres ont-ils été vendus ?
- 10) Combien de livres de moins ont été vendus le Mardi que le Lundi ?



Utilisez le tableau pour répondre à chaque question.

Jour	Livres vendus	
Lundi		34
Mardi		24
Mercredi		16
jeudi		8
vendredi		10
samedi		47
dimanche		38

Réponses

1. **jeudi**
2. **samedi**
3. **34**
4. **1**
5. **4**
6. **dimanche**
7. **Lundi**
8. **2**
9. **Lundi**
10. **10**

- 1) Quel jour a eu le moins de livres vendus ?
- 2) Quel jour a eu le plus grand nombre de livres vendus ?
- 3) Combien de livres ont été vendus sur {test} ?
- 4) Pendant combien de jours plus de 45 livres ont-ils été vendus ?
- 5) Pendant combien de jours moins de 28 livres ont-ils été vendus ?
- 6) Quel jour a eu plus de livres vendus? dimanche ou jeudi ?
- 7) Quel jour a eu moins de livres vendus ? samedi ou Lundi ?
- 8) Combien de livres de plus ont été vendus le vendredi que le jeudi ?
- 9) Quel jour exactement 34 livres ont-ils été vendus ?
- 10) Combien de livres de moins ont été vendus le Mardi que le Lundi ?