



Faire correspondre le décompte aux graphiques à barres Nom:

Associez chaque tableau au graphique approprié.

Réponses

1)

Nom	Canettes recyclées
Allen	5
Beth	4
Meule	3
Andréa	5
Vallée	4

2)

Nom	Canettes recyclées
Allen	3
Beth	4
Meule	3
Andréa	4
Vallée	3

3)

Nom	Canettes recyclées
Allen	4
Beth	5
Meule	3
Andréa	4
Vallée	4

1. _____

2. _____

3. _____

4. _____

5. _____

6. _____

4)

Nom	Canettes recyclées
Allen	3
Beth	4
Meule	4
Andréa	3
Vallée	5

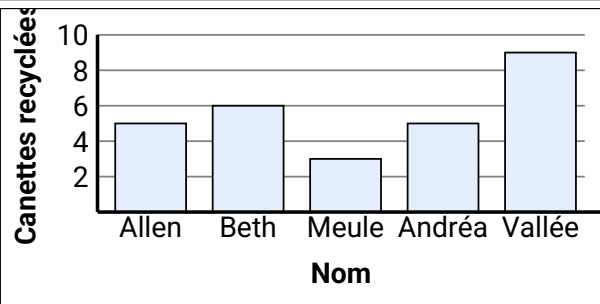
5)

Nom	Canettes recyclées
Allen	4
Beth	4
Meule	5
Andréa	4
Vallée	4

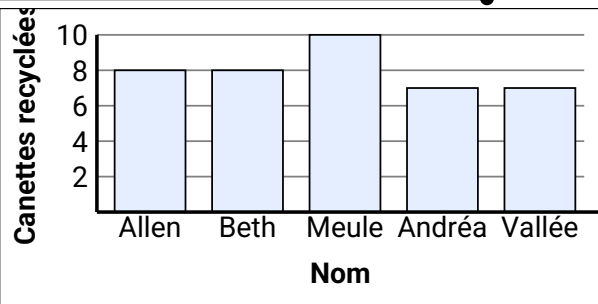
6)

Nom	Canettes recyclées
Allen	4
Beth	4
Meule	4
Andréa	3
Vallée	4

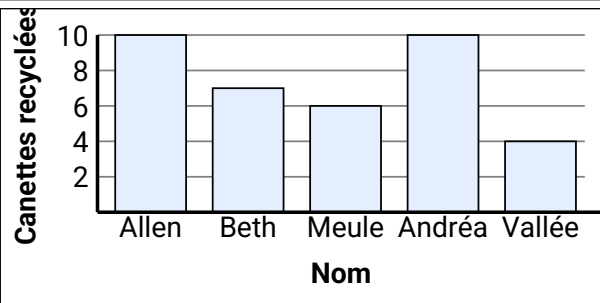
A.



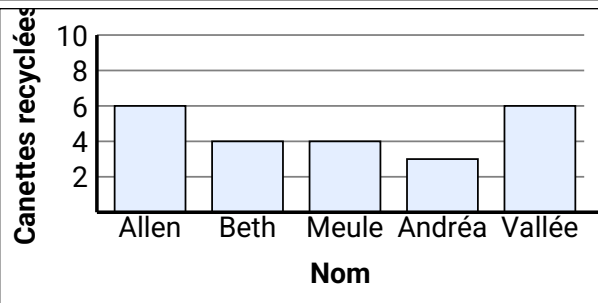
B.



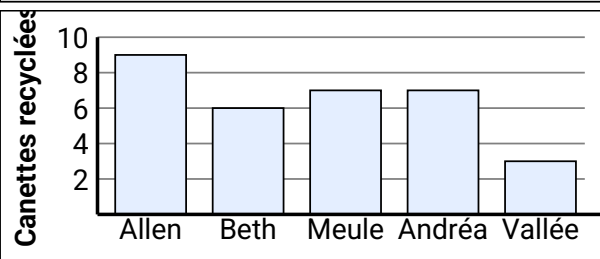
C.



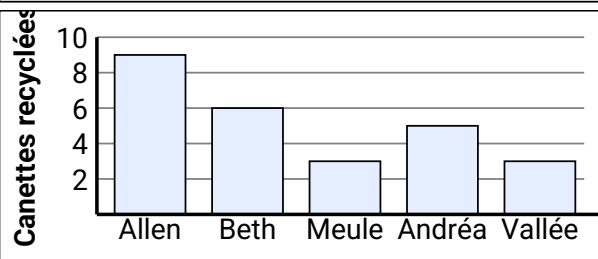
D.



E.



F.





Faire correspondre le décompte aux graphiques à barres Nom:

Clé

Associez chaque tableau au graphique approprié.

Réponses

1)

Nom	Canettes recyclées
Allen	5
Beth	4
Meule	4
Andréa	5
Vallée	4

2)

Nom	Canettes recyclées
Allen	3
Beth	4
Meule	3
Andréa	4
Vallée	3

3)

Nom	Canettes recyclées
Allen	4
Beth	4
Meule	4
Andréa	4
Vallée	4

4)

Nom	Canettes recyclées
Allen	3
Beth	3
Meule	4
Andréa	3
Vallée	4

5)

Nom	Canettes recyclées
Allen	4
Beth	4
Meule	4
Andréa	4
Vallée	4

6)

Nom	Canettes recyclées
Allen	4
Beth	4
Meule	4
Andréa	3
Vallée	4

1. **C**

2. **D**

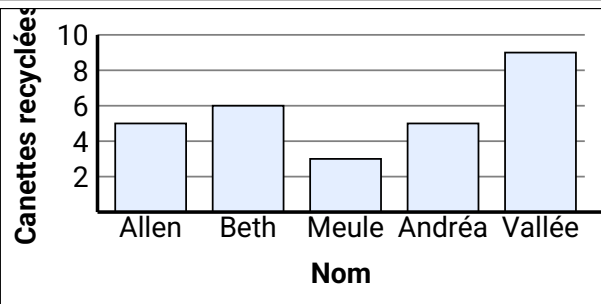
3. **E**

4. **A**

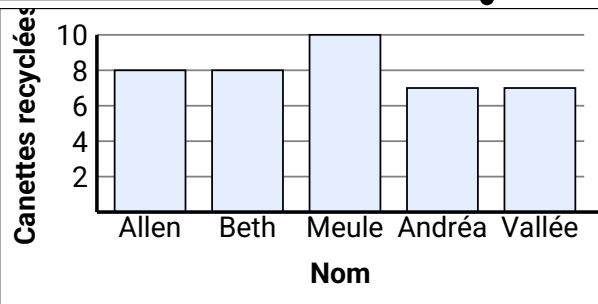
5. **B**

6. **F**

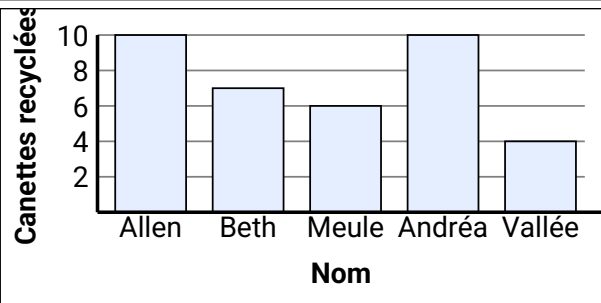
A.



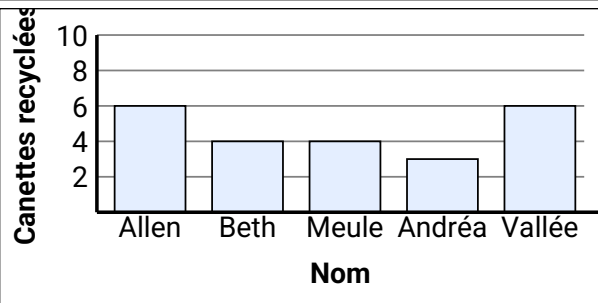
B.



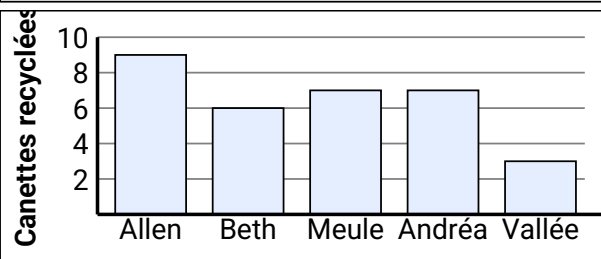
C.



D.



E.



F.

