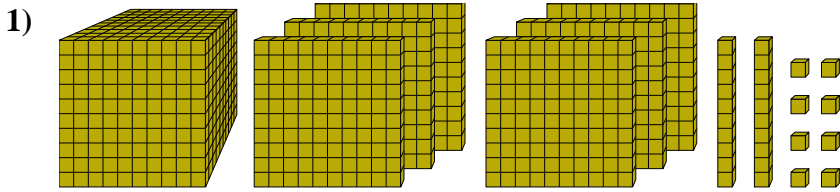




Résoudre chaque problème.

**Réponses**

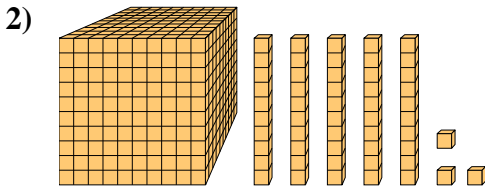


Quel est le chiffre positionné à la dizaines place du nombre ci-dessus?

1. \_\_\_\_\_

2. \_\_\_\_\_

3. \_\_\_\_\_

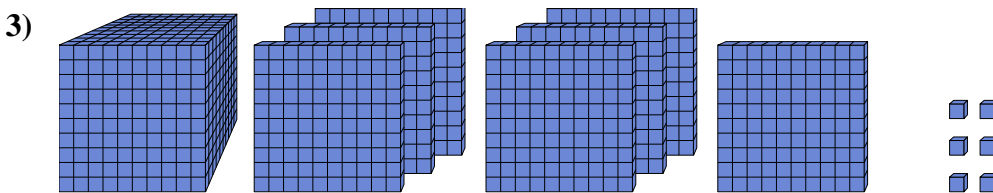


Quel est le chiffre positionné à la dizaines place du nombre ci-dessus?

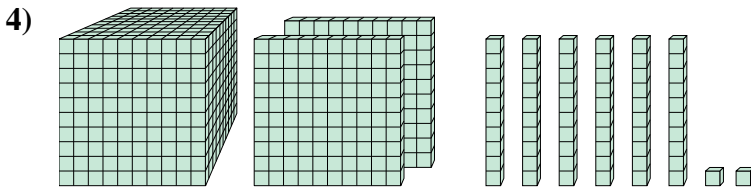
4. \_\_\_\_\_

5. \_\_\_\_\_

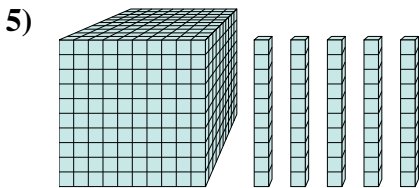
6. \_\_\_\_\_



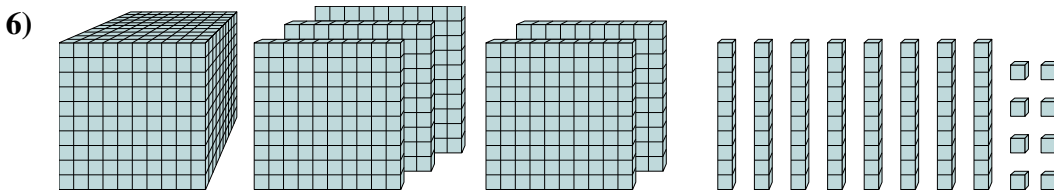
Quel est le chiffre positionné à la billions place du nombre ci-dessus?



Quel est le chiffre positionné à la centaines place du nombre ci-dessus?



Quel est le chiffre positionné à la unités place du nombre ci-dessus?

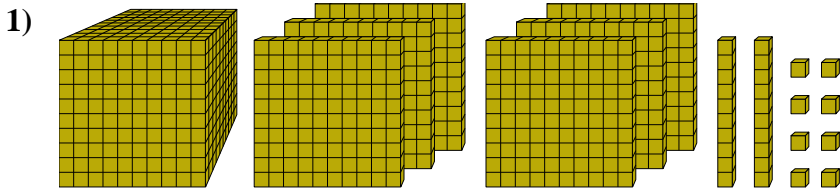


Quel est le chiffre positionné à la billions place du nombre ci-dessus?



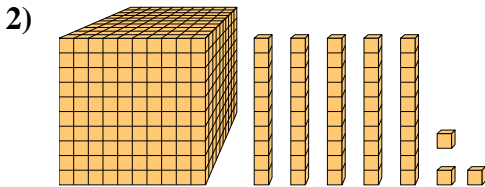
Résoudre chaque problème.

**Réponses**



Quel est le chiffre positionné à la dizaines place du nombre ci-dessus?

1. 2



Quel est le chiffre positionné à la dizaines place du nombre ci-dessus?

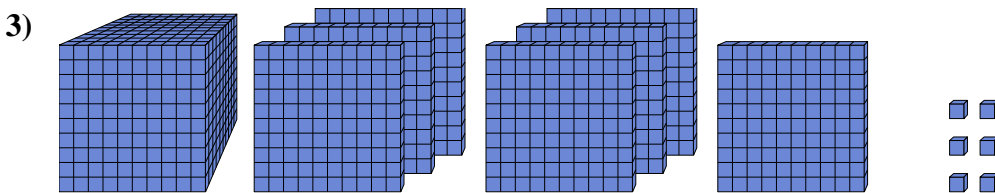
2. 5

3. 7

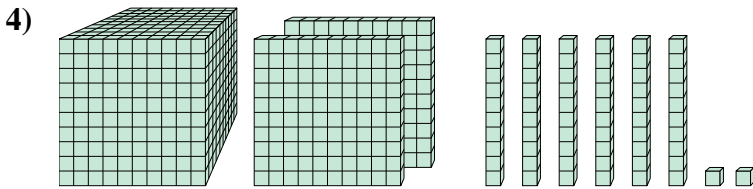
4. 1

5. 0

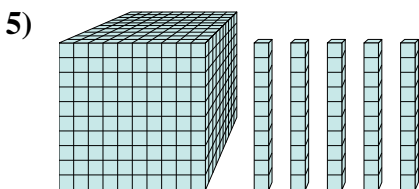
6. 5



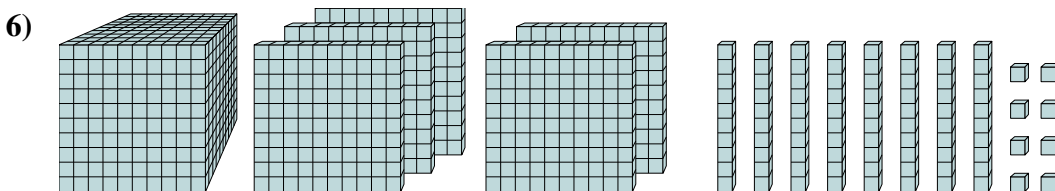
Quel est le chiffre positionné à la milliards place du nombre ci-dessus?



Quel est le chiffre positionné à la centaines place du nombre ci-dessus?



Quel est le chiffre positionné à la unités place du nombre ci-dessus?



Quel est le chiffre positionné à la milliards place du nombre ci-dessus?