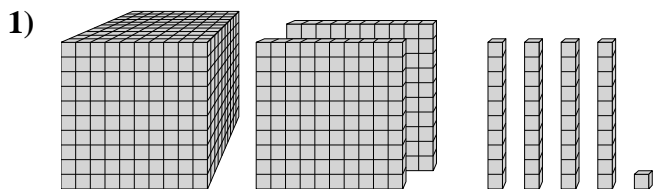




Résoudre chaque problème.

Réponses

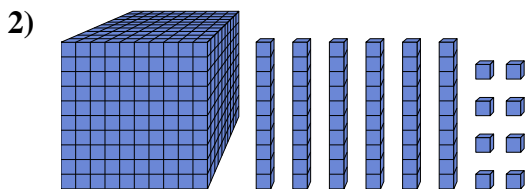


Quel est le chiffre positionné à la dizaines place du nombre ci-dessus?

1. _____

2. _____

3. _____

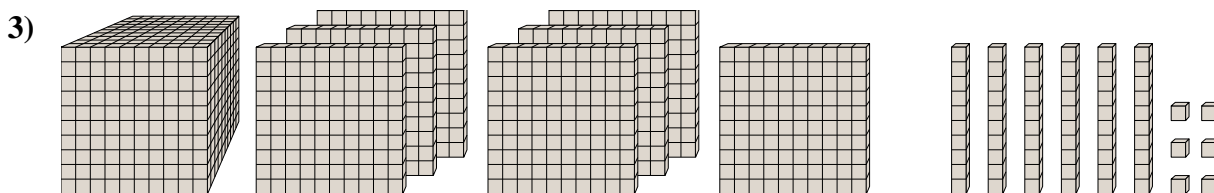


Quel est le chiffre positionné à la centaines place du nombre ci-dessus?

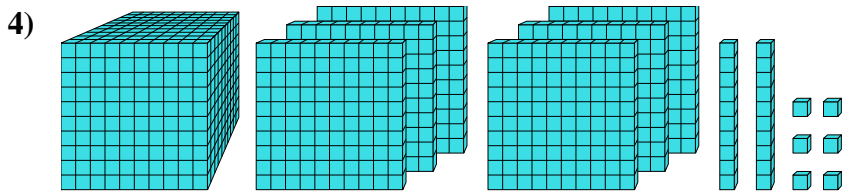
4. _____

5. _____

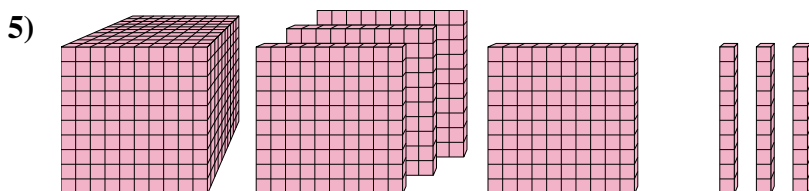
6. _____



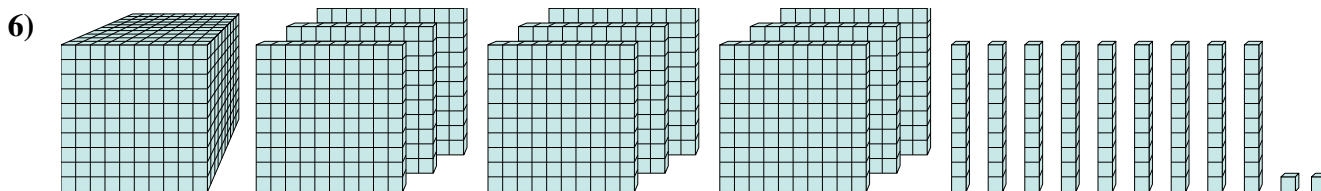
Quel est le chiffre positionné à la dizaines place du nombre ci-dessus?



Quel est le chiffre positionné à la billions place du nombre ci-dessus?



Quel est le chiffre positionné à la centaines place du nombre ci-dessus?

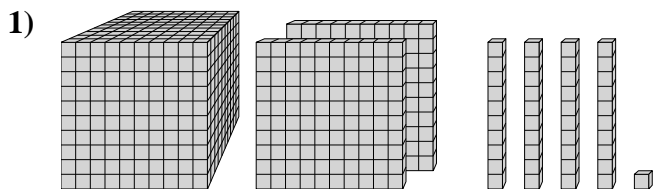


Quel est le chiffre positionné à la unités place du nombre ci-dessus?



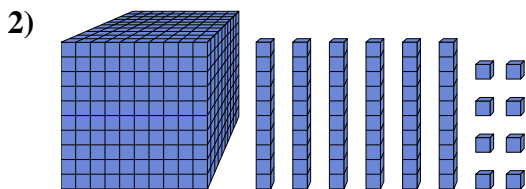
Résoudre chaque problème.

Réponses



Quel est le chiffre positionné à la dizaines place du nombre ci-dessus?

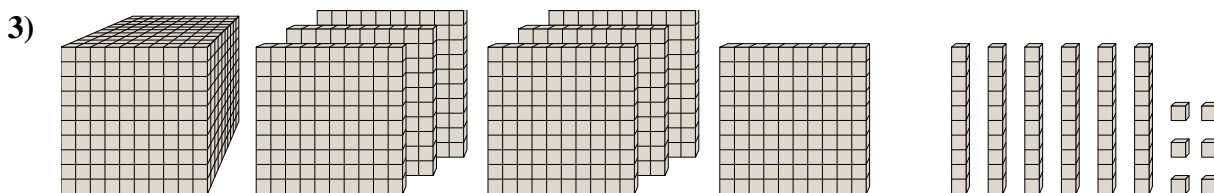
1. 4



Quel est le chiffre positionné à la centaines place du nombre ci-dessus?

2. 1

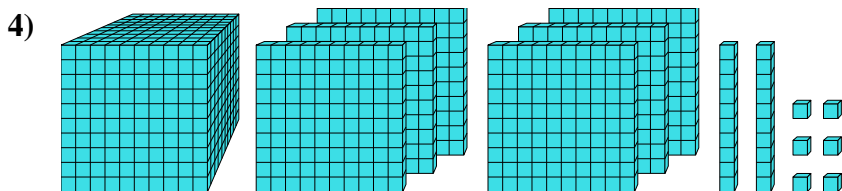
3. 6



Quel est le chiffre positionné à la dizaines place du nombre ci-dessus?

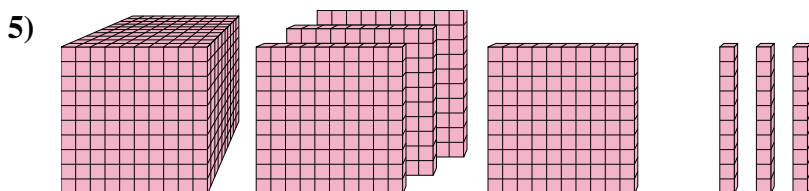
4. 6

5. 1

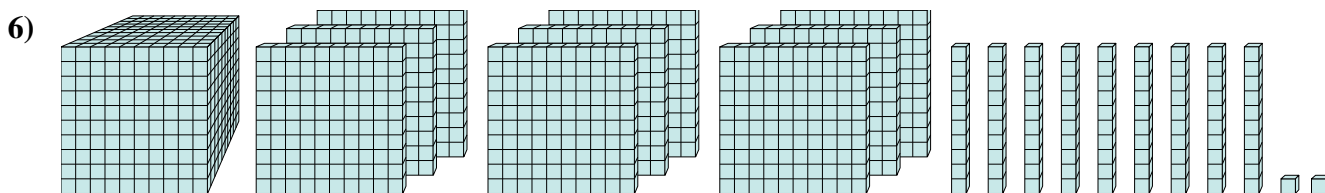


Quel est le chiffre positionné à la billions place du nombre ci-dessus?

6. 2



Quel est le chiffre positionné à la centaines place du nombre ci-dessus?



Quel est le chiffre positionné à la unités place du nombre ci-dessus?