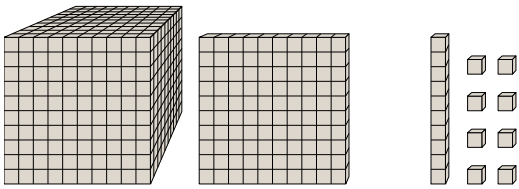




Résoudre chaque problème.

Réponses

1)



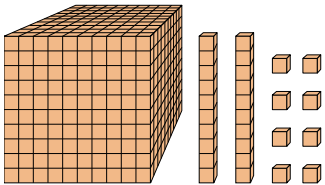
Quel est le chiffre positionné à la centaines place du nombre ci-dessus?

1. _____

2. _____

3. _____

2)



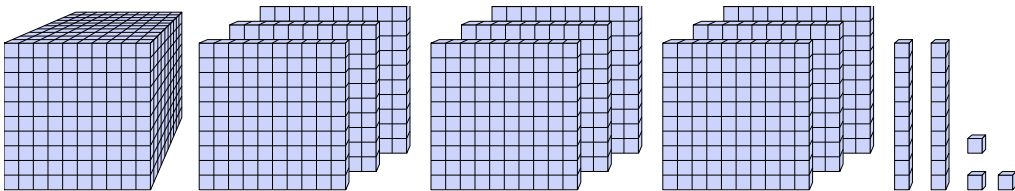
Quel est le chiffre positionné à la billions place du nombre ci-dessus?

4. _____

5. _____

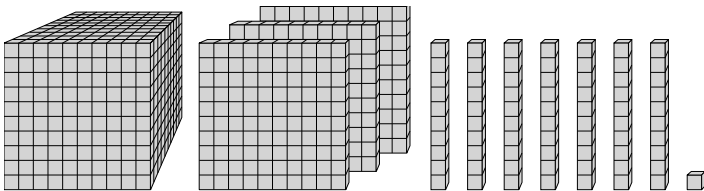
6. _____

3)



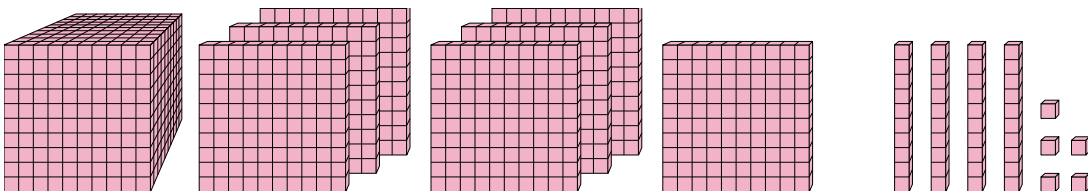
Quel est le chiffre positionné à la dizaines place du nombre ci-dessus?

4)



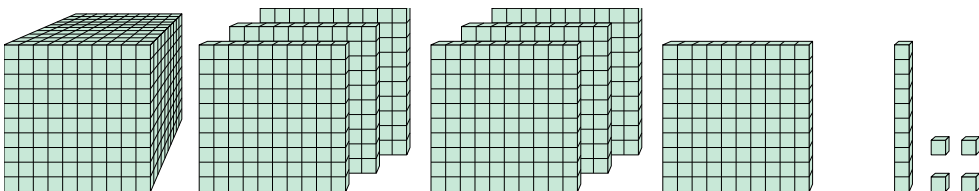
Quel est le chiffre positionné à la unités place du nombre ci-dessus?

5)



Quel est le chiffre positionné à la centaines place du nombre ci-dessus?

6)

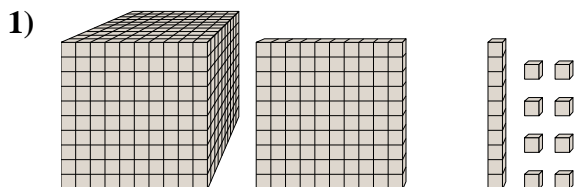


Quel est le chiffre positionné à la billions place du nombre ci-dessus?



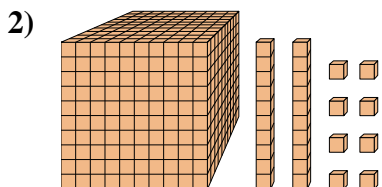
Résoudre chaque problème.

Réponses



Quel est le chiffre positionné à la centaines place du nombre ci-dessus?

1. 1



Quel est le chiffre positionné à la billions place du nombre ci-dessus?

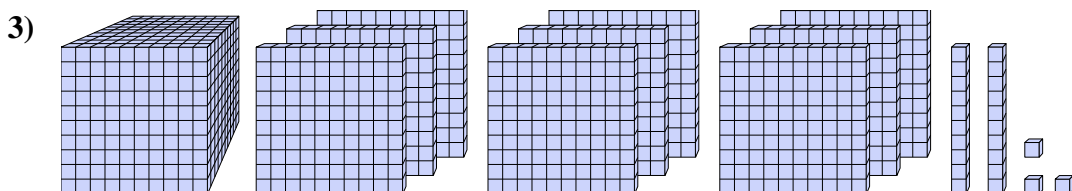
2. 0

3. 2

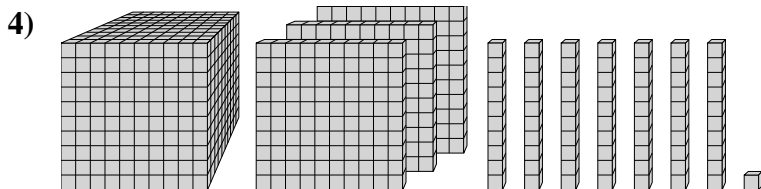
4. 1

5. 1

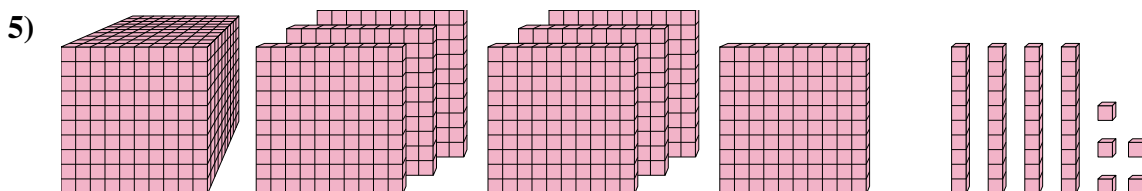
6. 7



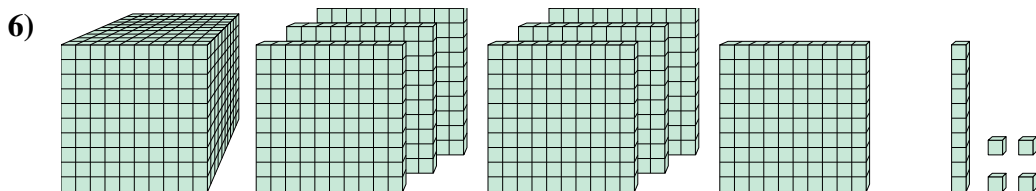
Quel est le chiffre positionné à la dizaines place du nombre ci-dessus?



Quel est le chiffre positionné à la unités place du nombre ci-dessus?



Quel est le chiffre positionné à la centaines place du nombre ci-dessus?



Quel est le chiffre positionné à la billions place du nombre ci-dessus?