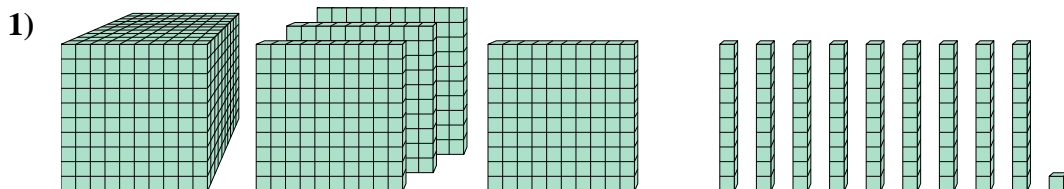




Résoudre chaque problème.

**Réponses**

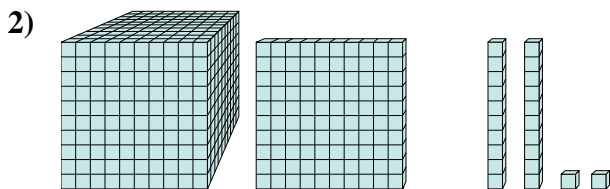


Quel est le chiffre positionné à la milliards place du nombre ci-dessus?

1. \_\_\_\_\_

2. \_\_\_\_\_

3. \_\_\_\_\_

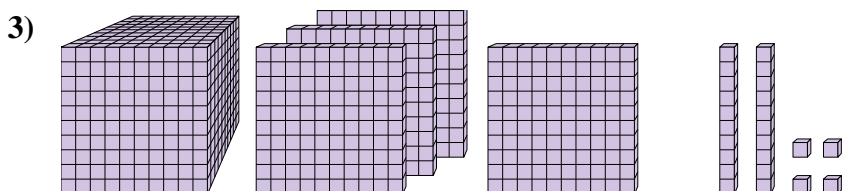


Quel est le chiffre positionné à la milliards place du nombre ci-dessus?

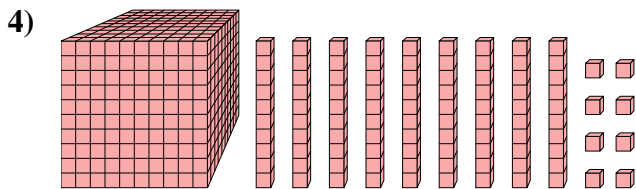
4. \_\_\_\_\_

5. \_\_\_\_\_

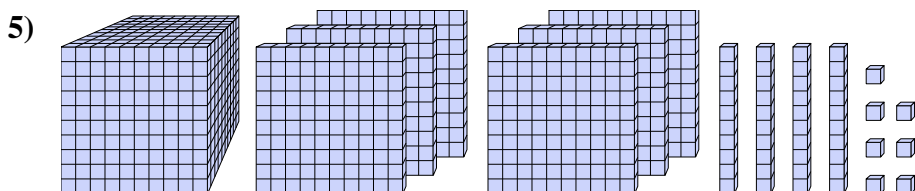
6. \_\_\_\_\_



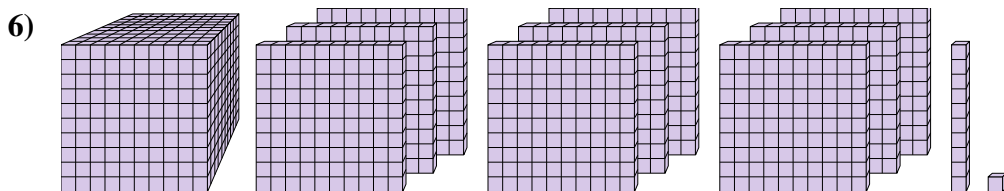
Quel est le chiffre positionné à la unités place du nombre ci-dessus?



Quel est le chiffre positionné à la centaines place du nombre ci-dessus?



Quel est le chiffre positionné à la milliards place du nombre ci-dessus?

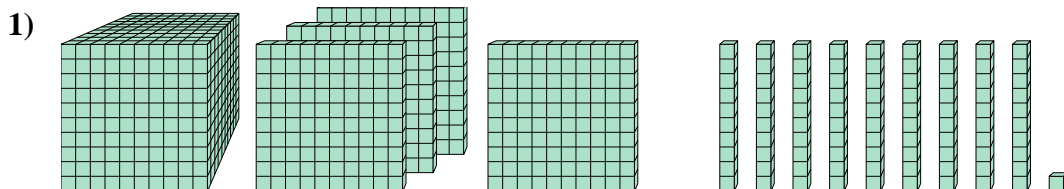


Quel est le chiffre positionné à la dizaines place du nombre ci-dessus?



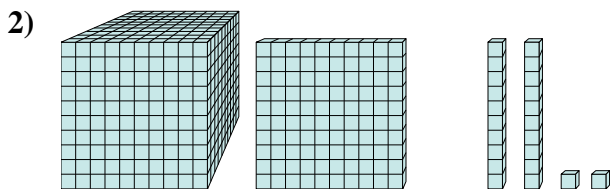
Résoudre chaque problème.

**Réponses**



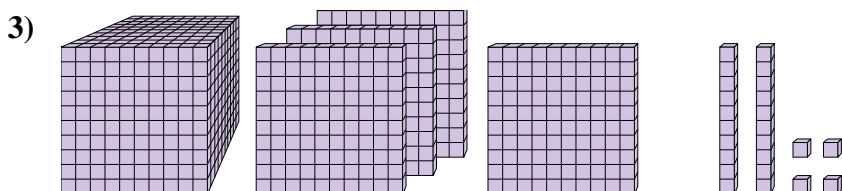
Quel est le chiffre positionné à la milliards place du nombre ci-dessus?

1. 4



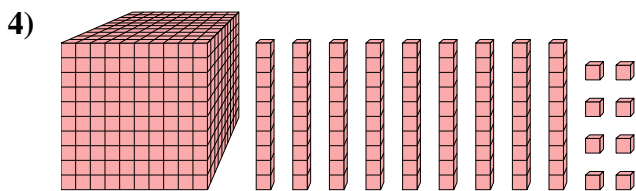
Quel est le chiffre positionné à la milliards place du nombre ci-dessus?

2. 1



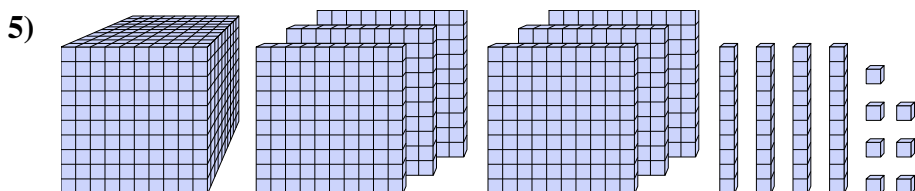
Quel est le chiffre positionné à la unités place du nombre ci-dessus?

3. 4



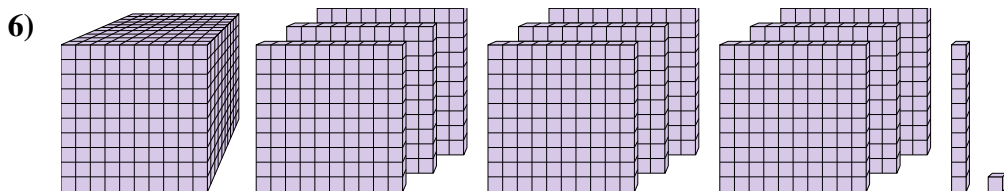
Quel est le chiffre positionné à la centaines place du nombre ci-dessus?

4. 1



Quel est le chiffre positionné à la milliards place du nombre ci-dessus?

5. 6



Quel est le chiffre positionné à la dizaines place du nombre ci-dessus?

6. 1