




Comparez le nombre de figures.

1)

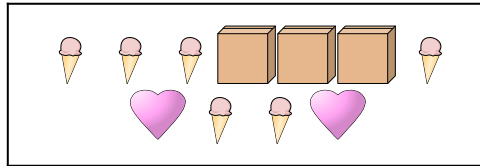


Y a-t-il plus de  ou de  ?

A. 

B. 

2)




Y a-t-il plus de  ou de  ?

A. 


B. 

3)




Y a-t-il moins de  ou de  ?

A. 

B. 

4)

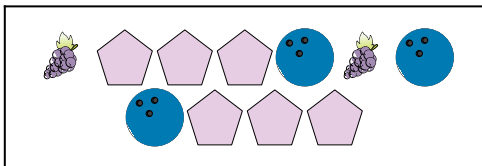




Y a-t-il moins de  ou de  ?

A. 

B. 

5)






Y a-t-il moins de  ou de  ?

A. 


B. 

6)



Y a-t-il moins de  ou de  ?

A. 


B. 

Réponses


- 1. \_\_\_\_\_
- 2. \_\_\_\_\_
- 3. \_\_\_\_\_
- 4. \_\_\_\_\_
- 5. \_\_\_\_\_
- 6. \_\_\_\_\_




Comparez le nombre de figures.




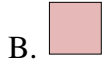
Y a-t-il plus de ou de ?



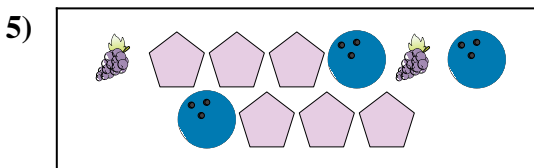
Y a-t-il plus de ou de ?




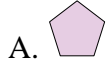
Y a-t-il moins de ou de ?



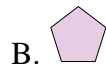
Y a-t-il moins de ou de ?



Y a-t-il moins de ou de ?



Y a-t-il moins de ou de ?



**Réponses**

1. **B**

2. **B**

3. **A**

4. **A**

5. **B**

6. **B**